

Enw'r Ymgeisydd	Rhif y Ganolfan	Rhif yr Ymgeisydd

CYD-BWYLLGOR ADDYSG CYMRU

Tystysgrif Gyffredinol Addysg Uwchradd



WELSH JOINT EDUCATION COMMITTEE

General Certificate of Secondary Education

122/51

ASTUDIAETHAU BUSNES

PAPUR 1 (G-C)

HAEN SYLFAENOL

P.M. DYDD IAU, 14 Mehefin 2007

(2 Awr)

I'r Arholwr yn unig

Cwestiwn	Marc uchaf	Marc a ddyfarnwyd
1.	3	
2.	3	
3.	2	
4.	4	
5.	4	
6.	20	
7.	14	
8.	10	
9.	20	
10.	20	
ACY	5	
Cyfanswm	105	

DEUNYDDIAU YCHWANEGOL

Cewch ddefnyddio cyfrifiannell.

CYFARWYDDIADAU I YMGEISWYR

Ysgrifennwch eich enw, rhif y ganolfan a'ch rhif ymgeisydd yn y blychau ar ben y dudalen hon.

Atebwch **bob** cwestiwn.

Ysgrifennwch eich atebion i bob cwestiwn yn y lleoedd gwag priodol yn y llyfryn cwestiwn-ac-ateb hwn.

GWYBODAETH I YMGEISWYR

Dangosir nifer y marciau ar gyfer pob rhan o gwestiwn mewn cromfachau.

Cewch farciau am ansawdd eich cyfathrebu ysgrifenedig.







Ni roddir tystysgrif i ymgeisydd a geir yn ymddwyn yn annheg yn ystod yr arholiad.

Atebwch **bob** cwestiwn yn y lleoedd gwag priodol.

1. Pa **dri** o'r canlynol sy'n cael eu galw'n **ffactorau cynhyrchu**?







[3]

D.S. Ticiwch **dri** blwch yn unig.

Tir		Trydyddol	
Arian		Llafur	
Cyfalaf		Benthyciad Banc	

2. Pa **dri** o'r canlynol sy'n enghreifftiau o **gostau sefydlog** sy'n cael eu talu gan siop goffi? [3]

D.S. Ticiwch **dri** blwch yn unig.

Taliad misol am beiriant am gwneud coffi.		Bil am drydan i yrru'r peiriannau gwneud coffi.	
Talu ardrethi (rates) busnes ar yr adeilad.		Cost cynhwysion (ingredients).	
Treth ar Werth a dalwyd i'r Llywodraeth.		Rhent am y siop.	


3. Pa ddau o'r canlynol sy'n berthnasol i **gwmniau cyfyngedig preifat**?

[2]

D.S. Ticiwch ddau flwch yn unig.

<p>Uchafswm nifer y cyfranddalwyr yw ugain.</p>			<p>Ni chaiff cyfranddaliadau eu gwerthu ar y Gyfnewidfa Stoc.</p>		
<p>Ar ôl enw'r cwmni rhoddir y llythrennau "Cyf".</p>	 <p>a'i Gwmni Cyf</p>		<p>Ar ôl enw'r cwmni rhoddir y llythrennau "ccc".</p>		

4. Isod mae rhestr o weithwyr a gyflogir yn y gwahanol sectorau o'r economi.

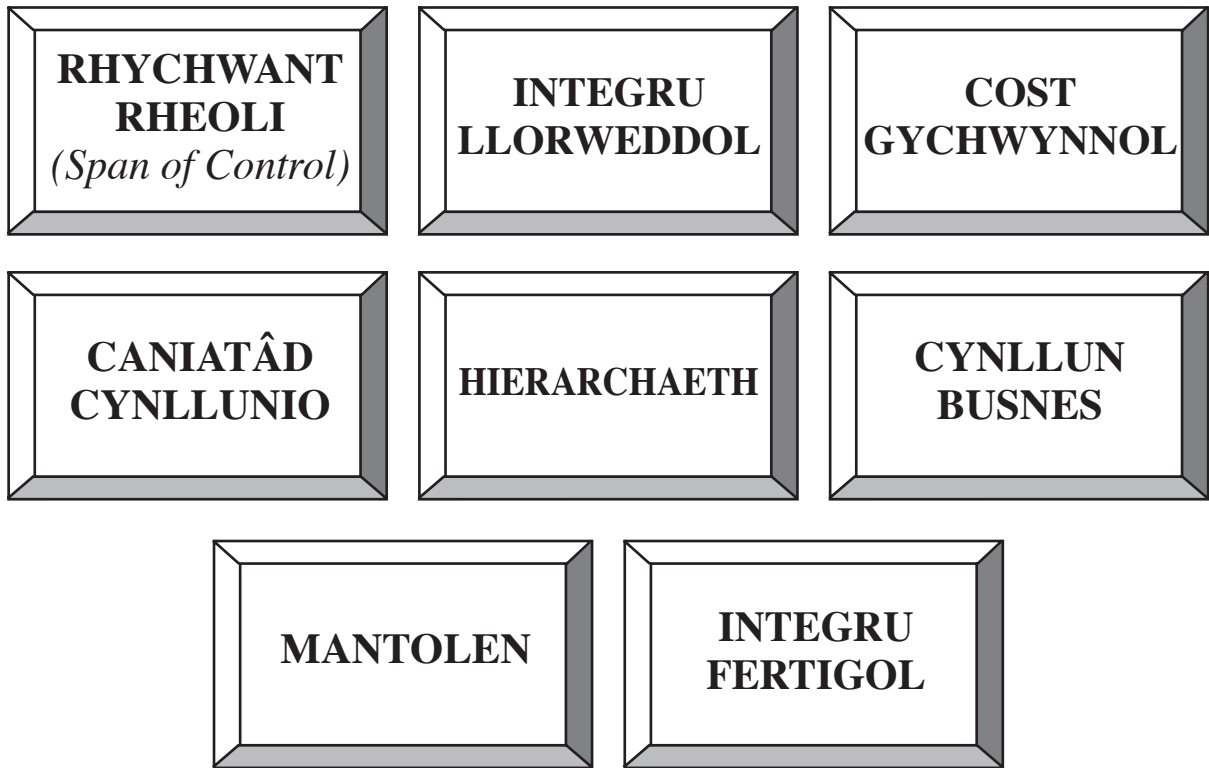
 <p>Gweithiwr ceir</p>	 <p>Gweithiwr drilio am olew</p>	 <p>Meddyg</p>	 <p>Tyfwwr afalau</p>
 <p>Gweithiwr coedwigaeth</p>	 <p>Rhaglennydd cyfrifiadur</p>	 <p>Glöwr</p>	 <p>Llafurwr safle adeiladu</p>

Dewiswch y **pedwar** sy'n gweithio yn y sector cynradd ac ysgrifennwch eu swyddi yn y tabl isod.

[4]

GWEITHWYR CYNRADD

5. Isod mae nifer o dermau ac ymadroddion a ddefnyddir mewn busnes.



Pa un o'r uchod sy'n disgrifio **pob un** o'r canlynol orau:

[4]

(a) nifer y bobl y mae rhywun mewn busnes yn uniongyrchol gyfrifol amdanynt;

.....

(b) mesur o asedau a rhwymedigaethau busnes;

.....

(c) cwmni yn trosfeddiannu (*taking over*) un o'i gyflenwyr defnyddiau crai;


.....

(ch) dogfen y mae busnes yn ei llunio sydd â'r nod o berswadio banc i fenthyca arian iddo?

.....

TUDALEN WAG

6. Mae Frank James yn berchen ar ystafell de fychan mewn tref lan môr yng Ngorllewin Cymru.



(a) Mae Frank yn rhedeg ei ystafell de fel **unig fasnachwr**. Awgrymwch ac eglurwch **ddau** reswm pam mae'r math hwn o gyfundrefn fusnes yn addas ar gyfer Frank. [4]

(i)

.....

.....

.....

(ii)

.....

.....

.....

Hoffai Frank gyflogi gweithiwr ychwanegol.

(b) Awgrymwch **ddwy** eitem a allai gael eu gweld mewn disgrifiad swydd **ac** eglurwch pam y maent yn bwysig. [4]

(i)

.....

.....

.....

(ii)

.....

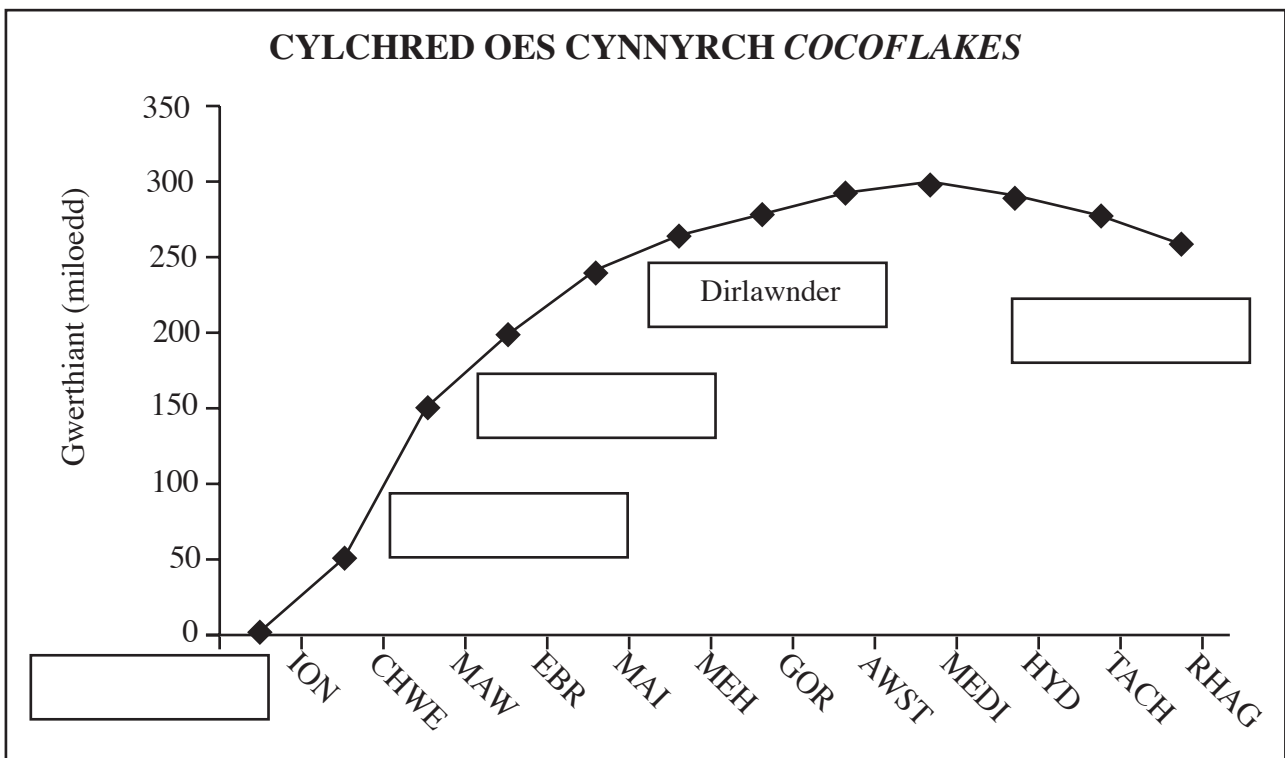
.....

.....

7. Mae *Nettles ccc* yn cynhyrchu grawnfwyd brecwast. Ar 1 Ionawr 2006 gwnaethant gyflwyno grawnfwyd brecwast newydd ar gyfer plant sef *CocoFlakes*. Golygodd hyrwyddiadau (*promotions*) cynnar fod y cynnyrch wedi gwerthu'n dda ar y cychwyn ond yn y pen draw gostyngodd gwerthiant.



- (a) Ar y graff cylchred oes cynnyrch isod cwblhewch y labeli i ddangos **Dirywiad**, **Aeddfedrydd**, **Twf** a **Lansio** drwy lenwi'r blychau priodol. [4]



- (b) (i) Ym mha fis y dechreuodd gwerthiant ostwng? [1]

.....

- (ii) Beth oedd lefel uchaf y gwerthiant y mis hwnnw? [1]

.....

(c) Eglurwch beth sy'n digwydd yn y cyfnod **Aeddfedrwydd** yng nghylchred oes cynnyrch *CocoFlakes*. [2]

.....
.....
.....
.....

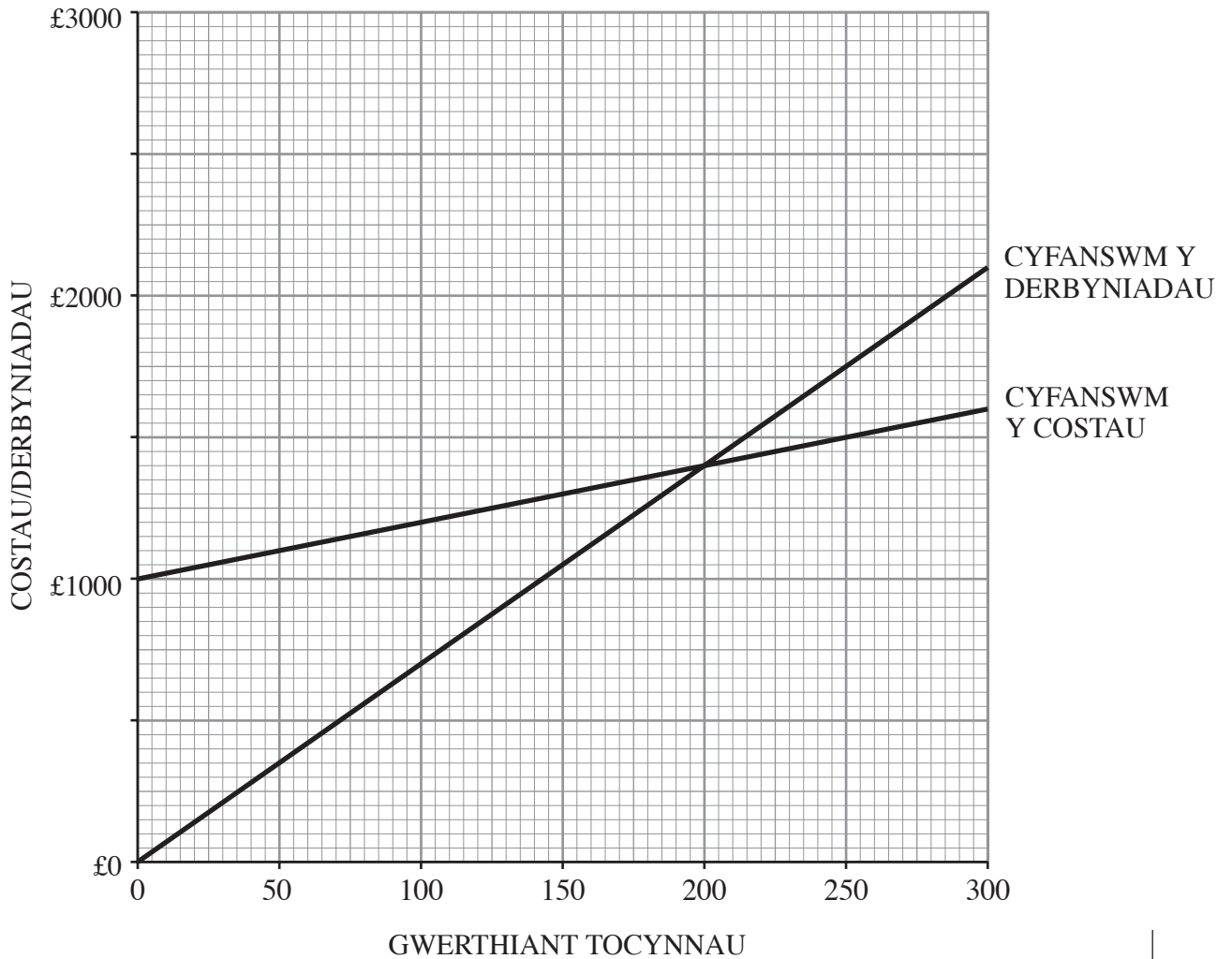
(ch) Awgrymwch a gwerthuswch **ddwy** strategaeth farchnata y gallai *Nettlies ccc* eu mabwysiadu i atal gwerthiant rhag gostwng. [6]

(i)
.....
.....
.....
.....
.....

(ii)
.....
.....
.....
.....
.....

8. Mae Theatr Ddraig yn theatr fach yn nhref Llandisant yng nghanolbarth Cymru. Gall y theatr gael cynulleidfa o hyd at 300 o bobl. Mae pob person sy'n mynd i berfformiad yn talu £7, felly pan fydd y theatr yn llawn derbynnir £2,100.

Isod mae siart adennill costau (*break-even*) sy'n rhannol orffenedig.



- (a) Ar y diagram uchod lluniadwch a labelwch linell y costau sefydlog. [2]
- (b) Eglurwch ystyr **adennill costau** (*break-even*). [1]

.....

.....

- (c) Faint o docynnau y mae'n rhaid eu gwerthu er mwyn i'r theatr adennill costau? [1]

.....

- (ch) Faint o elw y bydd y cwmni theatr yn ei wneud pan fydd y theatr yn llawn? [2]

.....

.....

.....

(d) Mae'r theatr wedi cael gwerthiant siomedig. Mae'r perchenogion wedi penderfynu cynnal ymchwil marchnata i ddarganfod beth y gellir ei wneud i gynyddu maint ei chynulleidfaoedd. Disgrifiwch **ddau** fath o ymchwil marchnata y gallent eu defnyddio. [4]

(i)

.....

.....

.....

(ii)

.....

.....

.....

9. Fiona Howe yw'r Rheolwr-Gyfarwyddwr a'r prif gyfranddaliwr yn *Posh Paws Cyf*. Mae'r busnes yn darparu gwasanaethau trin (*grooming*) ar gyfer cŵn a chathod mewn siop ar gyrion tref fawr. Mae gan y busnes uned symudol hefyd sy'n ymweld ag anifeiliaid anwes yng nghartrefi eu perchenogion.



Mae'r cwmni'n cyflogi deg gweithiwr sy'n cael eu talu £9 yr awr am wythnos o ddeugain (pedwar deg) awr. Mae cyflog oriau ychwanegol yn cael ei dalu ar £13.50 yr awr.

(a) Yn ystod un wythnos brysur mae'r gweithwyr yn gweithio am 50 awr yr un. Beth yw cyfanswm bil y cyflogau y mae'r cwmni'n eu talu i'w weithwyr? (Dangoswch eich gwaith cyfrifo.) [2]

.....
.....
.....
.....

(b) Mae cynnydd yn nifer y cwsmeriaid yn golygu bod angen i Fiona ehangu'r busnes. Awgrymwch ac eglurwch **ddwy** ffynhonnell briodol o gyllid y gallai hi eu hystyried i godi'r arian. [4]

(i)

.....
.....
.....

(ii)

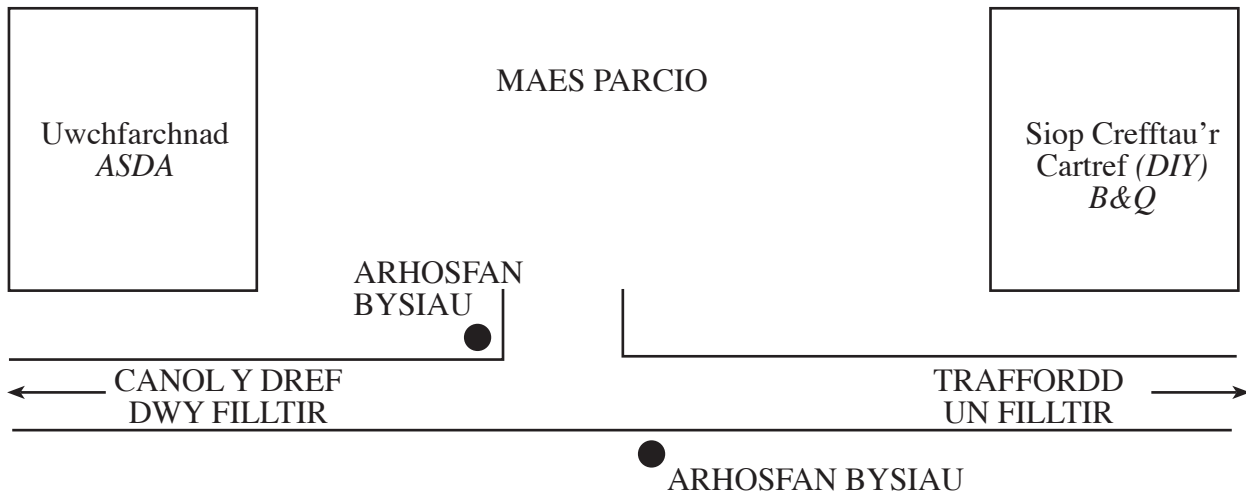
.....
.....
.....

(c) Mae Fiona'n gallu cael digon o arian i naill ai estyn y siop neu brynu fan newydd. Mae hi'n penderfynu estyn y siop. Defnyddiwch yr enghraifft hon i egluro ystyr y term **cost ymwad** (*opportunity cost*). [2]

.....
.....
.....
.....

10. Isod mae map sy'n dangos parc adwerthu ddwy filltir o ganol tref ganolig ei maint yng Nghymru.

Siop Ddodrefn <i>DFS</i>	Siop Nwyddau Trydanol <i>Comet</i>	Siop Ddodrefn <i>SCS</i>	Siop Dodrefn y Cartref <i>Harvey's</i>	Uned Wag
-----------------------------	---------------------------------------	-----------------------------	---	----------



(a) Awgrymwch ac eglurwch **un** fantais ac **un** anfantais i Siop Ddodrefn SCS o gael ei lleoli yn y parc adwerthu hwn. [4]

Mantais

.....

.....

.....

Anfantais

.....

.....

.....

(b) Eglurwch sut y gallai'r parc adwerthu hwn effeithio ar fusnesau yng nghanol y dref. [4]

.....

.....

.....

.....

.....

.....

.....

.....

.....

(c) Mae SCS yn gwerthu ei dodrefn o'i siopau niferus ledled y Deyrnas Unedig. Eglurwch **ddau o'r darbodion maint** y gallai elwa o'u herwydd. [4]

(i)

.....

.....

.....

.....

.....

(ii)

.....

.....

.....

.....

.....

