

Enw'r Ymgeisydd	Rhif y Ganolfan	Rhif yr Ymgeisydd

CYD-BWYLLGOR ADDYSG CYMRU

Tystysgrif Gyffredinol Addysg Uwchradd



WELSH JOINT EDUCATION COMMITTEE

General Certificate of Secondary Education

122/51

ASTUDIAETHAU BUSNES

PAPUR 1 (G-C)

HAEN SYLFAENOL

P.M. DYDD IAU, 15 Mehefin 2006

(2 Awr)

I'r Arholwr yn unig		
Cwestiwn	Marc uchaf	Marc a ddyfarnwyd
1.	3	
2.	2	
3.	3	
4.	3	
5.	3	
6.	15	
7.	14	
8.	17	
9.	20	
10.	20	
ACY	5	
Cyfanswm	105	

DEUNYDDIAU YCHWANEGOL

Cewch ddefnyddio cyfrifiannell.

CYFARWYDDIADAU I YMGEISWYR

Ysgrifennwch eich enw, rhif y ganolfan a'ch rhif ymgeisydd yn y blychau ar ben y dudalen hon.

Atebwch **bob** cwestiwn.

Ysgrifennwch eich atebion i bob cwestiwn yn y lleoedd gwag priodol yn y llyfryn cwestiwn-ac-ateb hwn.

GWYBODAETH I YMGEISWYR

Dangosir nifer y marciau ar gyfer pob rhan o gwestiwn mewn cromfachau.







Cewch farciau am ansawdd eich cyfathrebu ysgrifenedig.

Ni roddir tystysgrif i ymgeisydd a geir yn ymddwyn yn annheg yn ystod yr arholiad.

Atebwch **bob** cwestiwn yn y lleoedd gwag priodol.

1. Pa **dri** o'r canlynol sy'n gyfrifoldebau'r adran bersonél neu'r adran adnoddau dynol mewn cwmni? [3]

D.S. Ticiwch **dri** blwch yn unig.

<p>Cwynion cwsmeriaid</p> 		<p>Cwblhau'r cyfrifon</p> 	
<p>Hysbysebu swyddi</p> 		<p>Gofalu am les y gweithwyr</p> 	
<p>Dewis ymgeiswyr swyddi newydd</p> 		<p>Cynllunio cynhyrchu</p> 	

2. Pa **ddau** o'r canlynol sy'n ddulliau ymchwil desg? [2]

D.S. Ticiwch **ddau** flwch yn unig.

Darllen cylchgronau masnach

Defnyddio arolygon ffôn

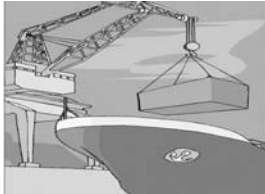


Defnyddio profion defnyddwyr

Edrych ar ystadegau'r Llywodraeth

3. Pa **dri** o'r canlynol sydd wedi digwydd o ganlyniad i'r ffaith fod Prydain yn aelod o'r Undeb Ewropeaidd? [3]

D.S. Ticiwch **dri** blwch yn unig.

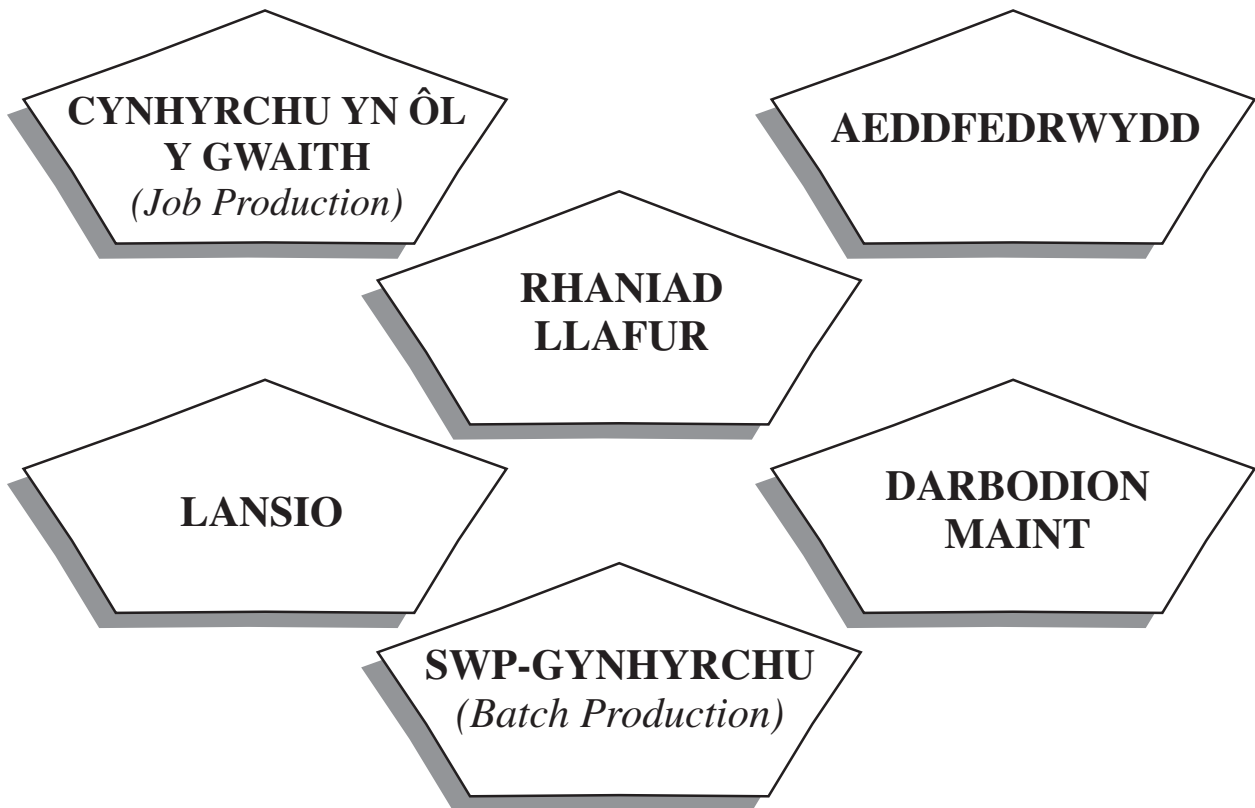


Llai o fasnach rhwng busnesau Prydeinig ac Ewrop.	
Gweithwyr Prydeinig yn ei chael hi'n haws cael hyd i waith yng ngwledydd yr Undeb Ewropeaidd.	
Mwy o fasnach gydag Unol Daleithiau America.	
Dim tollau (<i>customs duties</i>) yn cael eu talu wrth symud nwyddau rhwng gwledydd yr Undeb Ewropeaidd.	
Mwy o fasnach gyda gwledydd eraill yr Undeb Ewropeaidd.	

4. Mae Mohammed Quereshi yn gwneud cais i'w fanc am fenthyciad. Gofynnwyd iddo anfon cynllun busnes. Rhestrwch **dri** darn o wybodaeth **ariannol** y gallai Mohammed eu cynnwys yn ei gynllun busnes. [3]

- (i)
- (ii)
- (iii)

5. Isod mae nifer o dermau ac ymadroddion a ddefnyddir mewn busnes.



Pa un o'r uchod sy'n disgrifio **pob un** o'r canlynol orau:

[3]

(a) dull cynhyrchu lle caiff nwyddau eu gwneud yn unol ag archebion cwsmeriaid unigol;

.....

(b) system lle mae gweithwyr yn arbenigo yn y swydd y maent fwyaf medrus ynddi;

.....

(c) cyflwyno nwydd newydd i'r farchnad?

.....

TUDALEN WAG

6.



Mae'r ffotograff uchod yn dangos siop fferyllydd (*chemist*) ger meddygfa (*doctor's surgery*). Mae hi ar briffordd sy'n mynd trwy stad fawr o dai ar gyrion (*outskirts*) tref yng Nghymru. Mae'r siop yn fusnes adwerthu cydweithredol.

- (a) Ym mha sector - cynradd, eilaidd neu drydyddol - y mae'r busnes hwn yn gweithredu? Rhowch reswm dros eich ateb. [2]

.....

.....

- (b) Pa **un**, o'r rhestr isod, sy'n berchenogion busnes adwerthu cydweithredol? Tanlinellwch eich ateb. [1]

Y Llywodraeth

Y trethdalwyr

Y cwsmeriaid

- (c) Awgrymwch ac eglurwch **ddau** reswm pam mae'r siop fferyllydd sydd i'w gweld yn y ffotograff mewn lleoliad da. [4]

(i)

.....

.....

(ii)

.....

.....

7. Mae *Carl's Cars* yn garej o faint canolog yn nhref Tonnewydd. Mae'r busnes yn cyflogi wyth mecanydd sy'n cael eu talu £11 yr awr.

Isod mae slip cyflog ar gyfer Jane Price, un o'r mecanyddion sy'n gweithio i *Carl's Cars*. Astudiwch y slip cyflog ac atebwch y cwestiynau sy'n dilyn.



Carl's Cars					
Slip Cyflog					
DYDDIAD	WYTHNOS DRETH	ENW			
20/6/06	12	Jane Price			
RHIF Y.G.	COD TRETH	BANC	COD BANC	CYFRIF	
YM123456D	458L	Lloyds TSB	30-90-70	00772311	
ELENI					
CYFLOG TRETHADWY	TRETH A DALWYD	YSWIRIANT GWLADOL	PENSIWN	RHODD ELUSENNOL	
£5200.00	£750.00	£500.00	£312.00	£24.00	
YR WYTHNOS HON					
CYFLOG CRYNSWTH		DIDYNIADAU		CYFANSYMLIAU	
SYLFAENOL	£440.00	PAYE	£63.00	CYFLOG CRYNSWTH	
		Y.G.	£44.00	LLAI	
		PENSIWN	£26.00		
		ELUSEN	£2.00		
CYFLOG CRYNSWTH	£440.00	CYFANSWM	£135.00	CYFLOG NET	?

- (a) Cyfrifwch gyflog net Jane Price. (Dangoswch eich gwaith cyfrifo.)

[2]

.....

.....

.....

.....

- (b) Caiff treth incwm ei chasglu gan ddefnyddio system a elwir yn *PAYE*. Beth mae'r llythrennau hyn yn ei gynrychioli (yn Saesneg)?

[1]

.....

8. Mae Julian Smith yn awyddus i gychwyn ei fusnes ei hun ar ôl cael gradd. Mae'n credu bod cyfleoedd ar gael iddo yn ei ddinas ei hun, sef Abertawe, i gychwyn busnes glanhau swyddfeydd.



(a) Awgrymwch **dri** rheswm pam mae Julian yn dymuno cychwyn ei fusnes ei hun. [3]

(i)

.....

(ii)

.....

(iii)

.....

(b) Mae Julian yn ystyried rhedeg ei fusnes fel unig fasnachwr. Awgrymwch ac eglurwch **ddwy** broblem y gallai Julian eu hwynebu. [4]

(i)

.....

(ii)

.....

(c) Awgrymwch **ddau** fath o gyfathrebu allanol y gallai Julian eu defnyddio wrth redeg ei fusnes. [2]

(i)

(ii)

9. Darllenwch yr erthygl isod ac atebwch y cwestiynau sy'n dilyn.

Cawr ym myd jîns mewn brwydr ynghylch nod masnach

Mae *Howies*, cwmni dillad bach yng Ngorllewin Cymru, yn wynebu brwydr gyfreithiol gydag un o wneuthurwyr mwyaf jîns yn y byd. Mae *Howies*, sydd â phum aelod o staff yn unig, wedi cael ei herio gan *Levi Strauss and Co* sy'n cyflogi 12,000 o bobl. Mae'r busnes Americanaidd yn cyhuddo'r cwmni Cymreig o gopïo label coch enwog **brand Levi** drwy roi label llwyd ar boced ôl ei jîns. Fe wnaeth *Levi Strauss* batent ei hawl i roi ei logo ar y boced ôl dde gyntaf yn America yn 1938. Nawr mae wedi ysgrifennu at y cwmni Cymreig yn dweud y gallai'r brand *Howies* achosi dryswch ymhlith cwsmeriaid.

Mae *Howies* yn gwneud tua 15,000 o grysau T a 2,000 o barau o jîns y flwyddyn a hoffai gynhyrchu mwy drwy gyflogi mwy o weithwyr a symud i leoliad newydd.

Addaswyd o www.bbc.co.uk 1 Mai 2003

- (a) Mae'r brand *Levi Strauss* yn bwysig i'r cwmni hwnnw. Pam mae brand mor bwysig wrth farchnata cynnyrch? [4]

.....

.....

.....

.....

.....

.....

Mae *Howies* yn gwneud dillad ar gyfer beicwyr a sgrialwyr (*skateboarders*) hefyd. Mae gan berchenogion *Howies* bolisiau moesegol cadarn, e.e. maent yn defnyddio brethyn organig, nad yw wedi cael ei drin â phlaleiddiaid (*pesticides*), ac mae ei weithwyr yn cael "diwrnodau rhy braf i weithio" pryd y cânt eu hannog i fynd allan i feicio a sgrialu.

- (b) Eglurwch pam mae gan rai cwmnïau, fel *Howies*, bolisiau moesegol cadarn. [4]

.....

.....

.....

.....

.....

.....

10. Darllenwch yr erthygl isod ac atebwch y cwestiynau sy'n dilyn.

Swyddi newydd mewn cwmni bwyd organig

Cychwynnwyd *Rachel's Organic* gan y ffermwyr Gareth a Rachel Rowlands yn 1984. Mae ei lwyddiant wedi adlewyrchu'r cynnydd cyflym yn y galw am fwyd a diod organig dros y deng mlynedd diwethaf. Gwerthwyd y busnes i gynhyrchydd llaeth organig o America, *Horizon Organic*, yn 1999.

Bydd estyniad i'r llaethdy (*dairy*) yn costio tair miliwn o bunnoedd, yn creu 50 o swyddi newydd ac yn treblu'r gallu cynhyrchu (*capacity*). Bydd hynny'n caniatáu i *Rachel's Organic* yn Aberystwyth dargedu tir mawr Ewrop. Ar hyn o bryd mae iogyrtiau, llaeth, hufen a menyn *Rachel's Organic* yn cael eu gwerthu ledled y DU ac yn cael eu cynnig mewn gwestai o'r safon uchaf yn Llundain. Dywedodd y rheolwr-gyfarwyddwr, Neil Burchell, fod yr estyniad yn hanfodol i gynlluniau tymor hir y cwmni. "Gan weithio gydag Awdurdod Datblygu Cymru rydym yn bwriadu torri i mewn i farchnad cyfandir Ewrop y flwyddyn nesaf," meddai.

Yn ogystal ag ehangu i mewn i Ewrop mae'r cwmni'n benderfynol hefyd o ehangu amrywiaeth (*range*) y cynhyrchion y mae'n eu gwerthu.

Addaswyd o www.bbc.co.uk 11 Tachwedd 2004

- (a) Mae pecynnu yn amlwg yn bwysig i *Rachel's Organic*. Pam mae pecynnu'n bwysig mewn gwerthu cynhyrchion gan *Rachel's Organic*? [4]

.....

.....

.....

.....

.....

.....

.....

.....

- (b) Awgrymwch ac eglurwch resymau pam roedd busnes mawr Americanaidd fel *Horizon Organic* yn dymuno trosfeddiannu busnes llai fel *Rachel's Organic*. [4]

.....

.....

.....

.....

.....

.....

.....

.....

