

Enw'r Ymgeisydd	Rhif y Ganolfan	Rhif yr Ymgeisydd

CYD-BWYLLGOR ADDYSG CYMRU

Tystysgrif Gyffredinol Addysg Uwchradd



WELSH JOINT EDUCATION COMMITTEE

General Certificate of Secondary Education

613/51

**BUSNES CYMHWYSOL (Dwyradd)**

P.M. DYDD IAU, 15 Mehefin 2006

(1½ Awr)

I'r Arholwr yn unig		
Cwestiwn	Marc uchaf	Marc a ddyfarnwyd
1.	30	
2.	35	
3.	35	
Cyfanswm	100	

**DEUNYDDIAU YCHWANEGOL**

Yn ogystal â'r papur arholiad hwn, bydd angen cyfrifiannell arnoch.

**CYFARWYDDIADAU I YMGEISWYR**

Ysgrifennwch eich enw, rhif y ganolfan a'ch rhif ymgeisydd yn y blychau ar ben y dudalen hon.

Atebwch **bob** cwestiwn.

Ysgrifennwch eich atebion i bob cwestiwn yn y lleoedd gwag priodol yn y llyfryn cwestiwn-ac-ateb hwn.


**GWYBODAETH I YMGEISWYR**

Dangosir nifer y marciau ar gyfer pob rhan o gwestiwn mewn cromfachau.

Ni roddir tystysgrif i ymgeisydd a geir yn ymddwyn yn annheg yn ystod yr arholiad.

Atebwch **bob** cwestiwn yn y lleoedd gwag priodol.

1. Astudiwch y wybodaeth isod ac yna atebwch y cwestiynau sy'n dilyn.



Mae Tom a Tammy yn rhedeg *Guys and Dolls Cyf*, cwmni sy'n gwneud a gwerthu dillad merched a dynion. Rydych yn gweithio i'r cwmni hwn fel clerc cyfrifon a chi sy'n gyfrifol am gofnodi'r holl drafodion ariannol rhwng cyflenwyr a chwsmeriaid. Ei brif gwsmer yw siop o'r enw *Vogue*. Pan fydd dillad yn cael eu gwerthu i *Vogue* defnyddir y dogfennau canlynol i gofnodi'r gwerthiant:

- Anfoneb
- Cyfriflen
- Siec
- Archeb
- Nodyn Dosbarthu

- (a) Mae gofyn i chi nodi pa ddogfen fyddai'n cael ei defnyddio yn y sefyllfaoedd canlynol. Ticiwch **un** blwch yn unig ar gyfer pob ateb.

- (i) Mae *Vogue* yn anfon y ddogfen hon at *Guys and Dolls Cyf* wrth ofyn am ddillad. [1]

Anfoneb	
Archeb	
Cyfriflen	

- (ii) Mae *Guys and Dolls Cyf* yn anfon y ddogfen hon gyda'r dillad sy'n cael eu dosbarthu. [1]

Nodyn Dosbarthu	
Anfoneb	
Siec	

- (iii) Mae *Guys and Dolls Cyf* yn anfon y ddogfen hon at *Vogue* i ofyn am dâl am y dillad. [1]

Siec	
Archeb	
Anfoneb	

- (iv) Mae *Guys and Dolls Cyf* yn anfon y ddogfen hon at *Vogue* ar ddiwedd y mis i ddweud wrth *Vogue* faint sy'n ddyledus. [1]

Cyfriflen	
Nodyn Dosbarthu	
Siec	

- (v) Mae *Vogue* yn anfon y ddogfen hon at *Guys and Dolls Cyf* i dalu am y nwyddau. [1]

Cyfriflen	
Anfoneb	
Siec	

- (b) Mae *Vogue* yn talu *Guys and Dolls Cyf* â siec.

Nodwch **un** dull arall y gallai fod yn well gan *Guys and Dolls Cyf* dderbyn tâl trwyddo ac eglurwch pam. [2]

Dull .....

Eglurhad .....

.....

.....

- (c) Mae *Guys and Dolls Cyf* yn rhoi disgownt masnach i *Vogue* ar y nwyddau y mae'n eu harchebu. Pam o bosibl y byddai'n gwneud hyn? [3]

.....

.....

.....

.....

.....

- (ch) Y bore yma rydych wedi derbyn yr Archeb ganlynol oddi wrth *Vogue*.

<i>Vogue</i> 27 Ffordd Castell Nedd Llansawel SA12 5HB		Ffôn: (03169) 241300 Ffacs: (03169) 241301	
<b>ARCHEB</b>			
At:			
<i>Guys and Dolls Cyf</i> Stryd y Dŵr Stad Ddiwydiannol Bryncethin Pen-y-bont ar Ogwr CF34 5TP		Rhif eich Archeb:	1532
		Dyddiad:	6/6/06
Nifer	Disgrifiad	Cyf. yr Eitem:	Pris yr Uned (£)
10	Sgertiau Mini Denim Maint 10	DMS10	15.00
15	Crysau T Du Maint 12	BTS12	5.00

Dosbarthu: 13 Mehefin 2006 Awdurdodwyd gan: ACC

Rhif Cofrestru TAW: 98761234

Cwblhewch y Nodyn Dosbarthu canlynol, a gaiff ei anfon gyda'r nwyddau, drwy lenwi'r holl rannau sydd wedi'u tywyllu. [6]

<i>Guys and Dolls Cyf</i> Stryd y Dŵr Stad Ddiwydiannol Bryncethin Pen-y-bont ar Ogwr CF34 5TP		
Nodyn Dosbarthu	Rhif. DN1214	
At:		
Rhif Eich Archeb:		Dyddiad Dosbarthu:
Nifer	Cyf.	Disgrifiad
10	DMS10	Sgertiau Mini Denim Maint 10

- (d) Ar ôl derbyn y nwyddau hyn a fanylir yn yr Archeb yn (*ch*), mae *Vogue* yn gweld bod nam ar ddwy o'r sgertiau denim ac maent yn cael eu dychwelyd at *Guys and Dolls Cyf*. Gan ddefnyddio'r wybodaeth hon, llenwch y blychau sydd wedi'u tywyllu i gwblhau'r Nodyn Credyd isod. [8]

<i>Guys and Dolls Cyf</i> Stryd y Dŵr Stad Ddiwydiannol Bryncethin Pen-y-bont ar Ogwr CF34 5TP  <b>NODYN CREDYD</b>				
At:		Anfoneb:		642
		Dyddiad:		14/6/06
		Rhif Eich Archeb:		
Nifer	Disgrifiad	Cyf. yr Eitem:	Pris yr Uned (£)	Cyfanswm y Pris (£)
2	Sgertiau Mini Denim Maint 10			
Cyfanswm y Nwyddau				
Ychwanegu TAW @ 17.5%				
Cyfanswm y Credyd				

(dd) Rydych wedi awgrymu y dylai Tom a Tammy osod system TG (*IT*) gan ddefnyddio codau bar i'w helpu i reoli eu stoc. Maent wedi gofyn i chi roi gwerthusiad ysgrifenedig o'r cynnig hwn iddynt. [6]

.....

.....

.....

.....

.....

.....

.....

.....

.....

.....

.....

.....

.....

.....

.....

.....

.....

.....

.....

.....

.....

.....


**Cyfanswm Marciau**

---

---

# TUDALEN WAG

2. Astudiwch y wybodaeth isod ac yna atebwch y cwestiynau sy'n dilyn.



Chi yw perchennog *Best Foot Forward*, busnes unig fasnachwr sy'n prynu a gwerthu esgidiau dylunydd (*designer*). Mae'r busnes wedi bod yn masnachu'n llwyddiannus dros y 5 mlynedd diwethaf ac erbyn hyn rydych yn ystyried ehangu ei weithgareddau i gynnwys prynu a gwerthu bagiau. Ar hyn o bryd rydych yn cyflogi un aelod rhan amser o staff i'ch helpu chi i redeg eich siop, ond os ewch chi ymlaen â'r ehangiad arfaethedig (*planned*) bydd yn rhaid i chi recriwtio gweithiwr amser llawn.

- (a) Rhaid i chi baratoi'r cyfrifon diwedd y flwyddyn ar gyfer y busnes sy'n cael eu paratoi ar gyfer 31 Mai bob blwyddyn. Gan ddefnyddio'r ffurflen sydd wedi'i darparu a'r ffigurau isod, cwblhewch Gyfrif Elw a Cholled *Best Foot Forward* am y flwyddyn yn diwedd 31 Mai 2006. [8]

Eitem	£
Gwerthiant	125 000
Cyflogau	26 000
Rhent y Siop	4 250
Pryniant Stoc/Cost Gwerthiant	75 000
Gwres a Golau	2 975
Ffôn	950



<b><i>Best Foot Forward</i></b>		
<b>Cyfrif Elw a Cholled am y Flwyddyn yn Diweddu 31 Mai 2006</b>		
Eitem	£	£
<b>Gwerthiant</b>	—	
	—	
	—	50 000
<b>Llai Treuliau/Costau:</b>	—	—
		—
Rhent y siop	4 250	—
		—
Ffôn	950	—
<b>Cyfanswm y Treuliau/Costau</b>	—	
	—	15 825

- (b) Nodwch **ddau** randdeiliad (*stakeholder*) a allai fod â diddordeb yng Nghyfrif Elw a Cholled *Best Foot Forward* ac eglurwch pam y byddai ganddynt ddiddordeb yn y wybodaeth hon. [6]

Rhanddeiliad 1 .....

Eglurhad .....

.....

.....

.....

Rhanddeiliad 2 .....

Eglurhad .....

.....

.....

.....

(c) Nodwch **ddau** ddull y gallai *Best Foot Forward* eu defnyddio i godi cyllid ar gyfer yr ehangiad arfaethedig a gwerthuswch pam y byddai'r busnes yn defnyddio **pob un** o'r dulliau hyn. [6]

(i) Dull 1 .....

Gwerthusiad: .....

.....

.....

.....

.....

(ii) Dull 2 .....

Gwerthusiad: .....

.....

.....

.....

.....

(ch) Rydych wedi cael eich cynghori gan ffrind sy'n gyfrifydd y byddai'n syniad da cwblhau dadansoddiad adennill costau (*break-even analysis*) o'r ehangiad arfaethedig i bennu faint o fapiau y bydd angen i chi eu gwerthu cyn i chi wneud elw. Er mwyn eich galluogi i gwblhau'r dadansoddiad adennill costau mae angen i chi allu dosbarthu (*classify*) eich costau disgwylidiedig yn gostau sefydlog a chostau newidiol.

Mae'r tabl isod yn rhestru rhai o gostau disgwylidiedig y busnes. Gan ddefnyddio'r tabl hwn, mae gofyn i chi ddsbarthu pob un o gostau disgwylidiedig y busnes naill ai'n gost sefydlog neu'n gost newidiol drwy roi tic (✓) yn y golofn briodol. [3]

Costau Disgwylidiedig	Costau Sefydlog	Costau Newidiol
Rhent y siop		
Cyflog staff amser llawn		
Prynu'r bagiau		



(e) Rydych wedi cael eich cyngori hefyd i baratoi cyllideb ar gyfer yr ehangiad arfaethedig. Eglurwch sut y gallai cyllideb werthiant helpu *Best Foot Forward*. [4]

.....

.....

.....

.....

.....

.....

.....


.....

.....

**Cyfanswm Marciau**

# TUDALEN WAG

## 3. Astudiwch y wybodaeth isod ac yna atebwch y cwestiynau sy'n dilyn.



Mae Jim a Julie yn bwriadu dechrau masnachu ar 1 Awst 2006 yn gwerthu balwnau dathlu. Maent yn bwriadu rhentu adeilad siop a byddant yn ei alw'n *Gone With The Wind*. Bydd ganddynt gyfalaf cychwynnol o £6 000 a byddant yn ei roi yng nghyfrif banc y busnes ar ddiwedd Gorffennaf 2006.

Maent yn amcangyfrif y bydd pryniant stoc fel a ganlyn:

Awst	Medi	Hydref	Tachwedd
£3 000	£1 750	£925	£1 500

Maent yn amcangyfrif y bydd gwerthiant fel a ganlyn:

Awst	Medi	Hydref	Tachwedd
£2 000	£2 150	£2 000	£2 500

Rhent eu siop yw £350 y mis.

Trydan: £400 i'w dalu ym mis Hydref yn unig.

Bydd gosodion a ffitiadau (*fixtures and fittings*) ar gyfer y siop yn costio £5 000. Byddant yn cael eu dosbarthu ym mis Awst ond rhaid talu amdanynt ym mis Medi.

(a) Yn eu blwyddyn gyntaf o fasnachu bydd *Gone With The Wind* yn cael costau gweithredu (*running costs*) a chostau cychwyn. Diffiniwch **bob un** o'r costau hyn a defnyddiwch y wybodaeth gyferbyn i restru **un** gost gweithredu ac **un** gost cychwyn y bydd y busnes yn eu cael. [6]

(i) Diffiniad ac enghraifft o gost gweithredu .....

.....  
.....  
.....

(ii) Diffiniad ac enghraifft o gost cychwyn .....

.....  
.....  
.....

(b) Mae cyfrifydd Jim a Julie wedi awgrymu y byddai'n synhwyrol llunio rhagolwg llif arian ar gyfer y misoedd nesaf i helpu eu cynllunio. Gwerthuswch yn gryno ddefnyddioldeb rhagolwg llif arian. [3]

.....  
.....  
.....  
.....  
.....  
.....

- (c) Gan ddefnyddio'r data a roddir ar ddechrau'r cwestiwn, llenwch y rhannau sydd wedi'u tywyllu yn y rhagolwg llif arian canlynol ar gyfer *Gone With The Wind* am y pedwar mis cyntaf o fasnachu. [14]

	AWST	MEDI	HYD	TACH	CYFANSWM
	£	£	£	£	£
<b>Gweddill Agoriadol yn y Banc</b>	<b>6 000</b>		<b>-300</b>		
<b><u>DERBYNIADAU</u></b>					
<b>Gwerthiant</b>	<b>2 000</b>		<b>2 000</b>	<b>2 500</b>	
<b>CYFANSWM Y DERBYNIADAU</b>	<b>2 000</b>			<b>2 500</b>	<b>8 650</b>
<b><u>TALIADAU</u></b>					
<b>Pryniant</b>	<b>3 000</b>	<b>1 750</b>		<b>1 500</b>	<b>7 175</b>
<b>Rhent y siop</b>	<b>350</b>	<b>350</b>	<b>350</b>	<b>350</b>	
<b>Gosodion a ffitiadau</b>					<b>5 000</b>
<b>Trydan</b>					<b>400</b>
<b>CYFANSWM Y TALIADAU</b>	<b>3 350</b>		<b>1 675</b>		<b>13 975</b>
<b>Gweddill Terfynol yn y Banc</b>	<b>4 650</b>		<b>25</b>		

- (ch) Pa fis yn y rhagolwg llif arian sy'n dweud wrth y busnes fod angen gweithredu mewn rhyw fodd? [1]

.....



- (d) Nodwch ac eglurwch **un** dull gweithredu y gallai *Gone With The Wind* ei ddilyn i helpu gydag unrhyw broblemau llif arian. [3]

Dull gweithredu .....

Eglurhad .....

.....

.....

.....

- (dd) Mae Jim a Julie wedi defnyddio system law (*manual*) i baratoi'r rhagolwg llif arian gyferbyn. Nodwch ac eglurwch **ddwy** fantais a **dwy** anfantais i Jim a Julie o ddefnyddio taenlenni i baratoi rhagolygon llif arian yn y dyfodol. [8]

Mantais 1 .....

.....

.....

.....

Mantais 2 .....

.....

.....

.....

Anfantais 1 .....

.....

.....

.....

Anfantais 2 .....

.....

.....

.....

Cyfanswm Marciau