



Roll No.

Sig. of Candidate.

Answer Sheet

Sig. of Invigilator.

PAKISTAN STUDIES SSC-II
SECTION – A (Marks 15)

Time allowed: 20 Minutes

NOTE: Section-A is compulsory. All parts of this section are to be answered on the question paper. It should be completed in the first 20 minutes and handed over to the Centre Superintendent. Deleting/overwriting is not allowed. Do not use lead pencil.

Q. 1 A. Circle the correct option i.e. A / B / C / D. Each part carries one mark.

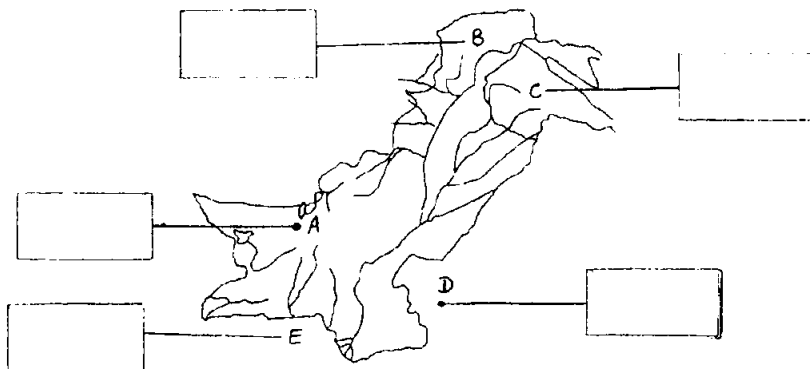
(10)

- (i) Which year did the Quaid-i-Azam (RA) join the All India Muslim League?
A. 1911 AD B. 1912 AD C. 1913 AD D. 1914 AD
- (ii) The Cabinet Mission came to India in _____.
A. 1944 AD B. 1945 AD C. 1946 AD D. 1947 AD
- (iii) In the General Elections of 1970 AD, the PPP won _____ seats of National Assembly in West Pakistan.
A. 83 B. 84 C. 85 D. 86
- (iv) According to the census of 1998 AD, the population of Pakistan is _____.
A. 128.50 million B. 130.58 million C. 135.60 million D. 137.65 million
- (v) In Pakistan, the first Solar Photostatic system was commissioned in _____.
A. December 1980 AD B. December 1981 AD
C. December 1982 AD D. December 1983 AD
- (vi) Out of 921 factories in the United India only _____ came to the share of Pakistan.
A. 32 B. 34 C. 435 D. 36
- (vii) Balochistan constitutes about _____ of the total area of Pakistan.
A. 42.6% B. 43.6% C. 44.6% D. 45.6%
- (viii) People living in the different regions and provinces of Pakistan speak different languages, but Urdu is our _____.
A. Regional language B. Cultural language
C. Lingua franca D. None of these
- (ix) Who defined education as "a process necessary for the creation of a sound mind in a sound body"?
A. Dewey B. Shah Wali Ullah (RA)
C. Aristotle D. Allama Iqbal (RA)
- (x) As per international standards forests should cover at least _____ of land area of a country.
A. 10% B. 20% C. 25% D. 30%

B. Identify and name the following on the map:

(05)

Province – A	Areas – B	Disputed Territory – C	Country – D	Sea - E
--------------	-----------	------------------------	-------------	---------



For Examiner's use only:

Total Marks:

15

Marks Obtained:

Roll No.

--	--	--	--	--	--

Answer Sheet No. _____



Sig. of Candidate _____

Sig. of Invigilator. _____

مطالعہ پاکستان (لازمی) ایس ایس سی-II

حصہ اول (کل نمبر: 15)

وقت: 20 منٹ

نوٹ: حصہ اول لازمی ہے۔ اس کے جوابات پرچے پر ہی دیے جائیں گے۔ اس کو پہلے میں منٹ میں مکمل کر کے تاہم مرکز کے حوالے کر دیا جائے۔ کٹ کر دوبارہ لکھنے کی اجازت نہیں۔ لیزنٹل کا استعمال ممنوع ہے۔

سوال نمبر: الف: دیے گئے الفاظ یعنی الف راجد میں سے درست جواب کے گرد دائرہ لگائیں۔ ہر جزو کا ایک نمبر ہے۔ (10)

(i) قائد اعظم محمد علی جناح کس سال آل انڈیا مسلم لیگ کے رکن بنے؟

الف۔ 1911 ب۔ 1912 ج۔ 1913 د۔ 1914

(ii) کامیڈیشن _____ میں ہندوستان آیا۔

الف۔ 1944 ب۔ 1945 ج۔ 1946 د۔ 1947

(iii) 1970ء کے عام انتخابات میں پاکستان پیپلز پارٹی نے مغربی پاکستان میں قومی اسمبلی کی _____ نشستیں جیتیں۔

الف۔ 83 ب۔ 84 ج۔ 85 د۔ 86

(iv) 1998ء کی مردم شماری کے مطابق پاکستان کی آبادی _____ ہے۔

الف۔ 128.50 ملین ب۔ 130.58 ملین ج۔ 135.60 ملین د۔ 137.65 ملین

(v) پاکستان میں پہلے سولر فوٹو وولٹیج سسٹم نے _____ میں کام شروع کیا۔

الف۔ دسمبر 1980ء ب۔ دسمبر 1981ء ج۔ دسمبر 1982ء د۔ دسمبر 1983ء

(vi) متحدہ ہندوستان کے کل 921 کارخانوں میں سے صرف _____ پاکستان کے حصے میں آئے۔

الف۔ 32 ب۔ 34 ج۔ 435 د۔ 36

(vii) پاکستان، پاکستان کے کل رقبے کے _____ حصے پر محیط ہے۔

الف۔ 42.6% ب۔ 43.6% ج۔ 44.6% د۔ 45.6%

(viii) پاکستان کے مختلف علاقوں اور صوبوں میں رہنے والے لوگ مختلف زبانیں بولتے ہیں۔ لیکن اردو ہماری _____ زبان ہے۔

الف۔ عدالتی ب۔ ثقافتی ج۔ رابطاتی د۔ درج شدہ میں سے کوئی نہیں

(ix) کس کے مطابق ”تعلیم ایک ایسا عمل ہے جو ایک صحت مند جسم میں صحت مند مایع پیدا کرنے کے لیے ضروری ہے؟“


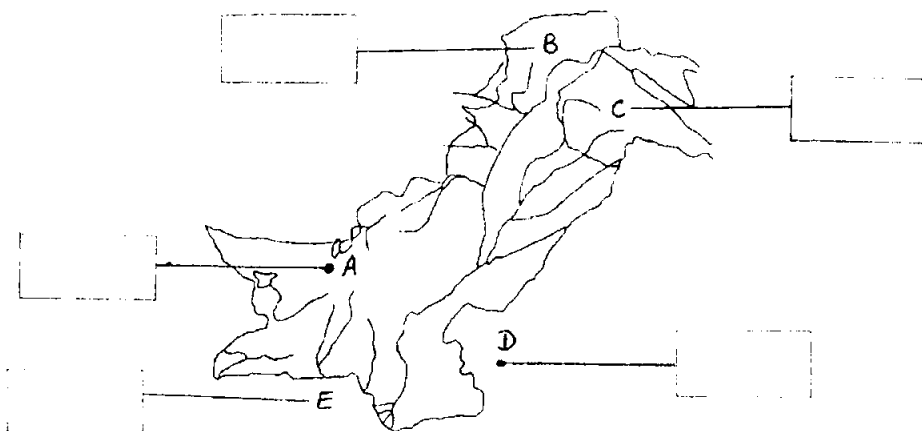
الف۔ ذیوی ب۔ شاہ ولی اللہ رحمۃ اللہ علیہ ج۔ ارسطو د۔ علامہ اقبال

(x) عالمی معیار کے مطابق ہر ملک کا کم از کم _____ فی صد رقبہ جنگلات پر مشتمل ہونا چاہیے۔

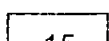
الف۔ 10 ب۔ 20 ج۔ 25 د۔ 30

ب۔ دیے گئے نقشے پر غور کیجیے اور مندرجہ ذیل مقامات کی نقشے پر نشاندہی کیجیے: (5)

صوبہ - (A)	علاقہ جات - (B)	متنازع علاقہ - (C)	ملک - (D)	سمندر - (E)
------------	-----------------	--------------------	-----------	-------------



اصل کردہ نمبر:



گنا

برائے متحن:



PAKISTAN STUDIES SSC-II

Time allowed: 2:40 Hours

Total Marks Sections B and C: 60

NOTE: Answer any twelve parts from Section 'B' and any two questions from Section 'C' on the separately provided answer book. Use supplementary answer sheet i.e. Sheet-B if required. Write your answers neatly and legibly.

SECTION – B (Marks 36)

Q. 2 Answer any TWELVE parts. The answer to each part should not exceed 3 to 4 lines. (12 x 3= 36)

- What is meant by Ideology?
- What are the fundamentals of an Islamic constitution according to Allama Iqbal (RA)?
- When and Where did the Jinnah Gandhi Talks / Correspondence take place?
- Which year was Shah Wali Ullah (RA) born? Also write the name of his father.
- How many refugees migrated to Pakistan as a result of the partition of India? Where were they settled?
- Write a short note on the System of Basic Democracies.
- What per cent of the total land of South Asia is occupied by Pakistan?
- What is the average height of the Shiwalik Range hills?
- What does ADBP stand for?
- Write a short note on the Sugar Industry in Pakistan.
- Write a short note on the Grand Trunk Road (G.T.Road)?
- What are GRP and GNP?
- Name any three most prominent calligraphists of Pakistan.
- Who were Taan Sen and Amir Khusro (RA)?
- Define Formal and Informal Education.
- What did the Quaid-i-Azam (RA) advise the civil and military officers on 11th October, 1947 AD?

SECTION – C (Marks 24)

Note: Attempt any TWO questions. All questions carry equal marks.

(2 x 12 = 24)

- Write down the Fourteen Points of the Quaid-i-Azam (RA).
- Describe the temperature zones of Pakistan.
- Write a comprehensive note on the importance of Urdu as the basis of national unity.

حصہ دوم (کل نمبر 36)

(12x3=36)

سوال نمبر ۲: مندرجہ ذیل میں سے بارہ (12) اجزاء کے تین سے چار سطور پر مشتمل جواب دیجیے:

- نظریہ سے کیا مراد ہے؟ (ii) علامہ اقبالؒ کے مطابق اسلامی آئین کے بنیادی اصول کیا ہیں؟
- جناحؒ گاندھی مذاکرات اور خط و کتابت کب اور کہاں ہوئے؟ (iv) شاہ ولی اللہ رحمۃ اللہ علیہ کس سال پیدا ہوئے؟ ان کے والد کا نام بھی لکھیں۔
- ہندوستان کی تقسیم کے نتیجے میں کتنے مہاجرین ترک سکونت کر کے پاکستان آئے اور کہاں آباد ہوئے؟ (v)
- بنیادی جمہوریت کے نظام (بی ڈی سسٹم) پر مختصر نوٹ لکھیے۔ (vii) پاکستان جنوبی ایشیا کی سرزمین کے کل کتنے فی صد رقبے کا احاطہ کرتا ہے؟
- شواکب کی پیٹریوں کی اوسط بلندی کیا ہے؟ (ix) ADBP کس کا مخفف ہے؟
- پاکستان میں شکر سازی کی صنعت پر مختصر نوٹ لکھیے۔ (xi) جی ٹی روڈ پر مختصر نوٹ لکھیے۔
- GRP اور GNP کیا ہیں؟ (xiii) پاکستان کے کوئی تین مشہور خطاطوں کے نام لکھیں۔
- تان سین اور امیر خسروؒ کون تھے؟ (xv) رکی اور غیر رسمی تعلیم کی تعریف کریں۔
- 11 اکتوبر 1947ء کو قائد اعظمؒ نے سول اور ملٹری افسران کو کیا نصیحت کی؟ (xvi)

حصہ سوم (کل نمبر 24)

(2x12=24)

(کوئی سے دو سوال حل کیجیے۔ تمام سوالوں کے نمبر برابر ہیں۔)

- سوال نمبر ۳: قائد اعظمؒ کے چودہ نکات لکھیے۔
سوال نمبر ۴: پاکستان کے درجہ حرارت کے منطقی بیان کریں۔
سوال نمبر ۵: پاکستان میں قومی اتحاد کی بنیاد کی حیثیت سے اردو کی اہمیت پر جامع نوٹ تحریر کیجیے۔