

2011



Roll No.

Answer Sheet No.

Sig. of Candidate. _____

Sig. of Invigilator. _____

StudentBounty.com

GEOGRAPHY SSC-I SECTION - A (Marks 15)

Time allowed: 20 Minutes

NOTE:- Section-A is compulsory. All parts of this section are to be answered on the question paper itself. It should be completed in the first 20 minutes and handed over to the Centre Superintendent. Deleting/overwriting is not allowed. Do not use lead pencil.

Q. 1 Circle the correct option i.e. A / B / C / D. Each part carries one mark.

- (i) In which branch of geography are the land forms studied?
A. Astronomy B. Geology C. Geomorphology D. Cartography
- (ii) What is the total number of latitudes?
A. 90 B. 180 C. 190 D. 360
- (iii) What is the radius of the Earth?
A. 125,000,000 inches B. 250,000,000 inches
C. 150,000,000 inches D. 120,000,000 inches
- (iv) U-shaped valley is formed due to erosional work of:
A. River B. Glacier C. Wind D. Underground water
- (v) When did the Earth come into existence?
A. 3 billion years ago B. 4 billion years ago
C. 5 billion years ago D. 6 billion years ago
- (vi) The interior of the Earth is:
A. Solid B. Liquid C. Plastic D. Viscous
- (vii) What is the outer most layer of the Earth called?
A. Lithosphere B. Crust C. Core D. Ionosphere
- (viii) What are mountain building forces known as?
A. Orogenic B. Eperogenic C. Homogenic D. Heterogenic
- (ix) Which ocean does resemble the letter "S" of the English alphabet?
A. The Pacific Ocean B. The Atlantic Ocean
C. The Indian Ocean D. The Mediterranean
- (x) What is the ratio of oxygen in the atmosphere?
A. 20.99 B. 78.03 C. 0.79 D. 0.05
- (xi) What does the word 'Geo' mean?
A. Sky B. Sun C. Earth D. Sea
- (xii) Physical rainfall occurs due to:
A. Cyclones B. Mountains C. Sea - shore D. Conventional currents
- (xiii) What per cent of the surface of earth does consist of water?
A. 71% B. 29% C. 31% D. 60%
- (xiv) Tides occur due to the gravitational pull of the _____.
A. Earth B. Sun C. Moon D. Stars
- (xv) "Easterlies" are also called:
A. Permanent winds B. Local winds C. Seasonal winds D. None of these

For Examiner's use only:

Total Marks:

Marks Obtained:

2017

Roll No.

Answer Sheet No. _____

Sig. of Candidate _____

Sig. of Invigilator. _____



StudentBounty.com

جغرافیہ - ایس ایس سی - I

حصہ اول (کل نمبر: 15)

وقت: 20 منٹ

نوٹ: حوالہ لازمی ہے۔ اس کے جوابات پر پے پی ویسے جائیں گے۔ اس کو پہلے میں منٹ میں عمل کر کے ہم مرکز کے حوالے کر دیا جائے۔ کاٹ کر دوبارہ لکھنے کی اجازت نہیں۔ ایڈیشنل کا استعمال ممنوع ہے۔

سوال نمبر:		دیے گئے جوابات (الف ب ج د) میں سے درست جواب پر دائرہ لگائیں۔	
(i)	علم جغرافیہ کی کس شاخ میں اشکال الارضی کا مطالعہ کیا جاتا ہے؟	الف۔ علم فلکیات	ب۔ علم ارضیات
	خطوط عرض بلد کی تعداد کتنی ہے؟	الف۔ 90	ب۔ 180
	زمین کا رداں کتنے اچھے ہے؟	الف۔ 125,000,000	ب۔ 250,000,000
(iv)	یو (U) شکل کی وادیاں کس کے تخریبی عمل سے وجود میں آتی ہیں؟	الف۔ دریا	ب۔ گلیشیر
(v)	ہماری زمین کتنے بلین سال قبل وجود میں آئی؟	الف۔ تین	ب۔ چار
(vi)	زمین کا اندرون..... ہے۔	الف۔ ٹھوس	ب۔ مائع
(vii)	زمین کی سب سے بیرونی سطح کیا کہلاتی ہے؟	الف۔ کڑھ حجر	ب۔ قشر الارض
(viii)	پہاڑوں کو تخلیق کرنے والی قوتیں کیا کہلاتی ہیں؟	الف۔ اوروجینیک	ب۔ اسپیروجینیک
(ix)	کون سا سمندر انگریزی کے لفظ "S" سے مشابہت رکھتا ہے؟	الف۔ بحر الکاہل	ب۔ بحر اوقیانوس
(x)	کڑھ ہوائی میں آکسیجن کا تناسب کتنے فیصد ہے؟	الف۔ 20.99	ب۔ 78.03
(xi)	لفظ "جیو" کا کیا مطلب ہے؟	الف۔ آسمان	ب۔ سورج
(xii)	طبعی بارش ہونے کی وجہ کیا ہے؟	الف۔ سائیکلون	ب۔ پہاڑ
(xiii)	سطح زمین کا کتنے فیصد حصہ زیر آب ہے؟	الف۔ 71%	ب۔ 29%
(xiv)	مد و جذر..... کی کشش ثقل سے پیدا ہوتے ہیں۔	الف۔ زمین	ب۔ سورج
(xv)	مشرقی ہوائیں کیا کہلاتی ہیں؟	الف۔ مستقل ہوائیں	ب۔ مقامی ہوائیں

حاصل کردہ نمبر:

15

کل نمبر:

برائے ممتحن:

2011



GEOGRAPHY SSC-I

Time allowed: 2:40 Hours

Total Marks Sections B and C

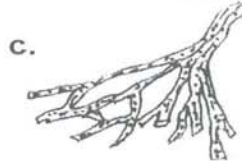
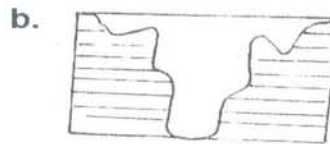
NOTE:- Answer any twelve parts from Section 'B' and any three questions from Section 'C' on the separately provided answer book. Use supplementary answer sheet i.e. Sheet-B if required. Write your answers neatly and legibly.

SECTION – B (Marks 36)

Q. 2 Attempt any TWELVE parts. The answer to each part should not exceed 3 to 4 lines.

(12 x 3 = 36)

- (i) Define Geography. Also name its main branches.
- (ii) Write a short note on the Ocean Currents.
- (iii) What is the difference between Rotation and Revolution of the Earth?
- (iv) Define Longitudes and Latitudes.
- (v) Differentiate between the Trade-winds and Anti-Trade winds.
- (vi) Define Cyclone.
- (vii) Define Inversion of Temperature.
- (viii) Write down the important factors affecting atmospheric pressure.
- (ix) Name any three countries visited by Ibn-i-Batuta.
- (x) What is the difference between Physical and Chemical weathering?
- (xi) Write briefly about the major agents of change (Geomorphic agents) which bring change on the earth surface.
- (xii) Write down the important types of Clouds.
- (xiii) Write about the formation and types of Metamorphic Rocks.
- (xiv) What are the effects of ocean currents on climate?
- (xv) What is the difference between Spring tide and Neap tide?
- (xvi) What are Isotherms?
- (xvii) What is the contribution of Al-Bairuni to the Geography?
- (xviii) Write down the names on your answer book of the following land features (Labelled a, b, c) formed by different agents of change:



SECTION – C (Marks 24)

Note:- Attempt any THREE questions. All questions carry equal marks. (3 x 8 = 24)

- Q. 3 Write a detailed note on the seasonal winds.
- Q. 4 Define Rock. Explain the Igneous Rocks.
- Q. 5 What are Plains? Explain the depositional plains and their importance in detail.
- Q. 6 Describe structure of the Earth. Illustrate your answer with diagram.

StudentBounty.com

جغرافیہ - ایس ایس سی - I

کل نمبر حصہ دوم اور سوم 60

وقت: 2:40 گھنٹے

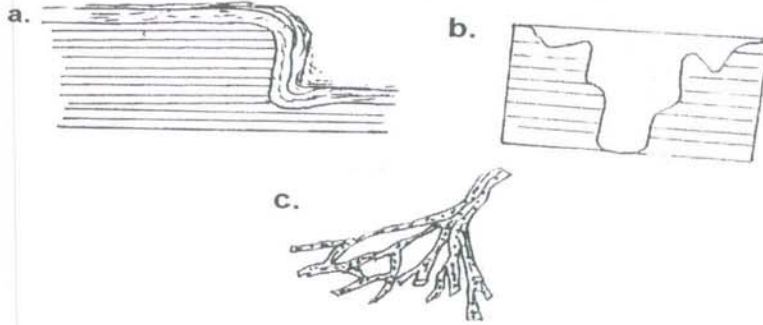
نوٹ:- حصہ "دوم" اور "سوم" کے سوالات کے جوابات علیحدہ سے مہیا کی گئی جو اپنی کاپی پر دیں۔ حصہ "دوم" کے بارہ (12) اجزاء مل کر نا ضروری ہیں اور حصہ "سوم" میں سے کوئی سے تین (3) سوال حل کیجیے۔ ایکسٹرا شیٹ (Sheet-B) طلب کرنے پر مہیا کی جائے گی۔ آپ کے جوابات صاف اور واضح ہونے چاہئیں۔

حصہ دوم (کل نمبر 36)

سوال نمبر ۲: مندرجہ ذیل اجزاء میں سے بارہ (12) اجزاء کے تین سے چار سطروں تک محدود جوابات لکھیں:

(۳۶=۳×۱۲)

- (i) جغرافیہ کی تعریف کیجیے اور اس کی اہم شاخوں کے نام لکھیں۔
- (ii) بحری روؤں پر مختصر نوٹ لکھیں۔
- (iii) زمین کی بحوری اور مداروی گردش کے درمیان کیا فرق ہے؟
- (iv) خطوط طول بلد اور عرض بلد کی تعریف کیجیے۔
- (v) تجارتی اور مخالف تجارتی ہواؤں میں کیا فرق ہے؟
- (vi) گرد و باد کی تعریف کیجیے۔
- (vii) درجہ حرارت کے اُلٹاؤ کی تعریف کیجیے۔
- (viii) کڑھ ہوا کے دباؤ پر اثر انداز ہونے والے عوامل تحریر کیجیے۔
- (ix) کوئی سے تین ممالک کے نام لکھیں جن کا ابن بطوطہ نے سفر کیا ہو۔
- (x) طبعی اور کیمیائی عمل فرسودگی میں کیا فرق ہے؟
- (xi) سطح زمین پر تبدیلیاں لانے والے کارکنان تبدیلی (جیو مارفیک ایجنٹس) کے بارے میں مختصر لکھیں۔
- (xii) بادلوں کی اہم اقسام تحریر کیجیے۔
- (xiii) متغیرہ چٹانوں کی بناوٹ اور اقسام تحریر کیجیے۔
- (xiv) بحری روؤں کے آب و ہوا پر کیا اثرات ہوتے ہیں؟
- (xv) مدوجزر اکبر اور مدوجزر اصغر کے درمیان کیا فرق ہے؟
- (xvi) خطوط مساوی الحرارة کیا ہیں؟
- (xvii) علم جغرافیہ میں البیرونی کا کیا حصہ ہے؟
- (xviii) سطح زمین میں تبدیلی لانے والے مختلف عوامل کی وجہ سے زمین کی مختلف خدو خال سطحی نقوش ذیل میں a، b اور c لیبل کئے گئے ہیں۔ ان کے نام اپنی جوابی کاپی میں درج کیجیے:



حصہ سوم (کل نمبر 24)

(کوئی سے تین سوال حل کیجیے۔ تمام سوالوں کے نمبر برابر ہیں)

- سوال نمبر ۳: موسمی ہواؤں پر تفصیلی نوٹ لکھیں۔
- سوال نمبر ۴: چٹان کی تعریف کیجیے۔ آتشی چٹانوں کو تفصیلاً بیان کیجیے۔
- سوال نمبر ۵: میدان کیا ہوتے ہیں؟ تہہ نشین میدانوں کی وضاحت کیجیے اور ان کی اہمیت تفصیل سے واضح کیجیے۔
- سوال نمبر ۶: زمین کی اندرونی ساخت بیان کیجیے۔ نیز اپنے جواب کی ڈائیکرام کی مدد سے مزید وضاحت کیجیے۔