

2011



Roll No.

Answer Sheet No.

Sig. of Candidate.

Sig. of Invigilator.

GEOGRAPHY HSSC-II

SECTION – A (Marks 17)

Time allowed: 25 Minutes

NOTE:- Section-A is compulsory . All parts of this section are to be answered on the question paper itself. It should be completed in the first 25 minutes and handed over to the Centre Superintendent. Deleting/overwriting is not allowed. Do not use lead pencil.

Q. 1 Circle the correct option i.e. A / B / C / D. Each part carries one mark.

- (i) The total population of the world is about _____
 A. 5 billion B. 6 billion C. 5.5 billion D. None of these
- (ii) Which of the following countries has a population density of 1200 persons per sq km in some of her parts?
 A. Brazil B. Pakistan C. Saudi Arabia D. China
- (iii) The four main religions of the world began in _____
 A. America B. Australia C. Africa D. Asia
- (iv) The longest river Volga of Europe falls in _____
 A. Atlantic ocean B. English Channel
 C. Caspian Sea D. North Sea
- (v) The total population of Europe is about _____
 A. 750 million B. 75 million C. 650 million D. None of these
- (vi) North America is separated from Asia by the strait of _____
 A. Malacca B. Hormuz C. Bering D. Gibraltar
- (vii) How many times is the USA larger than British isles?
 A. 24 times B. 25 times C. 26 times D. 27 times
- (viii) The length of Amazon River is about _____
 A. 6600 km B. 6390 km C. 6280 km D. 6130 km
- (ix) The River Valleys of Wei and Fen are famous for the cultivation of _____
 A. Wheat B. Tea C. Rice D. Cotton
- (x) Australia was discovered by _____
 A. Columbus B. James Cook C. Abel Tasman D. Vasco da Gama
- (xi) What per cent of the population in Australia is urban?
 A. 80% B. 81% C. 82% D. 85%
- (xii) Which of the following is the volcanic mountain of Antarctica?
 A. Mt. Fuji B. Mt. Pele C. Mt. Vesuvius D. Mt. Erebus
- (xiii) The longest mountain range of the world is _____
 A. Himalayas B. Rockies C. Atlas D. Andes
- (xiv) After independence the first sugar mill was installed at _____
 A. Jhelum B. Gujrat C. Mardan D. Hazara
- (xv) Which year was the Pakistan Steel Mill project completed?
 A. 1961 AD B. 1971 AD C. 1981 AD D. 1991 AD
- (xvi) What per cent of the world oil is produced by Saudi Arabia?
 A. 38% B. 36% C. 26% D. 20%
- (xvii) What per cent area of the Arabian Peninsula is covered by Saudi Arabia?
 A. 75% B. 80% C. 85% D. 90%

For Examiner's use only:

Total Marks:

17

Marks Obtained:

StudentBounty.com

Time allowed: 2:35 Hours

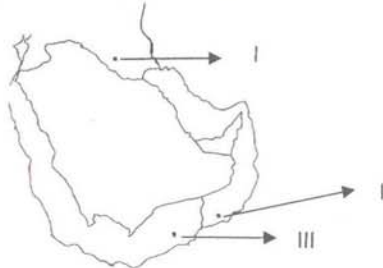
Total Marks Sections B and C: 60

NOTE:- Answer any fourteen parts from Sections 'B' and any two questions from Section 'C' on the separately provided answer book. Use supplementary answer sheet i.e. Sheet-B if required. Write your answers neatly and legibly.

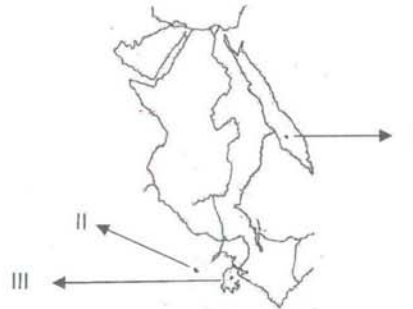
SECTION – B (Marks 42)

Q. 2 Attempt any FOURTEEN parts. The answer to each part should not exceed 3 to 4 lines. (14 x 3 = 42)

- (i) Write down the geographical location of Saudi Arabia.
- (ii) What are Taiga?
- (iii) Write down the sources of power energy in Pakistan.
- (iv) Write briefly about the mineral wealth of Baluchistan.
- (v) Name the famous rivers of Europe.
- (vi) What is the importance of Chinook Winds?
- (vii) Name the Appalachian Coal fields.
- (viii) Name the central lower plains of South America.
- (ix) Write briefly about the "Rift-Valley of Africa".
- (x) Name the main river systems of Africa.
- (xi) What is meant by environmental pollution?
- (xii) Name the different races of people in Africa.
- (xiii) Name the state and its two main cities known for the manufacturing of aircraft in USA.
- (xiv) How many states are there in Australia? When did it become common wealth of England?
- (xv) Name the neighboring countries of Saudi Arabia marked I, II and III on the following map on your answer book:



- (xvi) Name the lakes and sea labelled I, II and III on the given map of East Africa (Nile Valley) on your answer book:



- (xvii) Name the physical features labelled I, II and III on the given map of Australia on your answer book:



- (xviii) Name the most densely populated area of Africa.
- (xix) Name the plateaus of South America.

SECTION – C (Marks 26)

Note:- Attempt any TWO questions. All questions carry equal marks.

(2 x 13 = 26)

- Q. 3 Discuss Environmental pollution with reference to Pakistan. Also suggest preventive measures.
- Q. 4 Write in detail the world distribution of population and its effects on human activities.
- Q. 5 Write briefly the physical regions of North America.

محل نمبر حصہ دوم اور حصہ سوم : 68

وقت : 2:35 گھنٹے

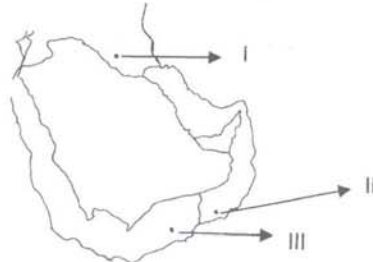
نوٹ: حصہ ”دوم“ اور ”سوم“ کے سوالات کے جوابات علیحدہ سے مہیا کی گئی جو اپنی کاپی پر دیں۔ حصہ ”دوم“ میں سے چودہ (14) اجزاء اور حصہ ”سوم“ میں سے کوئی سے دو (2) سوال حل کیجیے۔ ایکسٹرا شیٹ (Sheet-B) طلب کرنے پر مہیا کی جائے گی۔

حصہ دوم (محل نمبر 42)

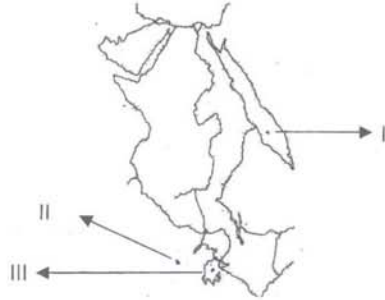
(14x3=42)

سوال نمبر ۲: مندرجہ ذیل میں سے چودہ (14) اجزاء کے تین تا چار سطروں تک محدود جوابات لکھیے:

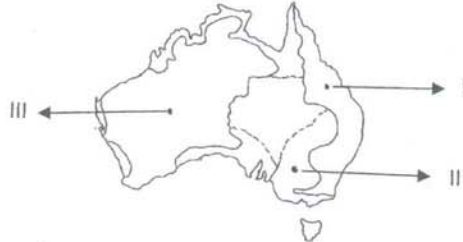
- | | | | |
|--------|---|--------|--|
| (i) | سوڈی عرب کا جغرافیائی محل وقوع لکھیے۔ | (ii) | نیگیا کیا ہیں؟ |
| (iii) | پاکستان میں توانائی حاصل کرنے کے ذرائع تحریر کریں۔ | (iv) | بلوچستان کی معدنی دولت کے بارے میں مختصر لکھیے۔ |
| (v) | یورپ کے مشہور دریاؤں کے نام لکھیے۔ | (vi) | چنوک ہواؤں کی کیا اہمیت ہے؟ |
| (vii) | انڈیا میں کون سے کنوں کے نام لکھیے۔ | (viii) | جنوبی امریکہ کے وسطی نشیبی میدانوں کے نام لکھیے۔ |
| (ix) | افریقہ کے شگافی وادی کے بارے میں مختصر تحریر کریں۔ | (x) | افریقہ کے ہم دریاؤں کے نظام کے نام لکھیے۔ |
| (xi) | ماحولیاتی آلودگی سے کیا مراد ہے؟ | (xii) | افریقہ کی مختلف سطحوں کے باشندوں کے نام لکھیے۔ |
| (xiii) | ریاست ہائے متحدہ امریکہ کی ریاست اور اس کے دو شہروں کے نام لکھیے جو جہاز سازی کی صنعت کے لیے مشہور ہیں۔ | | |
| (xiv) | آسٹریلیا کی کئی ریاستیں ہیں؟ یہ دولت مشترکہ کا انگلستان کب بنا؟ | | |
| (xv) | ذیل میں دیے گئے نقشے میں سوڈی عرب کے ہمایہ نمائندہ کو I اور II اور III لکھیں کیا گیا ہے۔ ان کے نام اپنی جوابی کاپی میں لکھیے۔ | | |



(xvi) ذیل میں دیے گئے نقشے میں شمالی افریقہ (وادی نیل) کی جھیلوں اور سمندر کو I اور II اور III لکھیں کیا گیا ہے۔ ان کے نام اپنی جوابی کاپی میں لکھیے۔



(xvii) ذیل میں دیے گئے نقشے میں آسٹریلیا کے طبعی حدود کو I اور II اور III کو لکھیں کیا گیا ہے۔ ان کے نام اپنی جوابی کاپی میں لکھیے۔



(xviii) افریقہ کے سب سے زیادہ نمکدان آب علاقے کا نام لکھیے۔ (xix) جنوبی امریکہ کی سطوح مرتفع کے نام لکھیے۔

حصہ سوم (محل نمبر 26)

(2x13=26)

(کوئی سے دو سوال حل کیجیے۔ تمام سوالوں کے نمبر برابر ہیں۔)

- | | |
|--------------|--|
| سوال نمبر ۳: | پاکستان کے حوالے سے ماحولیاتی آلودگی پر بحث کیجیے اور اس کے تدارک کے لیے تجاویز بھی لکھیے۔ |
| سوال نمبر ۴: | دنیا میں آبادی کی تقسیم اور ان کا انسانی سرگرمیوں پر اثر لکھیے۔ |
| | سوال نمبر ۵: |