

Enw'r Ymgeisydd	Rhif y Ganolfan	Rhif yr Ymgeisydd

CYD-BWYLLGOR ADDYSG CYMRU

TYSTYSGRIF LEFEL MYNEDIAD



WELSH JOINT EDUCATION COMMITTEE

ENTRY LEVEL CERTIFICATE

725/52

Tystysgrif Lefel Mynediad

ASTUDIAETHAU GRAFFEG A DEFNYDDIAU

(Graffeg)

P.M. DYDD IAU, 23 Mawrth 2006

(½ Awr)

Arholwr yn unig

Cyfanswm y marciau	
-------------------------------	--

DEUNYDDIAU YCHWANEGOL

Yn ychwanegol at y papur arholiad hwn, bydd arnoch angen:

- dalen ar wahân o bapur A4;
- dalen ar wahân i'w defnyddio gyda Chwestiwn 6;
- offer lluniadu sylfaenol;
- pensiliau lliw.

CYFARWYDDIADAU I YMGEISWYR

Ysgrifennwch eich enw, rhif y ganolfan a'ch rhif ymgeisydd yn y blychau ar ben y dudalen hon.

Atebwch **bob** cwestiwn yn Adran A, yn y lleoedd gwag a ddarperir yn y llyfryn hwn.

Atebwch **un** cwestiwn yn unig o Adran B, **ar y ddalen ar wahân o bapur A4 sydd wedi'i darparu.**

Os nad ydych yn gallu darllen cwestiwn, codwch eich llaw a bydd yr athro/athrawes yn ei ddarllen i chi.

GWYBODAETH I YMGEISWYR

Adran A: Mae **pob** cwestiwn yn werth **wyth** marc.


Adran B: Mae **pob** cwestiwn yn werth **chwe deg** marc.

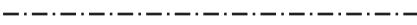
Ni roddir tystysgrif i ymgeisydd a geir yn ymddwyn yn annheg yn ystod yr arholiad.

ADRAN A


Atebwch **bob** cwestiwn yn yr adran hon yn y lleoedd gwag a ddarperir.

1. Pa **un** (1) o'r llinellau canlynol sy'n dangos **manylion cudd** (*hidden detail*) yn gywir?

(a) 

(b) 

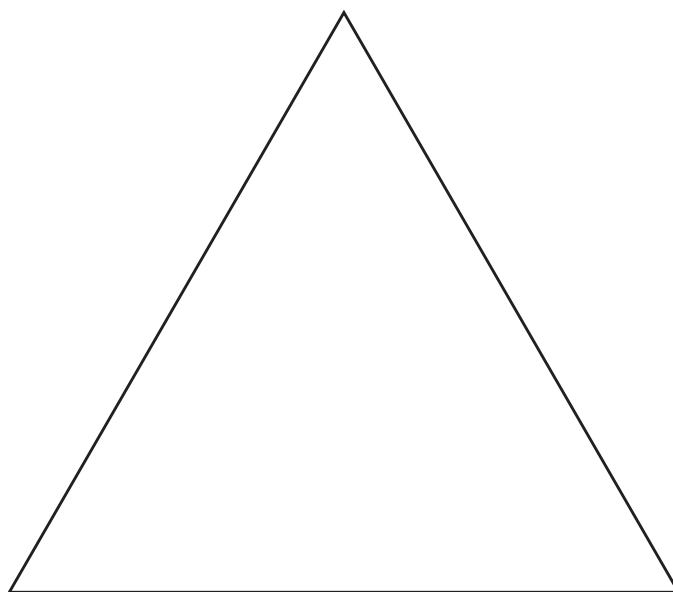
(c) 

(ch) 

Tanlinellwch yr ateb cywir.

[8]

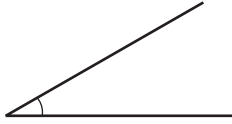
2. Gan ddefnyddio offer lluniadu, darganfyddwch ganol y triongl hafalochrog sydd wedi'i lunio isod.



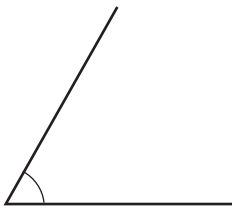
[8]

3. Pa un (1) o'r onglau a ddangosir isod sy'n fwy na 90° ?

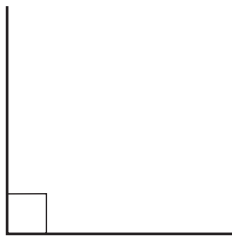
(a)



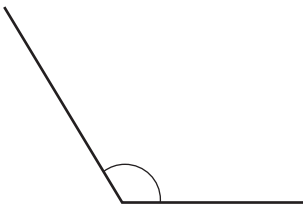
(b)



(c)



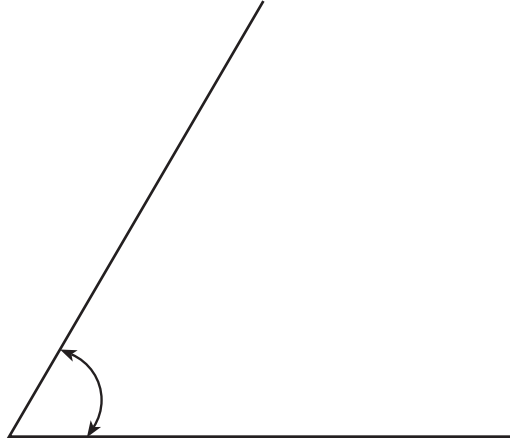
(ch)



Tanlinellwch yr ateb cywir.

[8]

4. Mae'r ongl a ddangosir isod yn **un** (1) o'r canlynol:

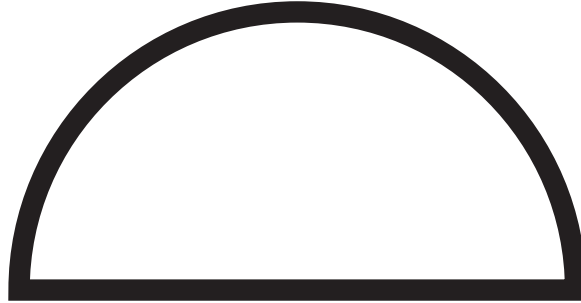


- (a) 45° ;
- (b) 60° ;
- (c) 30° ;
- (ch) 90° .

Tanlinellwch yr ateb cywir.

[8]

5. Mae'r siâp a ddangosir isod yn **un** (1) o'r canlynol:



- (a) hanner cylch;
- (b) sgwâr;
- (c) triongl;
- (ch) côn.

Tanlinellwch yr ateb cywir.

[8]

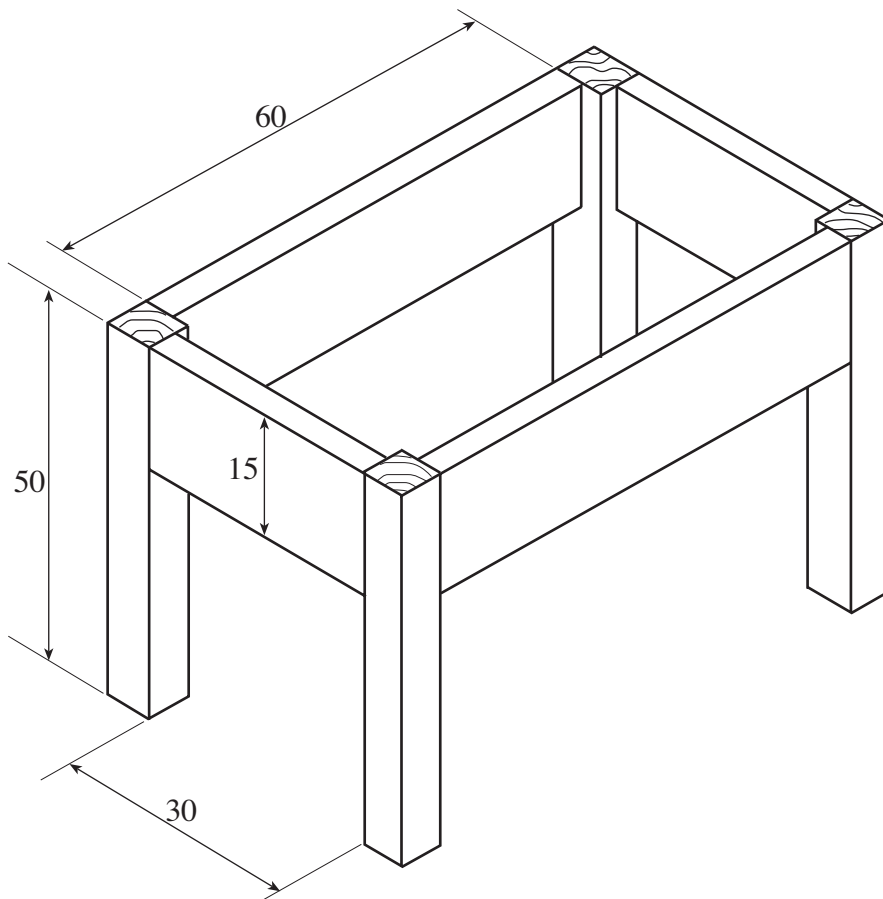
ADRAN B

Atebwch **un** (1) cwestiwn yn unig ar y papur ar wahân sydd wedi'i ddarparu.

6. Mae'r lluniad isod yn dangos ffrâm isaf (*underframe*) bwrdd bach. O'r lluniad hwn, cynhyrchwch luniad **orthograffig**. Mae rhaid i'ch lluniad gynnwys **blaenolwg**, **ochrolwg** ac **uwcholwg**, **maint llawn**. Mae'r lluniad wedi'i gychwyn i chi ar bapur ar wahân. Mae'r holl fesuriadau mewn milimetrau (mm).

Nid oes angen manylion cudd.

Mae unrhyw fesuriadau sydd heb eu rhoi wedi'u gadael er mwyn i chi benderfynu arnyn nhw.



[60]

7. Lluniadwch unrhyw **un** (1) o'r canlynol:

- (a) Tortsh;
- (b) Styffylwr (*stapler*);
- (c) Clo clwt (*padlock*).

Rhaid iddo fod yn lluniad cyflwyniad (*presentation drawing*) a rhaid i chi ddefnyddio **lliw** a **graddliwio**.

Rhaid i chi ddefnyddio nodiadau syml gyda saethau (*arrows*) i egluro sut mae'n gweithio ac ar gyfer beth mae'n cael ei ddefnyddio. [60]

8. Dyluniwch a lluniadwch blac enw tŷ (*house name-plate*) y gellid ei osod (*fixed*) ar y wal ger y drws blaen. Enw'r tŷ yw "**HILLSIDE**". Rhaid i'r plac:

- (a) gael ei luniadu gan ddefnyddio offer lluniadu;
- (b) gynnwys lliw a graddliwio;
- (c) ddangos sut y dylai gael ei osod ar wal y tŷ. [60]