

Enw'r Ymgeisydd	Rhif y Ganolfan	Rhif yr Ymgeisydd

CYD-BWYLLGOR ADDYSG CYMRU

TYSTYSGRIF LEFEL MYNEDIAD



WELSH JOINT EDUCATION COMMITTEE

ENTRY LEVEL CERTIFICATE

725/51

Tystysgrif Lefel Mynediad

ASTUDIAETHAU GRAFFEG A DEFNYDDIAU

(Crefft Coed)

P.M. DYDD IAU, 23 Mawrth 2006

(½ Awr)

Arholwr yn unig

Cyfanswm y marciau	
-------------------------------	--

CYFARWYDDIADAU I YMGEISWYR

Ysgrifennwch eich enw, rhif y ganolfan a'ch rhif ymgeisydd yn y blychau ar ben y dudalen hon.

Atebwch **bob** cwestiwn.

Tanlinellwch yr ateb cywir **neu** rhowch gylch o'i amgylch **neu** ysgrifennwch yn y lleoedd gwag a ddarperir yn y llyfryn hwn.

Os nad ydych yn gallu darllen cwestiwn, codwch eich llaw a bydd yr athro/athrawes yn ei ddarllen i chi.

GWYBODAETH I YMGEISWYR

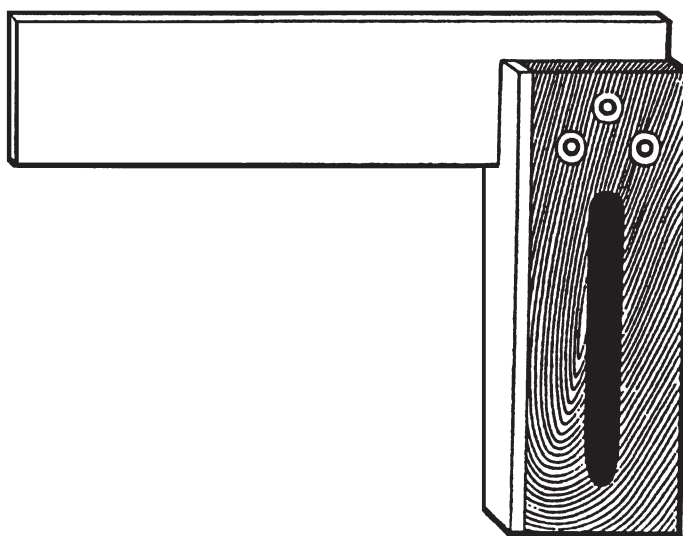
Mae **pob** cwestiwn yn werth **pum** marc.

Ni roddir tystysgrif i ymgeisydd a geir yn ymddwyn yn annheg yn ystod yr arholiad.

Atebwch **bob** cwestiwn.

Tanlinellwch **neu** rhowch gylch o amgylch yr ateb cywir **neu** ysgrifennwch yn y lleoedd gwag a ddarperir.

1. Mae'r erfyn (*tool*) a ddangosir isod yn cael ei ddefnyddio yn yr ystafell Ddylunio a Thechnoleg.



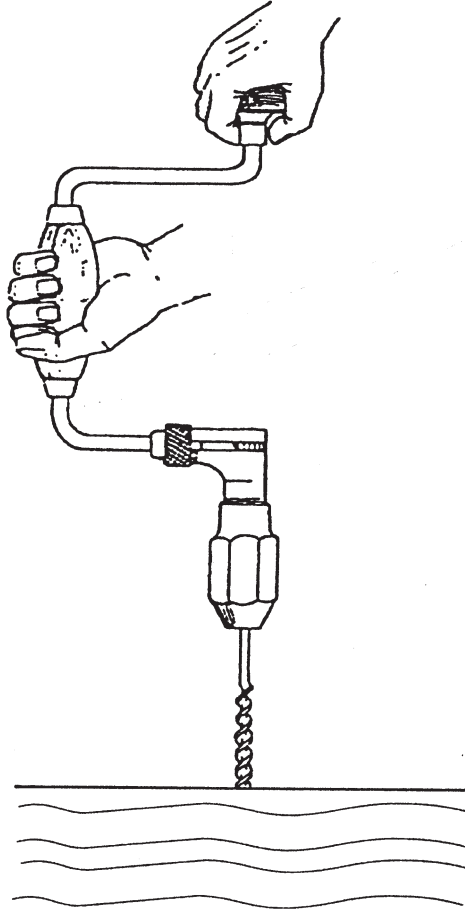
Mae'r erfyn a ddangosir yn **un** (1) o'r canlynol:

- (a) Befel llithr;
- (b) Sgwâr T;
- (c) Sgwâr profi;
- (ch) Sgwâr meitro.

Tanlinellwch yr ateb cywir.

[5]

2. Mae'r erfyn a ddangosir isod yn cael ei ddefnyddio i wneud twll mewn darn o bren.



Mae'r erfyn a ddangosir yn **un** (1) o'r canlynol:

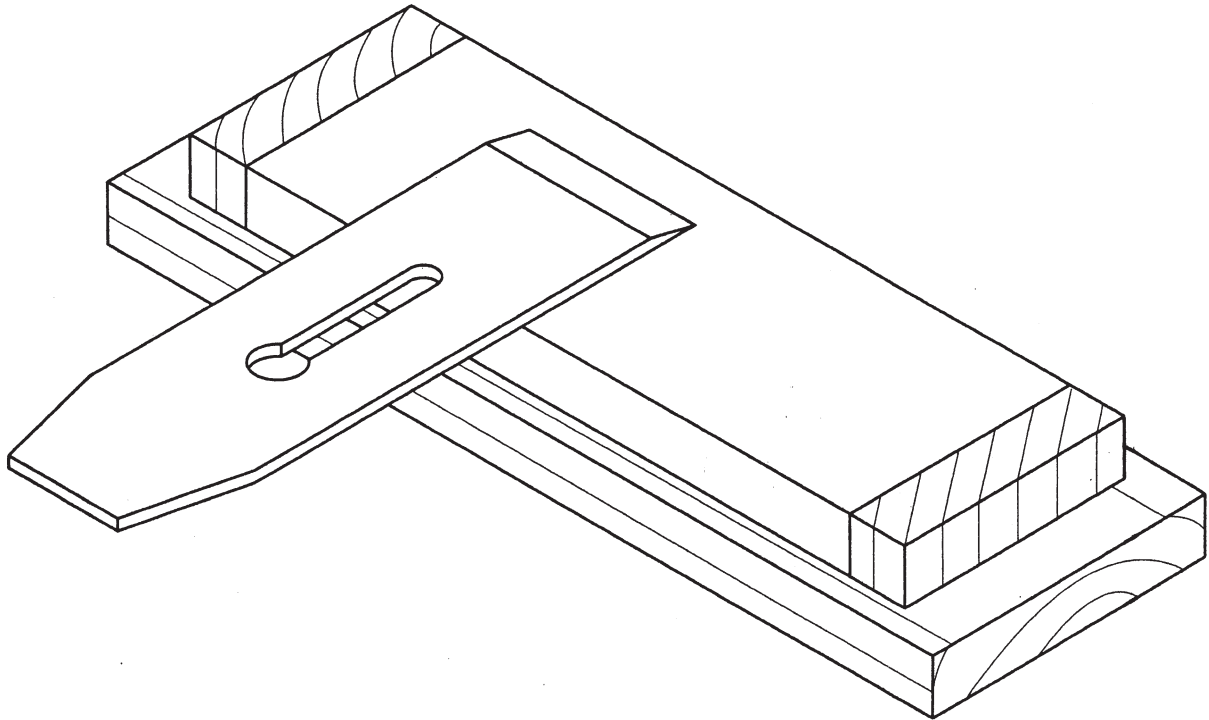
- (a) Dril llaw;
- (b) Mynawyd (*bradawl*);
- (c) Carntro ac ebill saer;
- (ch) Tyllydd tyllau hir.

Tanlinellwch yr ateb cywir.

[5]

3. Mae'r cwestiwn hwn yn sôn am hogi llafn plaen.

Mae'r braslun isod yn dangos cam yn y broses hogi.



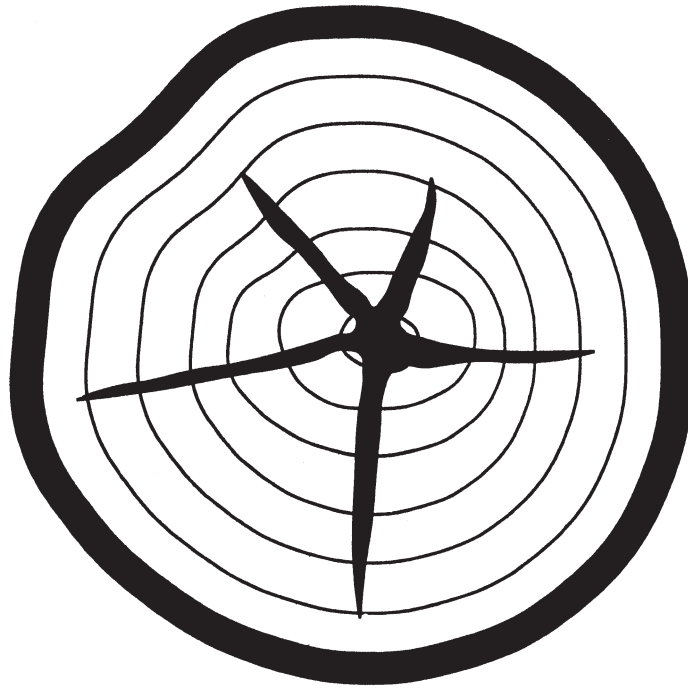
Mae'r cam yn y broses hogi yn **un** (1) o'r canlynol:

- (a) Llifanu cefn y llafn;
- (b) Cefnu'r min (*backing off the burr*);
- (c) Llathru cefn y llafn;
- (ch) Glanhau'r garreg hogi ar ôl hogi.

Tanlinellwch yr ateb cywir.

[5]

4. Mae'r braslun isod yn dangos diffyg (bai) ar ddiwedd boncyff.



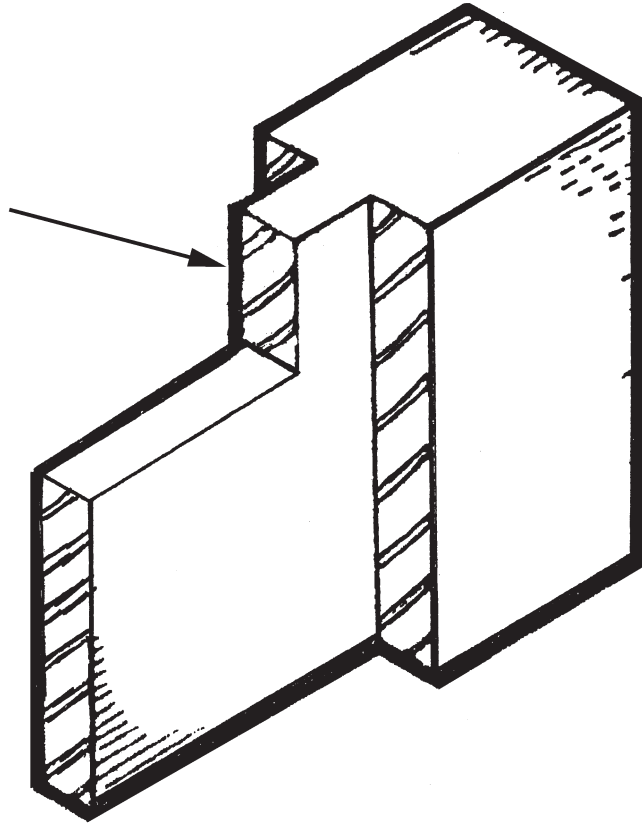
Mae'r diffyg (bai) ar ddiwedd y boncyff yn **un** (1) o'r canlynol:

- (a) Hollt cwpan;
- (b) Hollt taran;
- (c) Hollt coed;
- (ch) Hollt seren.

Tanlinellwch yr ateb cywir.

[5]

5. Mae'r braslun isod yn dangos Tyno.



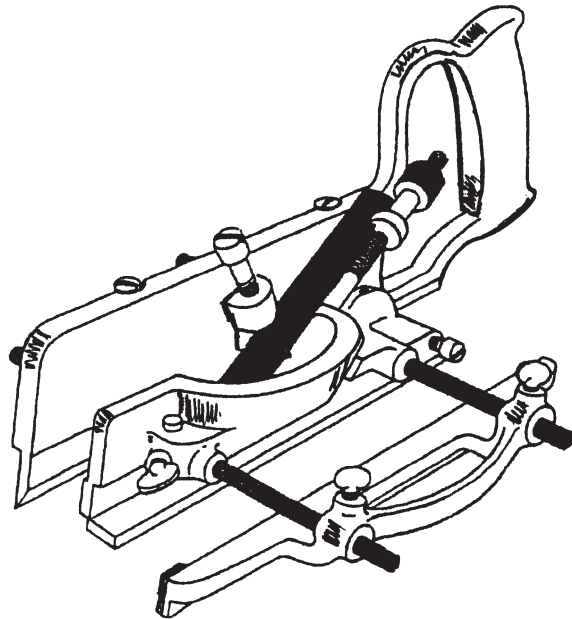

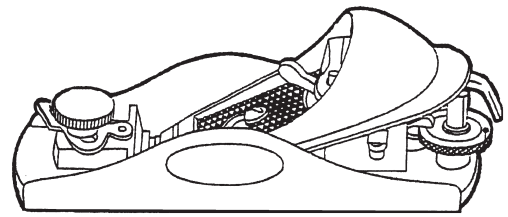
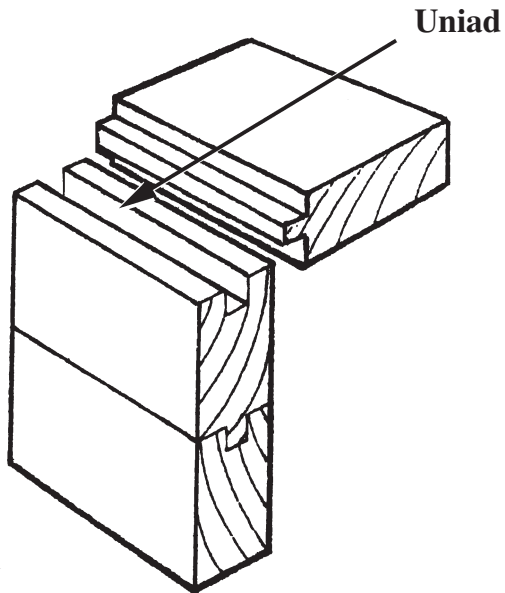
Mae'r saeth yn pwyntio at **un** (1) o'r canlynol:

- (a) Hasb;
- (b) Colfach;
- (c) Llaw;
- (d) Hans.

Tanlinellwch yr ateb cywir.

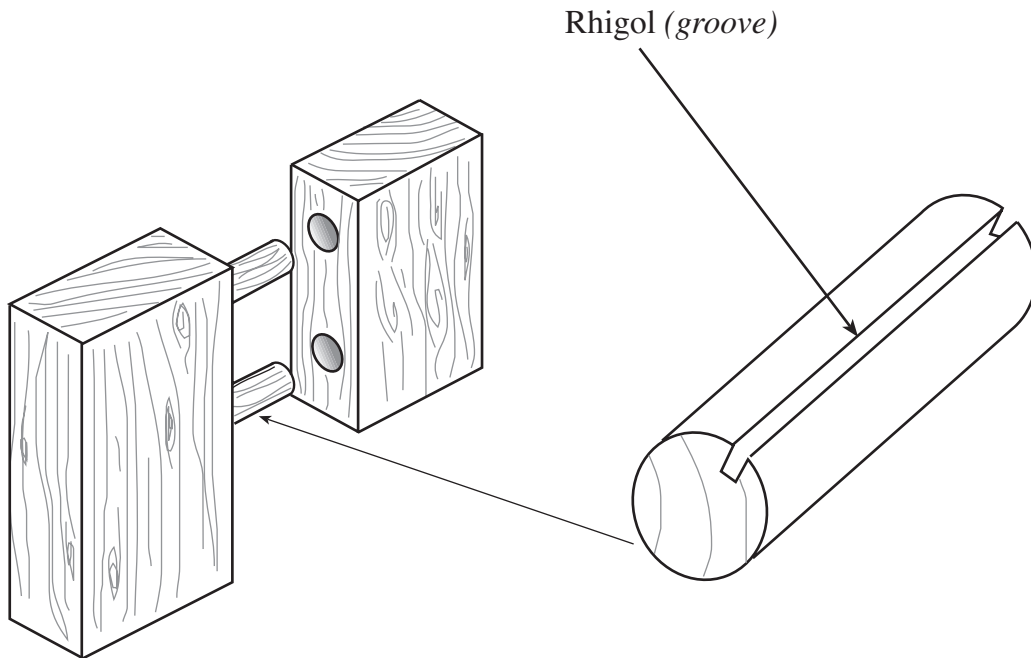
[5]

6. Mae'r brasluniau isod yn dangos uniad a **thri** (3) math o blaen.



- (a) **Rhowch gylch** o amgylch y plaen y byddech chi'n ei ddefnyddio i wneud dwy ran yr uniad. [2]
- (b) **Ysgrifennwch** enw'r plaen ar y llinell isod. [3]
- Enw'r plaen yw

7. Mae'r braslun isod yn dangos uniad hoelbren a golwg wedi'i helaethu (*enlarged view*) o hoelbren.



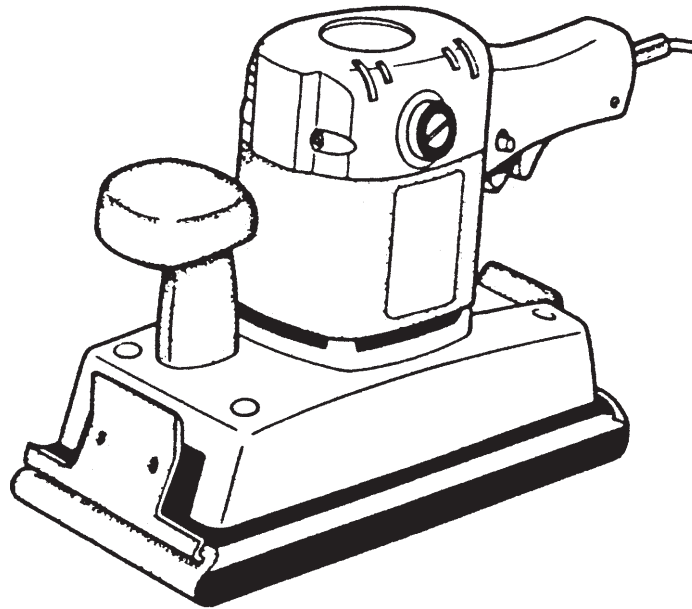
Mae gan yr hoelbren rigol wedi'i thorri ar ei hyd ar gyfer **un** (1) o'r canlynol:

- (a) caniatáu i awyr a glud ddianc;
- (b) ei helpu i ffitio i mewn i'r twll;
- (c) achos bod yr hoelbren wedi'i wneud fel hyn;
- (ch) cafodd y toriad llif ei wneud yn y lle anghywir.

Tanlinellwch yr ateb cywir.

[5]

8. Mae'r erfyn a ddangosir isod yn Sandiwr Orbital sy'n cael ei ddefnyddio yn yr ystafell Ddylunio a Thechnoleg.



Mae'r Sandiwr Orbital yn cael ei ddefnyddio ar gyfer **un** (1) o'r canlynol:

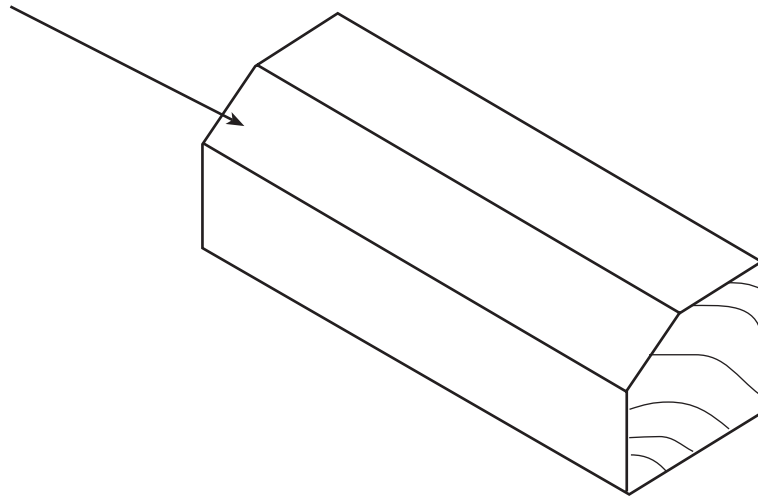
- (a) Sandio i mewn i gorneli;
- (b) Sandio arwynebau gwastad;
- (c) Sandio siapiau crwm;
- (ch) Sandio bowlen ar durn.

Tanlinellwch yr ateb cywir.

[5]

9. Mae'r braslun isod yn dangos darn o bren sydd â'r cornel wedi'i blaenio i ffwrdd.

Cornel wedi'i blaenio i ffwrdd



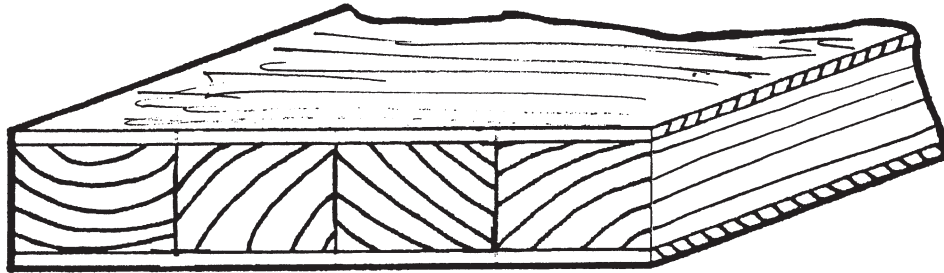
Mae hyn yn cael ei alw'n **un** (1) o'r canlynol:

- (a) Befel;
- (b) Llethr;
- (c) Siamffer;
- (ch) Cyfwyneb.

Tanlinellwch yr ateb cywir.

[5]

10. Mae'r braslun isod yn dangos Bwrdd Gwneud (*Man-made Board*).




Mae'r Bwrdd Gwneud yn **un** (1) o'r canlynol:

- (a) Blocfwrdd;
- (b) MDF;
- (c) Caledfwrdd;
- (ch) Bwrdd sglodion.

Tanlinellwch yr ateb cywir.

[5]

11. Mae'r erfyn a ddangosir isod yn fath arbennig o blaen sy'n cael ei ddefnyddio yn yr ystafell Ddylunio a Thechnoleg.



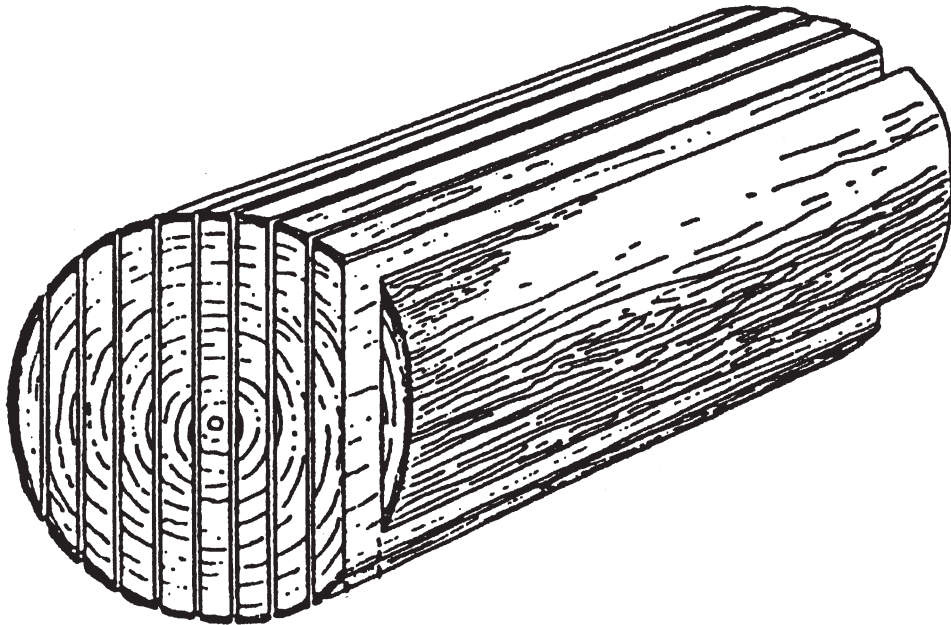
Mae'r erfyn uchod yn **un** (1) o'r canlynol:

- (a) Plaen rabadu;
- (b) Plaen jac;
- (c) Plaen dyfnder;
- (ch) Rhasgl.

Tanlinellwch yr ateb cywir.

[5]

12. Mae un dull (ffordd) o dorri coed yn blanciau yn cael ei ddangos isod.



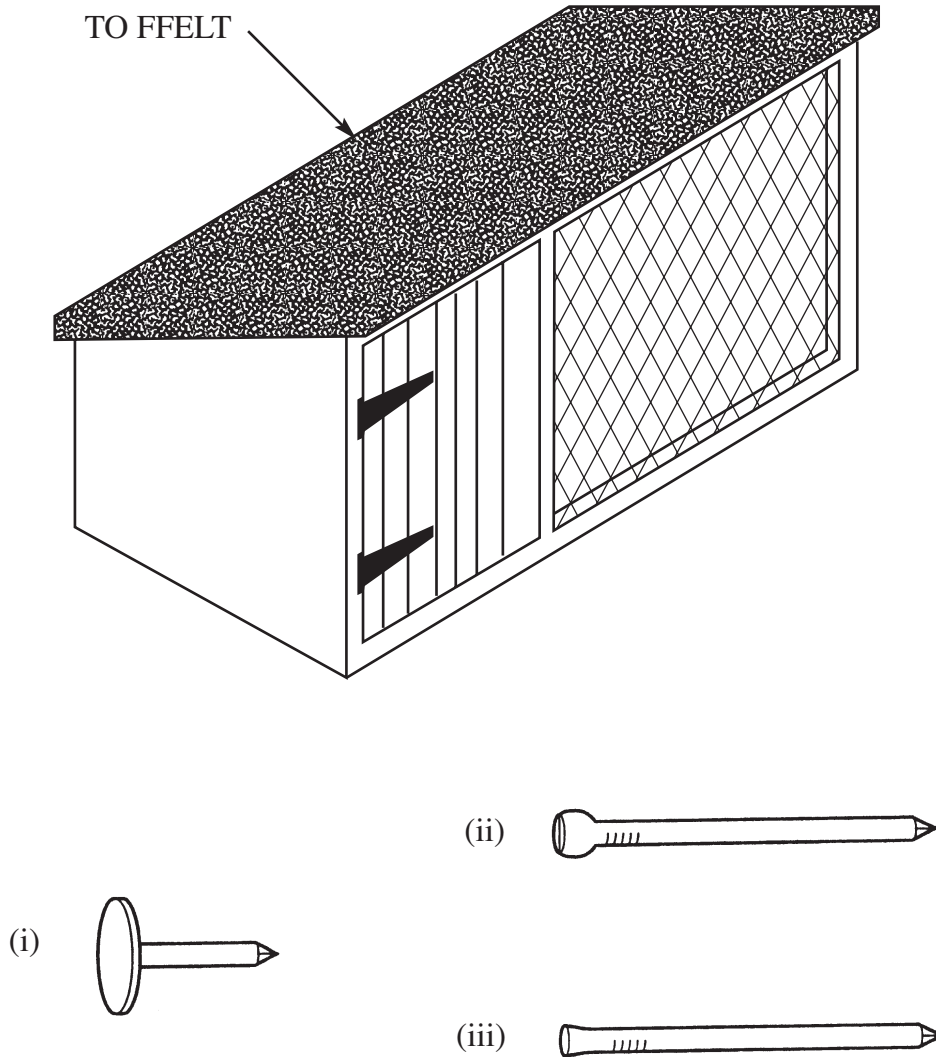
Mae'r dull (ffordd) o dorri coed yn blanciau yn **un** (1) o'r canlynol:

- (a) Llifiad trwodd a thrwodd (*through and through*);
- (b) Llifiad hir;
- (c) Llifiad cadwyn;
- (ch) Llifiad rheiddiol.

Tanlinellwch yr ateb cywir.

[5]

13. Mae'r brasluniau isod yn dangos cwt cwningen a **thri** (3) math o hoelen.

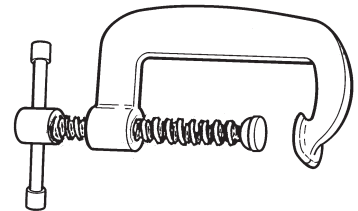
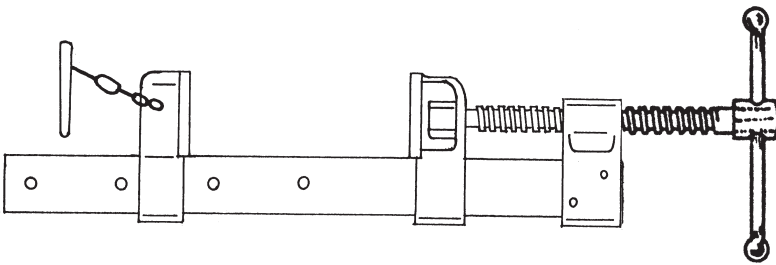
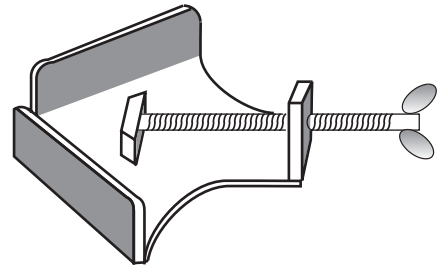
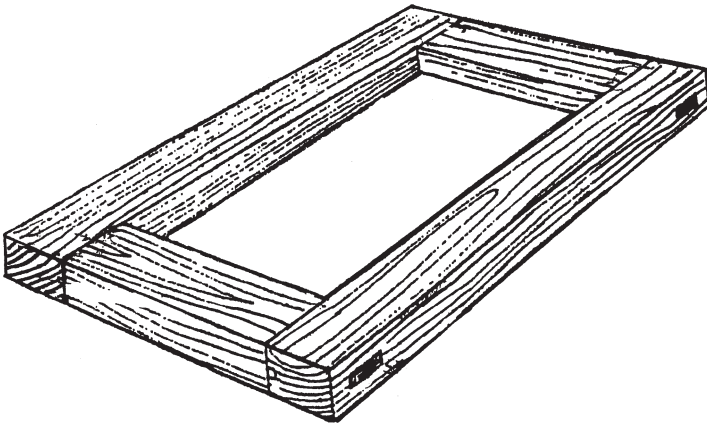


(a) **Rhowch gylch** o amgylch yr hoelen y byddech chi'n ei defnyddio i gydio (*attach*) y FFELT wrth y to. [2]

(b) **Ysgrifennwch** enw'r hoelen ar y llinell isod. [3]

Enw'r hoelen yw

14. Mae'r brasluniau isod yn dangos ffrâm sydd wedi'i gludio at ei gilydd a **thri** (3) math o gramp.

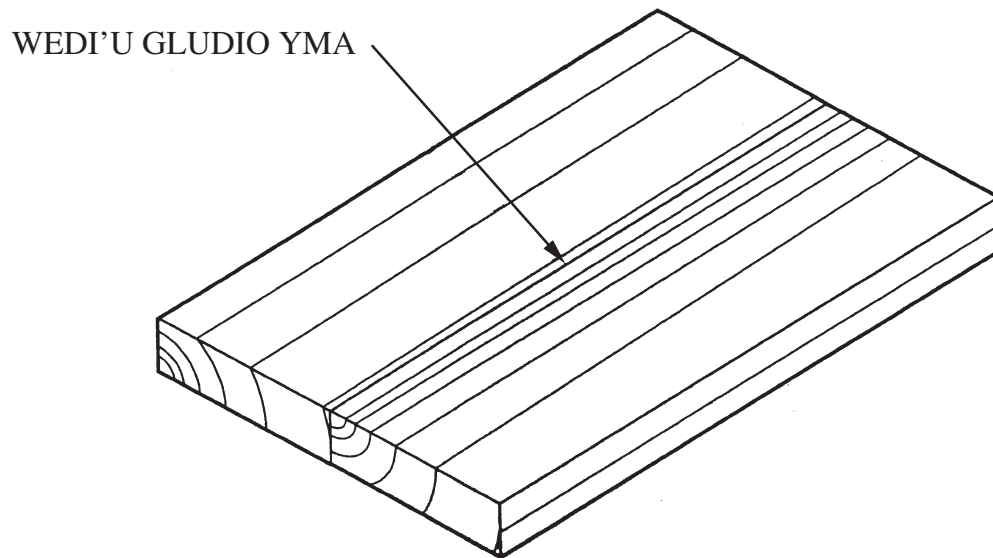


- (a) **Rhowch gylch** o amgylch y cramp y byddech chi'n ei ddefnyddio i ddal y ffrâm at ei gilydd wrth i'r glud sychu. [2]

- (b) **Ysgrifennwch** enw'r cramp ar y llinell isod. [3]

Enw'r cramp yw

15. Mae'r braslun isod yn dangos dau (2) fwrdd wedi'u huno (*joined*) at ei gilydd er mwyn gwneud un (1) bwrdd llydan ar gyfer top bwrdd coffi.



Mae'r enw ar yr uniad sy'n cael ei ddefnyddio i uno'r ddau (2) fwrdd a ddangosir uchod yn **un** (1) o'r canlynol:

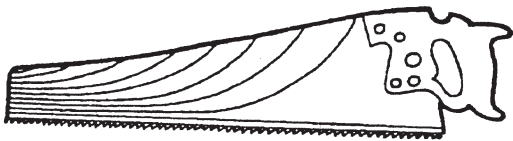
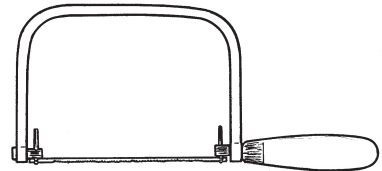
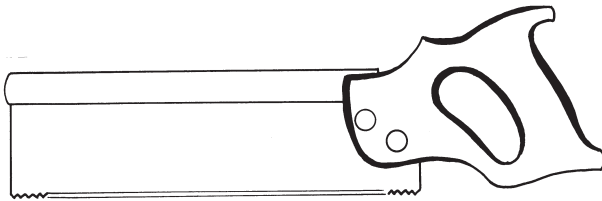


- (a) Uniad wedi'i ludio;
- (b) Uniad gwastad;
- (c) Uniad mortais a thyno;
- (ch) Uniad bôn.

Tanlinellwch yr ateb cywir.

[5]

16. Mae'r cwestiwn hwn yn sôn am dorri bwrdd sglodion â llif. Mae'r bwrdd i'w dorri ar hyd y llinell A-B.

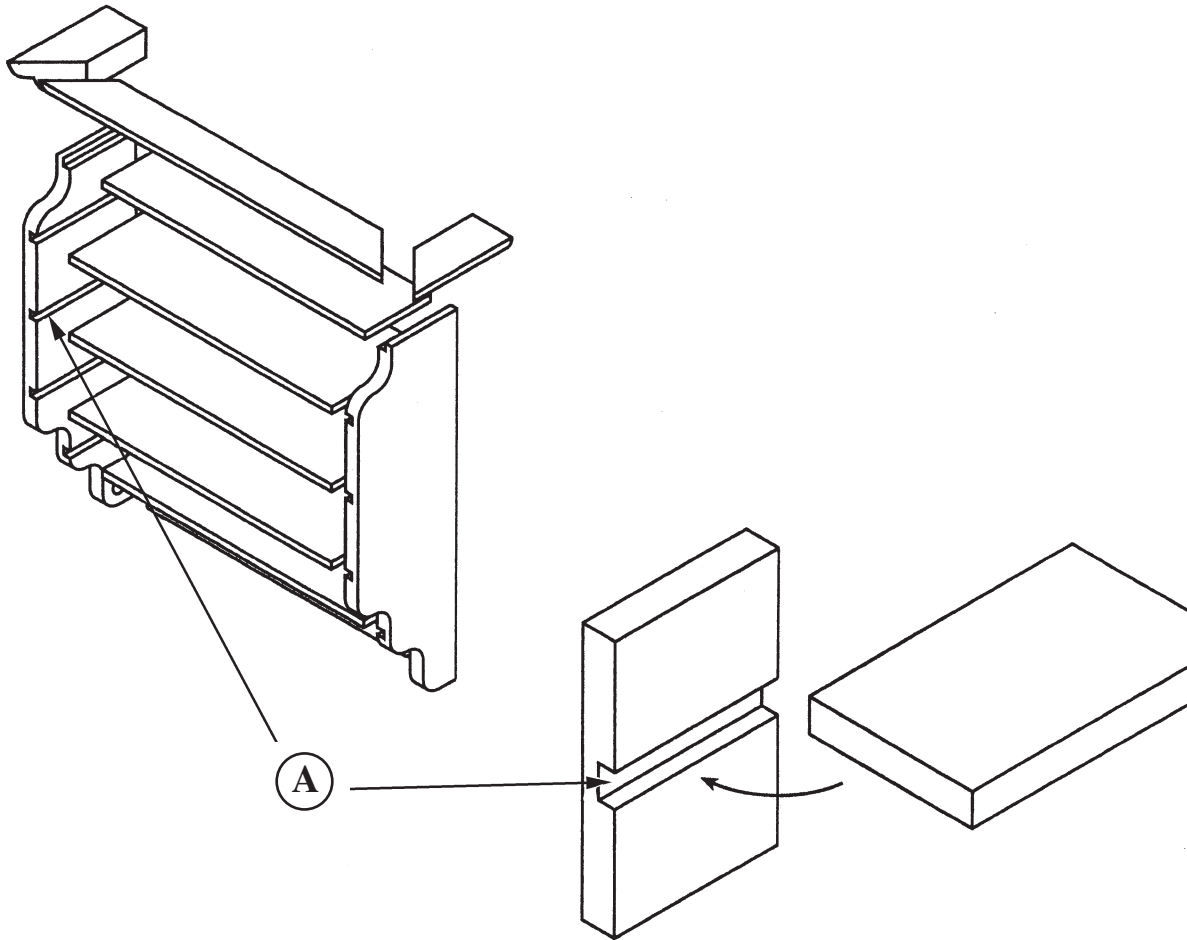
LLINELL A-B



- (a) **Rhowch gylch** o amgylch y llif y byddech chi'n ei defnyddio. [2]
- (b) **Ysgrifennwch** enw'r llif ar y llinell isod. [3]

Byddwn i'n defnyddio i dorri ar hyd y llinell.

17. Mae'r braslun isod yn dangos rhannau o set o silffoedd llyfrau a'r uniad yn **(A)**.



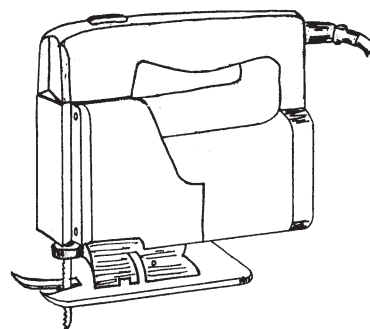
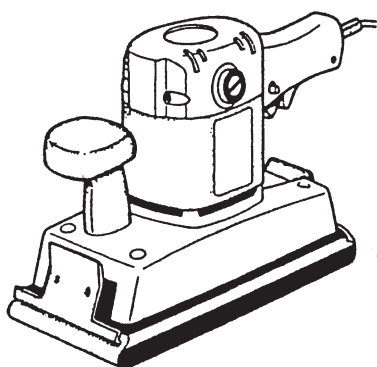
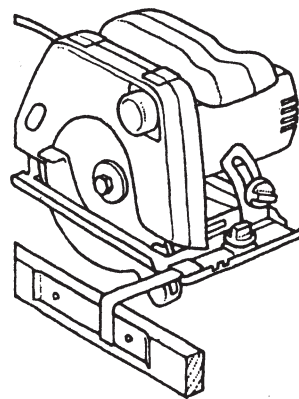
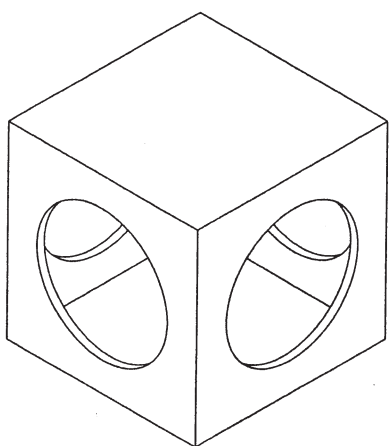
Mae'r enw ar yr uniad **(A)** yn **un** (1) o'r canlynol:

- (a) Uniad rabad;
- (b) Uniad haneru croes;
- (c) Uniad rhigol draws trwodd;
- (ch) Uniad hoelbren.

Tanlinellwch yr ateb cywir.

[5]

18. Mae'r brasluniau isod yn dangos blwch wedi'i wneud o bren haenog sydd â thyllau wedi'u torri allan o'r ochrau a **thri** (3) erfyn pŵer.

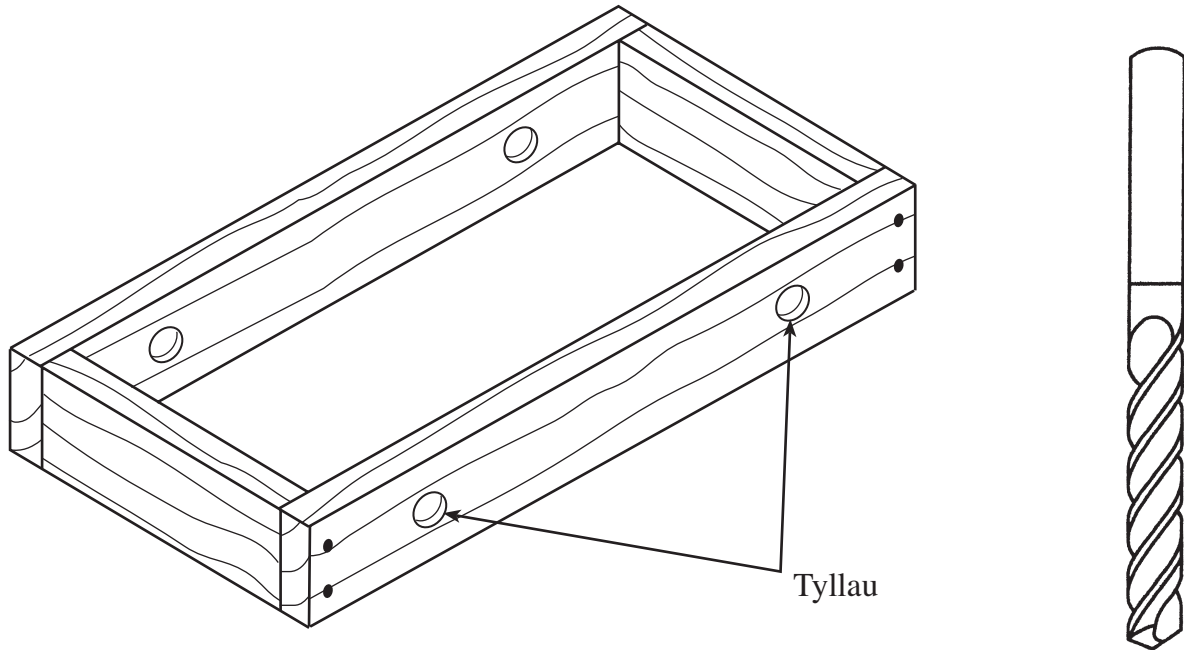


- (a) **Rhowch gylch** o amgylch yr erfyn pŵer y byddech chi'n ei ddefnyddio i dorri allan y tyllau yn ochr y blwch. [2]

- (b) **Ysgrifennwch** enw'r erfyn pŵer ar y llinell isod. [3]

Enw'r erfyn pŵer yw

19. Mae'r brasluniau isod yn dangos ffrâm fach, sydd â thyllau wedi'u drilio i mewn iddi a'r erfyn a gafodd ei ddefnyddio i ddrilio'r tyllau.



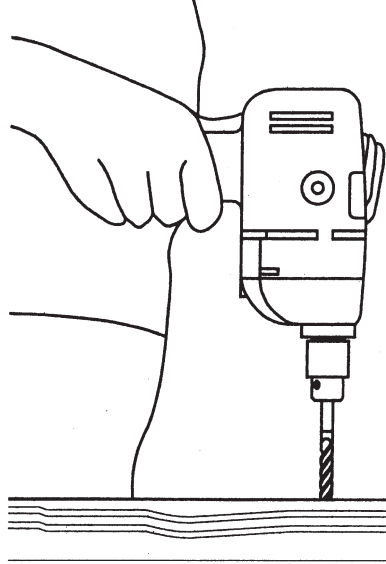
Mae'r erfyn a gafodd ei ddefnyddio i wneud y tyllau yn **un** (1) o'r canlynol:

- (a) Dril dirdro;
- (b) Ebill canoli;
- (c) Dril echel;
- (ch) Ebill gwrthsoddi.

Tanlinellwch yr ateb cywir.

[5]

20. Mae'r erfyn a ddangosir isod yn cael ei ddefnyddio i ddrilio twll mewn darn o bren.



Ar y llinellau isod, **ysgrifennwch bump** (5) o reolau diogelwch y dylech chi gadw atyn nhw wrth ddefnyddio'r dril trydan. [5]

- (i)
-
- (ii)
-
- (iii)
-
- (iv)
-
- (v)
-