



Histoire 12

Examen de référence C

Cahier d'examen

PARTIE A : QUESTIONS À CHOIX MULTIPLE

Valeur : 55 %

Durée suggérée

DIRECTIVES : Pour chaque question, choisis la **meilleure** réponse.

1. En 1919, quel pays croyait que sa demande de réparations à l'Allemagne était la plus justifiée de toutes?
 - A. l'Italie
 - B. la France
 - C. la Grande-Bretagne
 - D. les États-Unis

Référez-vous à la citation ci-dessous pour répondre à la question 2.

La division de la Turquie a laissé des peuples qui pour la plupart n'ont aucune formation politique; beaucoup d'entre eux sont incapables d'autonomie gouvernementale ou manifestent peu d'aptitudes dans ce domaine; ... il leur faudra beaucoup de soutien pour atteindre à une indépendance économique et politique.

Jan Smuts, délégué à la Conférence de paix de Paris (1919)

2. Quel parti pris s'exprime dans cette citation?
 - A. un parti pris pour les Arabes
 - B. un parti pris anti-impérialiste
 - C. un parti pris pour la supériorité européenne
 - D. un parti pris pour l'autodétermination

3. Avec quel pays était-il interdit à l'Allemagne de réaliser l'Anschluss (l'annexion)?
- A. avec la Pologne
 - B. avec l'Autriche
 - C. avec la Belgique
 - D. avec la Tchécoslovaquie
4. Lequel de ces territoires était sous le mandat de la France?
- A. la Syrie
 - B. la Jordanie
 - C. la Palestine
 - D. l'Arabie saoudite
5. Indiquez deux pays qui ont été membres fondateurs de la Société des Nations.
- A. la Grande-Bretagne et l'Italie
 - B. la Russie et le Japon
 - C. l'Italie et l'Allemagne
 - D. les États-Unis et la France

Référez-vous au slogan ci-dessous pour répondre à la question 6.

La guerre est à l'homme ce que la maternité est à la femme.

6. Dans quel type d'État ce slogan serait-il employé?
- A. dans un État fasciste
 - B. dans un État socialiste
 - C. dans un État démocratique
 - D. dans un État communiste

7. Lequel de ces moyens a permis à Mussolini de renforcer son pouvoir au Parlement?
 - A. la *Loi Acerbo*
 - B. le front de Stresa
 - C. les accords du Latran
 - D. l'Axe Rome-Berlin

8. Quelle politique Staline a-t-il préconisée durant sa lutte pour le pouvoir contre Trotski?
 - A. le communisme de guerre
 - B. la révolution mondiale
 - C. le concept « Paix, pain, terre »
 - D. le socialisme dans un seul pays

9. Quel groupe social a été éliminé parce qu'il résistait à la collectivisation?
 - A. la classe des koulaks
 - B. les officiers de l'armée
 - C. les travailleurs industriels
 - D. les dirigeants du Parti communiste

10. Quel pays a fait l'objet d'un désaccord entre Hitler et Mussolini en 1934?
 - A. l'Espagne
 - B. l'Autriche
 - C. l'Abyssinie
 - D. la Tchécoslovaquie

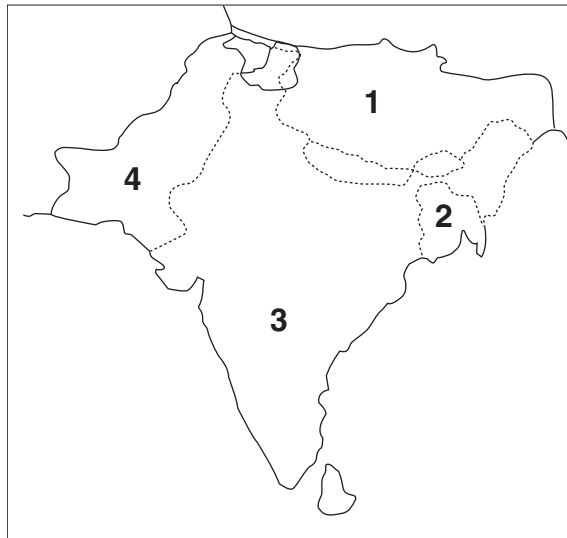
11. Laquelle de ces paires est conforme aux événements?
 - A. le concept du *lebensraum* (espace vital) et l'incendie du Reichstag (Parlement)
 - B. le plan Dawes et l'antisémitisme
 - C. les Jeunesses hitlériennes et le putsch de Munich
 - D. l'occupation de la Ruhr et l'hyperinflation

Référez-vous à la liste ci-dessous pour répondre à la question 12.

- les lois de Nuremberg
- la Nuit des longs couteaux
- la loi contre la formation de nouveaux partis politiques

12. Lequel des énoncés suivants concernant les faits énumérés dans cette liste est juste?
- A. Ils ont permis de supprimer les non-Aryens.
 - B. Ils ont contribué à l'établissement d'un régime totalitaire.
 - C. Ils ont permis au Parti communiste d'établir sa domination.
 - D. Ils étaient préconisés par la République de Weimar.

Référez-vous à la carte ci-dessous pour répondre à la question 13.



13. Dans quelles régions le nationalisme musulman s'est-il répandu durant les années 1930?
- A. dans les régions 1 et 3
 - B. dans les régions 1 et 4
 - C. dans les régions 2 et 3
 - D. dans les régions 2 et 4

14. Pour quelle raison les États-Unis ont-ils adopté une politique d'isolationnisme durant l'entre-deux-guerres?
- A. La Société des Nations leur refusait l'adhésion.
 - B. L'élimination des tarifs avait affaibli l'économie.
 - C. Les Américains voulaient éviter d'être entraînés dans une autre guerre à l'étranger.
 - D. Le président Wilson s'opposait à l'existence même de la Société des Nations.
15. Quel facteur a contribué à la prospérité des États-Unis durant les années 1920?
- A. la prohibition
 - B. l'exploitation du charbon
 - C. l'immigration
 - D. la construction automobile
16. À quoi servait « l'achat sur marge »?
- A. à réglementer la valeur marchande des actions cotées en Bourse
 - B. à acheter des actions à des prix moindres que leur valeur réelle
 - C. à acheter des actions en Bourse avec de l'argent emprunté
 - D. à acheter et à vendre des actions appartenant à des compagnies étrangères

Référez-vous à la caricature ci-dessous pour répondre à la question 17.



17. Quelle est « la solution » offerte?

- A. les lois de neutralité
- B. la *Loi prêt-bail*
- C. le New Deal
- D. la *Loi Hawley-Smoot*

18. Comment le Japon a-t-il essayé de mettre fin à ses problèmes économiques durant les années 1930?

- A. en élargissant son empire outre-mer
- B. en signant un traité d'alliance avec l'URSS
- C. en négociant un accord de libre-échange avec les États-Unis
- D. en établissant un gouvernement communiste

19. Lequel des énoncés suivants décrit correctement la façon dont le gouvernement allemand a agi pendant la guerre civile espagnole?
- A. Il a apporté son aide aux socialistes espagnols.
 - B. Il a adopté une politique de non-intervention.
 - C. Il a appuyé les troupes de la Société des Nations.
 - D. Il a fourni une aide militaire au Général Franco.
20. Laquelle des croyances ci-dessous appuyait la politique d'apaisement de Chamberlain?
- A. L'apaisement donnait à la Grande-Bretagne le temps de se réarmer.
 - B. L'apaisement mettait un terme à l'expansion territoriale des Allemands.
 - C. L'apaisement apportait un appui supplémentaire à la Société des Nations.
 - D. L'apaisement empêchait l'armée allemande d'accroître ses effectifs.
21. La *Kristallnacht* (Nuit de cristal) visait à terroriser un groupe social. Lequel?
- A. les Juifs
 - B. les SA
 - C. les catholiques
 - D. les communistes
22. Quel territoire l'Allemagne a-t-elle acquis par suite de la Conférence de Munich en 1938?
- A. la Pologne
 - B. l'Autriche
 - C. la Rhénanie
 - D. le pays sudète (Sudetenland)

23. Quel pays a fait subir à l'Allemagne son premier revers militaire de la Deuxième Guerre mondiale?
- A. la Grande-Bretagne
 - B. la France
 - C. la Pologne
 - D. l'URSS

Référez-vous à la caricature ci-dessous pour répondre à la question 24.



© Bruce Russell, Los Angeles Times (1942)

24. Quel message cette caricature communique-t-elle?
- A. L'opération Barbarousse a échoué.
 - B. L'opération Torch a forcé l'Allemagne à capituler.
 - C. Hitler a été défait par la Résistance française.
 - D. L'entrée en guerre des États-Unis a accru la pression sur l'Allemagne.

Référez-vous à la citation ci-dessous pour répondre à la question 25

En cas de retraite forcée..., il faut emmener tout le matériel roulant des chemins de fer, ne pas laisser à l'ennemi une seule locomotive ni un seul wagon, ne pas laisser à l'ennemi un seul kilogramme de blé, ni un litre de carburant.

Staline (1941)

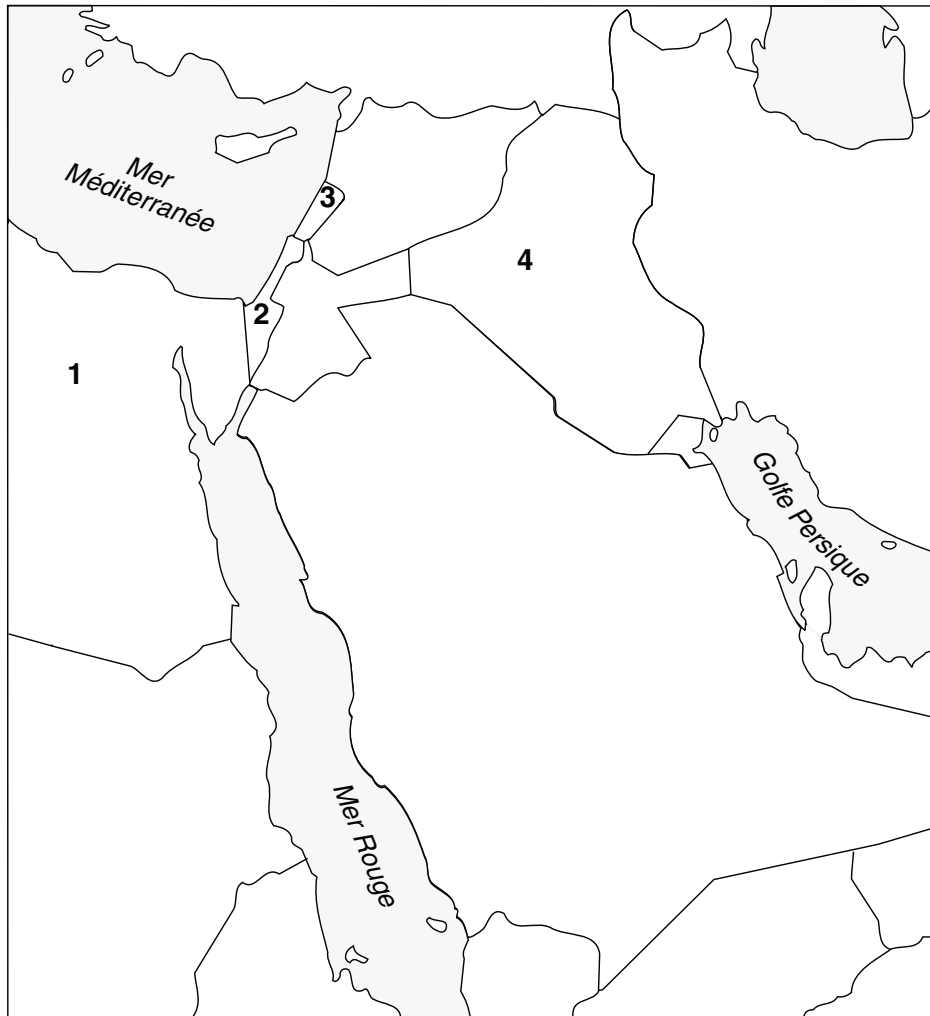
25. À quelle politique cette citation fait-elle référence?

- A. à celle de la guerre-éclair (*blitzkrieg*)
- B. à celle de la terre brûlée
- C. à celle de la collectivisation
- D. à celle du communisme de guerre

26. Quelle double stratégie les Alliés ont-ils employée pour combattre les sous-marins allemands?

- A. le sonar et les convois
- B. le radar et les chasseurs à réaction
- C. les porte-avions et les chars d'assaut
- D. la bombe atomique et les fusées V-2

Référez-vous à la carte ci-dessous pour répondre à la question 27.



27. Lequel de ces États a été créé par suite de l'Holocauste?

- A. l'État 1
- B. l'État 2
- C. l'État 3
- D. l'État 4

28. En réponse au plan Marshall, l'Union soviétique a instauré
- A. le *Comecon*.
 - B. le Komintern.
 - C. le Pacte de Varsovie.
 - D. la coexistence pacifique.

Référez-vous à l'énoncé ci-dessous pour répondre à la question 29.

En 1950, une coalition formée de seize pays a combattu sous le drapeau des Nations Unies.

29. Où ce conflit a-t-il eu lieu?
- A. à Suez
 - B. en Israël
 - C. en Corée
 - D. au Koweït
-

30. Quelle puissance impériale voulait rétablir son emprise sur l'Indochine après la Deuxième Guerre mondiale?
- A. la France
 - B. la Grande-Bretagne
 - C. les États-Unis
 - D. l'URSS

Référez-vous à la carte ci-dessous pour répondre à la question 31.



31. En 1956 et en 1968, des soulèvements contre la domination soviétique ont eu lieu dans deux pays. Lesquels?
- A. les pays 1 et 2
 - B. les pays 2 et 3
 - C. les pays 3 et 4
 - D. les pays 4 et 1

Référez-vous à la citation ci-dessous pour répondre à la question 32

Les opérations de fonderie ont commencé avec deux ou trois hauts fourneaux. Au début, ils les construisaient en briques à même le sol, mais plus tard, ils les enfouissaient comme dans de grandes cavernes... Ils les remplissaient en superposant alternativement des couches de charbon et de minerais. Ils ont ensuite organisé un grand concours pour voir qui pourrait fondre le plus de fer en une journée.

William Hinton, *Shenfan* (1983)

32. À quelle politique cette citation fait-elle référence?

- A. à la Révolution culturelle
- B. au Grand Bond en avant
- C. à la campagne des Cent Fleurs
- D. aux zones économiques spéciales

33. Laquelle de ces expressions décrit Gamal Abdel Nasser?

- A. un Juif sioniste
- B. un musulman séparatiste
- C. un Israélien impérialiste
- D. un Égyptien nationaliste

34. Comment l'Union soviétique a-t-elle réagi à la crise du canal de Suez?

- A. Elle a interrompu ses ventes d'armes au Moyen-Orient.
- B. Elle a opposé son veto à la décision de l'ONU d'envoyer des soldats de la paix.
- C. Elle a négocié un cessez-le-feu entre l'Égypte et Israël.
- D. Elle a condamné les attaques menées par la Grande-Bretagne, Israël et la France.

Référez-vous à l'énoncé suivant pour répondre à la question 35.

Le souhait du gouvernement britannique était d'accorder l'indépendance à une nation indienne unie, mais cela ne devait pas se réaliser.

35. Pourquoi le « souhait du gouvernement britannique » ne s'est-il pas réalisé?
- A. Nehru voulait une Inde peuplée uniquement d'Hindous.
 - B. Gandhi changea sa politique relativement à l'indépendance.
 - C. Un désaccord survint au sujet des armes nucléaires.
 - D. La violence éclata entre les Musulmans et les Hindous.
-
36. Lequel de ces événements a été la première victoire enregistrée par le mouvement de lutte pour les droits civiques aux États-Unis?
- A. la marche sur Washington
 - B. le programme « Grande Société »
 - C. la *Civil Rights Act* de 1964
 - D. l'affaire « Brown vs. Board of Education »
37. Quelle organisation Nelson Mandela a-t-il dirigée?
- A. le parti des Panthères noires
 - B. le Parti nationaliste
 - C. le Congrès national africain (ANC)
 - D. le Parti communiste sud-africain

Référez-vous à l'énoncé ci-dessous pour répondre à la question 38.


Comme Gandhi, il s'est fait l'apôtre de la non-violence pour atteindre ses objectifs et en définitive, obtenir l'égalité pleine et entière pour les Noirs-Américains.

38. À qui cet énoncé fait-il référence?
- A. à Steve Biko
 - B. à Malcolm X
 - C. à Stokely Carmichael
 - D. à Martin Luther King

39. Lorsque Khrouchtchev a accepté de retirer ses missiles de Cuba, les États-Unis ont promis en retour
- A. de ne pas envahir l'île.
 - B. de participer aux Négociations sur la limitation des armes stratégiques (*SALT*).
 - C. de lever l'embargo commercial.
 - D. de ne pas effectuer de vols d'espionnage au-dessus de l'URSS.
40. Lequel de ces conflits a donné lieu à des manifestations persistantes contre la guerre?
- A. la guerre du Golfe
 - B. la guerre des Six Jours
 - C. la guerre du Vietnam
 - D. la guerre de l'Iran contre l'Iraq
41. À quoi servait la piste Ho Chi Minh?
- A. Elle permettait de ravitailler les Viêt-congs.
 - B. Elle permettait aux troupes américaines de se déplacer.
 - C. Elle permettait aux réfugiés vietnamiens de fuir.
 - D. Elle permettait aux conseillers militaires chinois de circuler en toute sécurité.
42. Lors de la guerre des Six Jours, Israël s'est emparé de tous les territoires suivants, **sauf un**. Lequel?
- A. le Liban
 - B. la bande de Gaza
 - C. le plateau du Golan
 - D. la péninsule du Sinäï
43. Lequel de ces événements a entraîné une crise du pétrole aux États-Unis?
- A. la crise du canal de Suez
 - B. la guerre du *Yom Kippour*
 - C. la révolution iranienne
 - D. la guerre d'indépendance d'Israël

44. Qui était le chef de l'Organisation de libération de la Palestine?
- A. Anouar Sadate
 - B. Yasser Arafat
 - C. Saddam Hussein
 - D. Menahem Begin

Référez-vous à la caricature ci-dessous pour répondre à la question 45.



© Steve Greenberg, The Valley News, 1978.

45. Quel message cette caricature communique-t-elle?
- A. Les Soviétiques ont perdu la guerre froide.
 - B. Les tensions de la guerre froide ont repris de plus belle.
 - C. Les relations entre la Chine et les États-Unis se sont améliorées.
 - D. Le gouvernement taïwanais a été défait.

Référez-vous à l'information ci-dessous pour répondre à la question.

- le Petit Livre rouge de Mao
- les gardes rouges
- « envoi à la campagne »

46. À quoi associe-t-on ces éléments?

- A. aux plans quinquennaux
- B. à la Révolution culturelle
- C. au Grand Bond en avant
- D. aux zones économiques spéciales

47. Lequel des énoncés suivants concernant les zones économiques spéciales de la Chine est juste?

- A. Elles ont entraîné une diminution de la production industrielle.
- B. Elles étaient financées grâce à l'aide soviétique.
- C. Elles permettaient d'attirer les investissements étrangers.
- D. Elles étaient inspirées des plans quinquennaux de Staline.

48. Pourquoi l'Accord *SALT II* n'a-t-il pas été ratifié?

- A. Gorbatchev s'y est opposé.
- B. L'Union soviétique a envahi l'Afghanistan.
- C. Il a été remplacé par le Traité sur la non-prolifération des armes nucléaires.
- D. Les États-Unis voulaient passer à l'Initiative de défense stratégique (IDS).

49. Lequel de ces événements constitue un exemple de l'ère de la détente?

- A. le Printemps de Prague
- B. les accords d'Helsinki
- C. le mouvement Solidarité
- D. les Jeux olympiques de Moscou (1980)

Référez-vous à l'énoncé ci-dessous pour répondre à la question 50.

En URSS, le citoyen ordinaire devait presque chaque jour faire la queue pendant à peu près une heure et demie pour acheter de la nourriture ou d'autres produits essentiels.

50. Gorbatchev a essayé de résoudre ce problème

- A. en instaurant la politique de *glasnost* (transparence).
- B. en instaurant la politique de *perestroïka* (restructuration).
- C. en procédant à une centralisation économique.
- D. en mettant fin au monopole du Parti communiste.

51. En 1991, quel pays avait commencé à se diviser à cause du nationalisme ethnique?

- A. la Pologne
- B. la Hongrie
- C. l'Allemagne
- D. la Yougoslavie

Fin de la section à choix multiple.
Répondez aux questions à développement dans votre cahier de réponses.

PARTIE B : QUESTIONS À RÉPONSE ÉCRITE ET ANALYSE DE DOCUMENTS

Valeur : 18 %

Durée suggérée : 15 minutes

SECTION 1 : Question à réponse écrite (6 %)

DIRECTIVES : Choisissez **une** question de la SECTION 1 et répondez à **cette** question dans l'espace prévu dans votre **cahier de réponses**.

- Si vous répondez à plus d'une question, seule **la première** sera corrigée.
- Votre réponse devrait être **divisée en paragraphes**.

1. Expliquez l'influence du nationalisme sur les décisions qui ont été prises à la Conférence de paix de Paris.

OU

2. Expliquez les méthodes que Staline a employées pour moderniser l'URSS.

Organisation et planification

Utilisez cet espace pour planifier vos idées avant d'écrire dans le **cahier de réponses**.

LE TRAVAIL FAIT SUR CETTE PAGE NE SERA PAS NOTÉ.

Organisation et planification

Utilisez cet espace pour planifier vos idées avant d'écrire dans le **cahier de réponses**.

LE TRAVAIL FAIT SUR CETTE PAGE NE SERA PAS NOTÉ.

SECTION 2 : Question d'analyse de documents historiques (12 %)

DIRECTIVES : Référez-vous aux documents 1 à 6 pour répondre à la question 3. Votre réponse doit être divisée en paragraphes.

LA GUERRE DU VIETNAM

DOCUMENT 1

Le 16 février 1946

J'aimerais profiter de cette occasion pour vous remercier, vous-même ainsi que le peuple américain, de l'intérêt que vos représentants à l'Organisation des Nations Unies ont manifesté à l'égard des peuples assujettis... L'agression à laquelle la France s'est livrée contre un


peuple pacifique menace directement la sécurité mondiale... Motivés par cette conviction profonde, nous vous demandons à vous, les États-Unis, qui êtes les gardiens et les champions de la justice dans le monde,

de prendre une mesure décisive pour appuyer notre quête d'indépendance.

Je vous prie d'agréer, Monsieur le Président, l'expression de ma très haute considération.
Ho Chi Minh.

Lettre au président Truman

DOCUMENT 2



« Et alors, les autres boutons? »

Caricaturiste non identifié (1950) :
The Vietnam War: A History in Documents (2002)

DOCUMENT 3

Si les États-Unis ne peuvent pas ou ne veulent pas sauver le Sud-Vietnam de l'agression communiste, aucun pays asiatique ne pourra jamais plus leur faire confiance pour assurer sa sécurité; la chute de tous les autres pays de l'Asie du Sud-Est ne serait alors qu'une question de temps.

Time Magazine (1961)

DOCUMENT 4

Au cours des dix dernières années, les impérialistes américains et leurs hommes de main nous ont livré une guerre sans merci, faisant beaucoup souffrir nos compatriotes du Sud-Vietnam.

Ho Chi Minh (1965)

DOCUMENT 5

Notre objectif au Vietnam est d'empêcher la réussite d'une agression. Ce n'est pas de conquérir, ni d'élargir notre empire; ce n'est pas d'implanter des bases militaires outre-mer, ni de dominer. En quelques mots, c'est simplement d'empêcher le Nord-Vietnam de conquérir le Sud-Vietnam par la force.

Lyndon B. Johnson (1966)

DOCUMENT 6

Au plus fort de la guerre (1968), l'Union soviétique avait des milliers de « conseillers » Nord-Vietnam. Ils installaient des systèmes de défense antiaérienne, construisaient des bases de lancement de missiles surface-air et veillaient à leur fonctionnement et à leur entretien; ils assuraient, en outre, une formation et un soutien logistique aux combattants nord-vietnamiens.

American Library of Congress, *Country Studies* (2007)

3. Dans quelle mesure l'engagement du gouvernement américain dans la guerre du Vietnam pouvait-il être justifié?
Référez-vous aux documents 1 à 6 **ainsi qu'à** d'autres preuves historiques pour répondre à la question 3.

Organisation et planification

Utilisez cet espace pour planifier vos idées avant d'écrire dans le **cahier de réponses**.

LE TRAVAIL FAIT SUR CETTE PAGE NE SERA PAS NOTÉ.

Organisation et planification

Utilisez cet espace pour planifier vos idées avant d'écrire dans le **cahier de réponses**.

LE TRAVAIL FAIT SUR CETTE PAGE NE SERA PAS NOTÉ.

PARTIE C : DISSERTATION

Valeur : 27 %

Durée suggérée : 45 minutes

DIRECTIVES : Choisissez **une** des deux questions suivantes et rédigez une dissertation comportant plusieurs paragraphes, en utilisant l'espace prévu pour la Partie C dans le **cahier de réponses**.
Écrivez au **stylo**.

Vous devez :

- développer une thèse;
- utiliser des exemples historiques tirés de la période 1917–1991;
- développer les deux points de vue sur la question.

4. Dans quelle mesure les dirigeants des grandes puissances ont-ils agi dans l'intérêt supérieur de leurs peuples durant la période 1917–1991?

OU

5. Dans quelle mesure le désir d'autodétermination nationale a-t-il été une source de conflits durant la période 1917–1991?

FIN DE L'EXAMEN

