

AGA KHAN UNIVERSITY EXAMINATION BOARD

SECONDARY SCHOOL CERTIFICATE

CLASS IX EXAMINATION

MAY 2012

Pakistan Studies Paper I

Time allowed: 30 minutes Marks 20

ہدایات

- 1- ہر سوال کو غور سے پڑھیے۔
- 2- جوابات کے ورق پر جوابات دیجیے جو علیحدہ مہیا کیا گیا ہے۔ اپنے جوابات، سوالات کے پرچے پر ہر گز نہ لکھیے۔
- 3- جوابات کے ورق پر 100 تک نمبر دیے گئے ہیں۔ آپ 1 سے 20 نمبر تک ہی جوابات دیجیے۔
- 4- ہر سوال کے چار انتخابات (options) A, B, C, D دیے گئے ہیں۔ ان میں سے ایک کو منتخب کیجیے۔ پھر جوابات کے صفحے میں متعلقہ دائرے کو پینسل سے بھر دیجیے جیسا کہ نیچے دکھایا گیا ہے۔

امیدوار کے دستخط

غلط طریقہ صحیح طریقہ

1	(A)	(B)	(C)	(D)
1	(A)	(B)	(C)	(D)
2	(A)	(B)	(C)	(D)
3	(A)	(B)	(C)	(D)
4	(A)	(B)	(C)	(D)

- 5- اگر آپ اپنا جواب بدلنا چاہیں تو پہلے والے جواب کو مکمل طور پر ربر بڑ سے مٹا دیجیے پھر نئے دائرے کو بھریے۔
- 6- جوابات کے صفحے میں کچھ نہ لکھیے۔ کمپیوٹر صرف بھرے ہوئے دائروں کو ریکارڈ کرے گا۔

-1 کسی بھی قوم کے لیے نظریہ اہم ہوتا اس کے

-A استحکام کے لیے

-B قیام کے لیے

-C جذبہ کے لیے

-D ترقی کے لیے

-2 دو قومی نظریے کی جڑیں ملتی ہیں

-A جنگ آزادی میں

-B ہندی، اردو تنازع میں

-C کونسلوں میں عدم نمائندگی میں

-D اعلیٰ ملازمتوں (سول سروس) کے امتحان میں

-3 1857ء کی جنگ آزادی کی فوری وجہ تھی

-A لپیڈ کا نظریہ (Doctrine of Lapse)

-B چربی دار کارٹوس

-C عیسائی مشنریاں

-D محاصل کا نفاذ

-4 جنگ پلاسی نے انگریزوں کو اس مالدار صوبے کے نظم و نسق سنبھالنے کی راہ ہموار کر دی

-A بہار

-B اڑیسہ

-C پنجاب

-D بنگال

-5 درج ذیل نکات شملہ مشن کی اہمیت کو اجاگر کرتے ہیں سوائے اس کے:

-A مسلم لیگ کا قیام کے

-B انگریزوں سے تعلقات میں بہتری کے

-C آئین اور دستوری نمائندگی کے

-D تقسیم بنگال کے

6- بیسویں صدی میں یہ ہندو مسلم اتحاد کی امید کی ایک شمع تھی

- A مورلے، منٹو اصلاحات
- B معاندہ لکھنؤ
- C مونیٹگو، چیمبلز فورڈ اصلاحات
- D تحریک خلافت

7- کس اصلاح کو گاندھی نے ”گرتے ہوئے (زوال پذیر) بینک کے لیے بعد از تاریخ چیک“ (post dated cheque on a failing bank) کے نام سے گردانا تھا۔

- A کرپس مشن
- B کیبنٹ مشن
- C شملہ کانفرنس
- D 3 جون کا منصوبہ

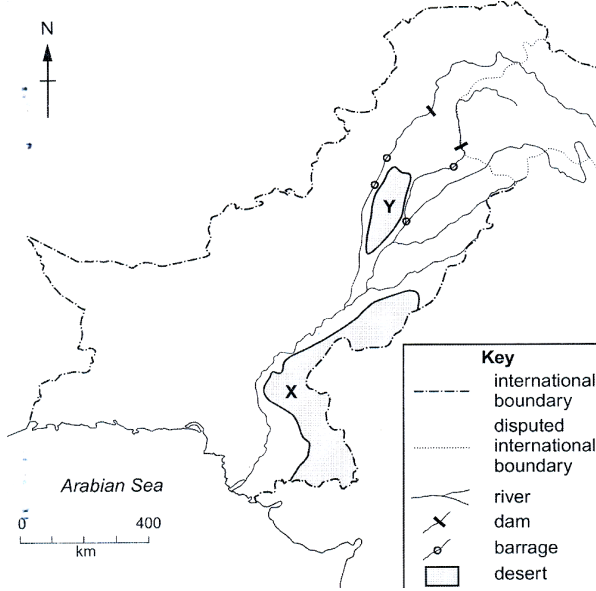
8- کیبنٹ مشن کا نتیجہ اس کے قیام کی صورت میں نکلا

- A جنگ عظیم کے بعد ذاتی اقتدار
- B دستور ساز اسمبلی
- C صوبوں کے تین گروہ
- D کابینہ کی اسمبلی

9- 1937-39 میں کانگریس حکومت پر ایسے مذہبی تنازعات کی دبیز دھند چھائی ہوئی ہے، جس میں شامل ہے

- A بندے ماترم کا ترانہ
- B ویدیا مندر منصوبہ (Widia Mandir Scheme)
- C وارد اسکیم (منصوبہ) (Warda Scheme)
- D عوامی رابطہ مہم (Mass Contact Scheme)

10- پیش کردہ نقشے میں درج ذیل میں سے کون سے بالترتیب X اور Y صحراؤں کی درست نشان دہی کرتے ہیں؟

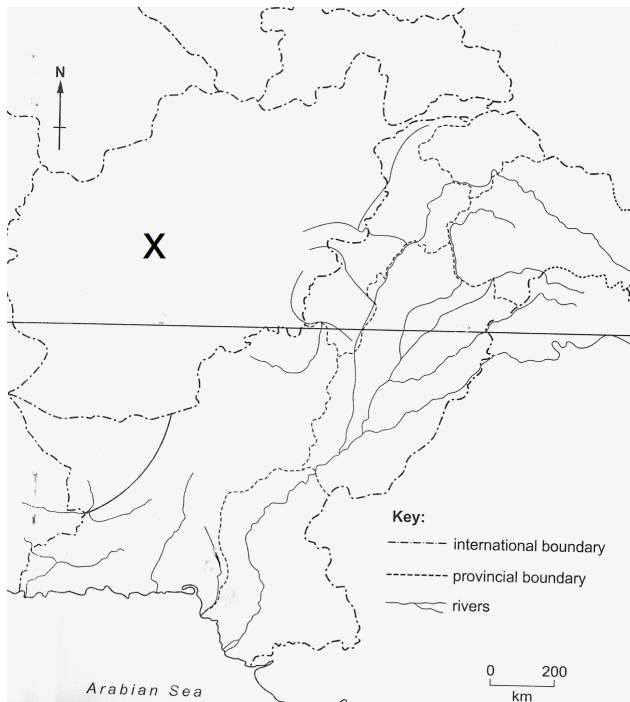


- A تھر اور تھل
- B خرم اور نارہ
- C چولستان اور خرم
- D تھل اور تھر پارکر

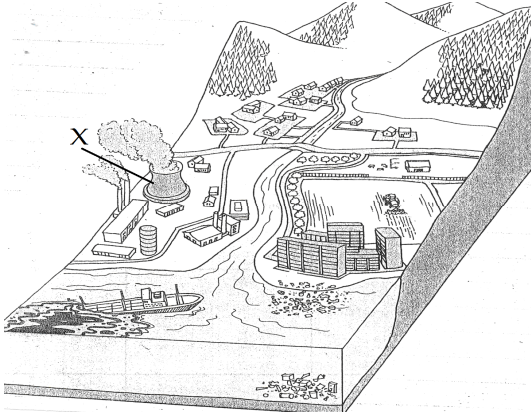
11- برف کا میدان ہوتا ہے جہاں

- A سارا سال برف باری ہوتی ہیں۔
- B برف پگھلتی نہیں ہے۔
- C جہاں زمین کھسکتی ہے (land slide)۔
- D جہاں زیادہ برف جمع ہو جاتی ہے۔

12- پیش کردہ نقشے پر 'X' کس ملک کی نشان دہی کرتا ہے؟



- A چین
- B ایران
- C افغانستان
- D بھارت



13- پیش کردہ تصویر میں 'X' نمائندگی کرتا ہے

- A ارضی آلودگی کی
- B آبی آلودگی کی
- C فضائی (ہوا کی) آلودگی کی
- D شور (آواز کی) آلودگی کی

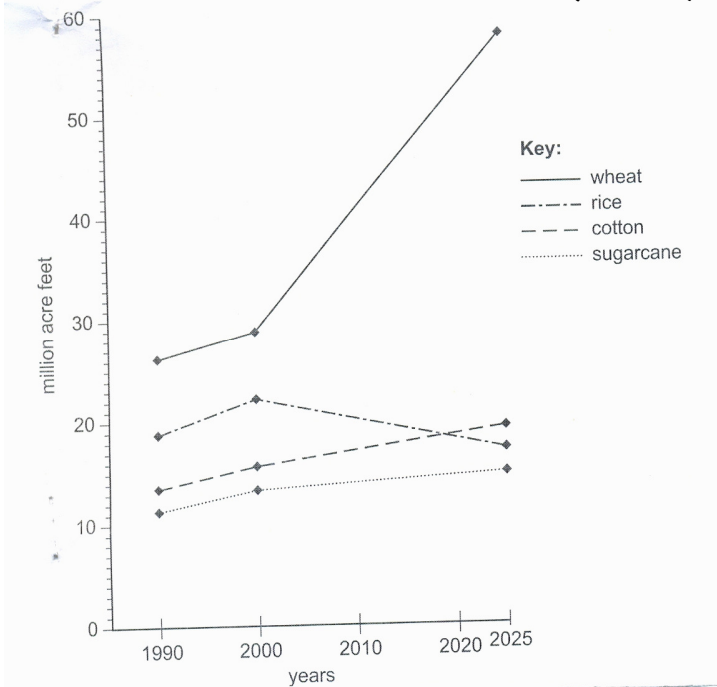
14- درج ذیل میں سے کون سی جگہ معدنیات سے مالا مال ہے؟

- A کوہ سفید اور وزیرستان کی پہاڑیاں
- B سلسلہ نمک (سالت رینج)
- C سلسلہ کیرتھر
- D سلسلہ سوات

15- درج ذیل ہر ایک آلودگی میں اضافے کا باعث ہے سوائے

- A آبادی میں اضافہ
- B صحرا میں اضافہ
- C جنگلات کی صفائی (کٹائی)
- D صنعتی فروغ

16- پیش کردہ ترسیم (graph) 2025 تک پاکستان میں چار فصلوں کی پانی کی متوقع طلب / ضرورت کو ظاہر کرتا ہے۔ 2025 تک کس فصل کی پانی



کی کم تر طلب متوقع ہے؟

- A گندم
- B روئی (کاٹن)
- C چاول
- D گٹا

براہ کرم صفحہ الٹئے

17- چاول کی کاشت کے عمل میں یہ چار عمل شامل ہیں

A	کھیتوں کی تیاری	تخم ریزی	افزائش	حاصل فصل
B	تخم ریزی	کھیتوں کی تیاری	افزائش	حاصل فصل
C	تخم ریزی	افزائش	حاصل فصل	کھیتوں کی تیاری
D	کھیتوں کی تیاری	افزائش	تخم ریزی	حاصل فصل

18- چوڑے کا پتھر اس میں استعمال ہوتا ہے۔

A- رنگ (ڈائیز)

B- مصنوعی کھاد

C- زیورات

D- سیمنٹ

19- کس ملک کے لیے پاکستان کی ماہی (مچھلی) کی برآمد سب سے زیادہ ہے؟

A- سری لنکا

B- چین

C- جاپان

D- ریاست ہائے متحدہ (امریکہ)

20- کس (منع) توانائی کے ذرائع کے لیے حفاظت کی سب سے زیادہ احتیاتی تدابیر کی ضرورت ہوتی ہے؟

A- شمسی (سولر)

B- حراری (تھرمل)

C- نیوکلیری (نیوکلر)

D- آبی بجلی

Please use this page for rough work

Please use this page for rough work