

Enw'r Ymgeisydd	Rhif y Ganolfan	Rhif yr Ymgeisydd

CYD-BWYLLGOR ADDYSG CYMRU  
Tystysgrif Addysg Gyffredinol  
Uwch Gyfrannol/Uwch



WELSH JOINT EDUCATION COMMITTEE  
General Certificate of Education  
Advanced Subsidiary/Advanced

443/51

**DAEARYDDIAETH – UNED GG3a**

**DAEARYDDIAETH YMCHWILIADOL**

- A. YMCHWILIAD YM MAES DAEARYDDIAETH FFISEGOL**  
**B. YMCHWILIAD YM MAES DAEARYDDIAETH DDYNOL**

P.M. DYDD GWENER, 19 Mai 2006

(1½ awr)

Arholwr yn unig	
Adran A	
Adran B	
Cyfanswm	

### DEUNYDDIAU YCHWANEGOL

Yn ogystal â'r papur arholiad hwn, bydd angen cyfrifiannell.

### CYFARWYDDIADAU I YMGEISWYR

Ysgrifennwch eich enw, rhif y ganolfan a'ch rhif ymgeisydd yn y blychau ar ben y dudalen hon.

Atebwch **bob** cwestiwn yn y manau priodol.

**Dylech gyfyngu eich atebion i'r llinellau a ddarperir. Ni ddylech ddefnyddio'r llinellau yn y cefn oni bai i chi ddileu rhannau helaeth o'ch ateb.**

### GWYBODAETH I YMGEISWYR

Atgoffir chi y bydd y marcio yn cymryd i ystyriaeth ansawdd cyfathrebu eich atebion.

Dangosir nifer y marciau sydd ar gael mewn cromfachau ar ddiwedd pob cwestiwn neu ran o gwestiwn.

Ni roddir tystysgrif i ymgeisydd a geir yn ymddwyn yn annheg yn ystod yr arholiad.

**ADRAN A. YMCHWILIAD YM MAES DAEARYDDIAETH FFISEGOL**

**Astudiaeth o'r ffactorau sy'n dylanwadu ar gyfraddau ymdreiddiad dŵr i'r pridd  
mewn dalgylch bychan afon yng nghanolbarth Cymru**

Roedd dau fyfyrwr eisiau mesur ymdreiddiad ar bedwar safle mewn rhan o ddalgylch afon yn yr uwchdir er mwyn ymchwilio i unrhyw amrywiadau yn y cyfraddau ymdreiddiad. Roedd y myfyrwyr yn gwybod bod cyfraddau ymdreiddiad yn dibynnu ar amrywiaeth o ffactorau ffisegol a dynol.

Mae **Map 1** ar **dudalen 3** yn dangos y rhan o'r dalgylch afon y gwnaethont ei ddewis yn yr uwchdir.

Mae'r pedwar safle lle y mesurwyd y cyfraddau ymdreiddiad wedi'u labelu 1 – 4 ar y map hwn.

1. (a) Heblaw am uchder, nodwch **ddau** ddarn o dystiolaeth o'r rhanfap sy'n awgrymu mai dalgylch afon mewn **uwchdir** yw hwn. [2]

.....

.....

.....

.....

- (b) Eglurwch pam roedd angen i'r myfyrwyr gasglu eu data mewn amrywiaeth o leoliadau. [3]

.....

.....

.....

.....

.....

.....

.....

- (c) Diffiniwch *hapsamplu* ac eglurwch pam y byddai wedi bod yn anaddas ar gyfer penderfynu ar leoliad y pedwar safle. [3]

.....

.....

.....

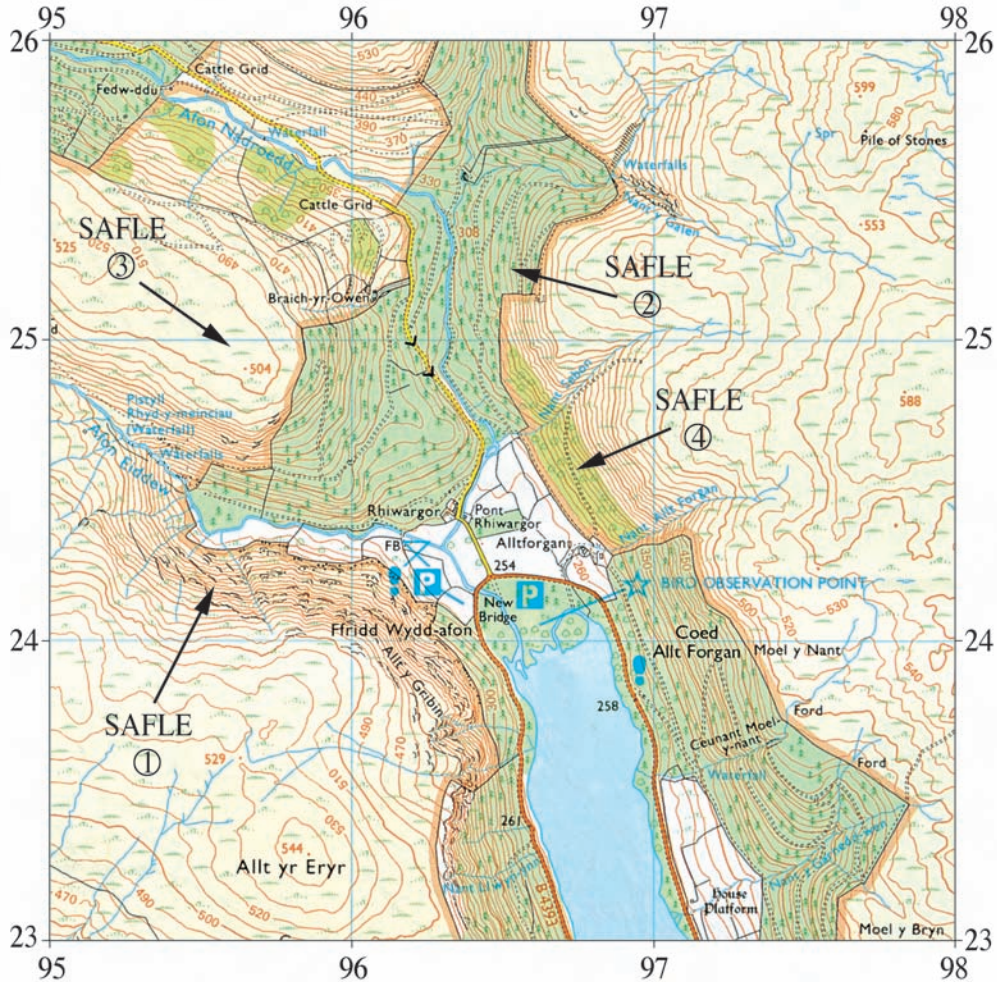
.....

.....

.....

.....

Rhanfap Ordnans yn dangos rhan o ddalgylch afon mewn uwchdir



Map 1


2. Mae **Diagram 1** ar **dudalen 5** yn dangos y dull a ddefnyddiwyd gan y myfyrwyr i fesur y cyfraddau ymdreiddiad. Cyflawnwyd y dull gweithredu hwn dros gyfnod penodol o amser ym mhob un o'r pedwar safle. Cafodd y mesuriadau hyn eu cymryd yn yr haf ar ôl sawl diwrnod o dywydd sych.

Lluniwch ddalen gofnodi yn y lle gwag isod, dalen y byddai'r myfyrwyr wedi gallu ei defnyddio ar gyfer casglu data'r gwaith maes hwn yn y pedwar safle.

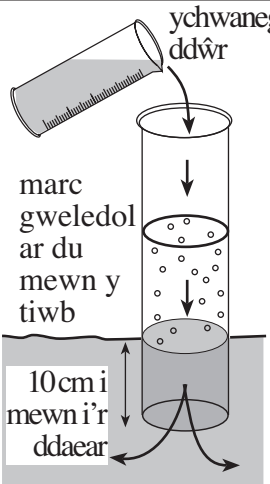
Defnyddiwch y wybodaeth ar **Ddiagram 1** a **Graff 1** ar **dudalen 5** i'ch helpu.

[5]

Dalen Gofnodi



## Mesur yr Ymdreiddiad



ychwanegwch ddŵr

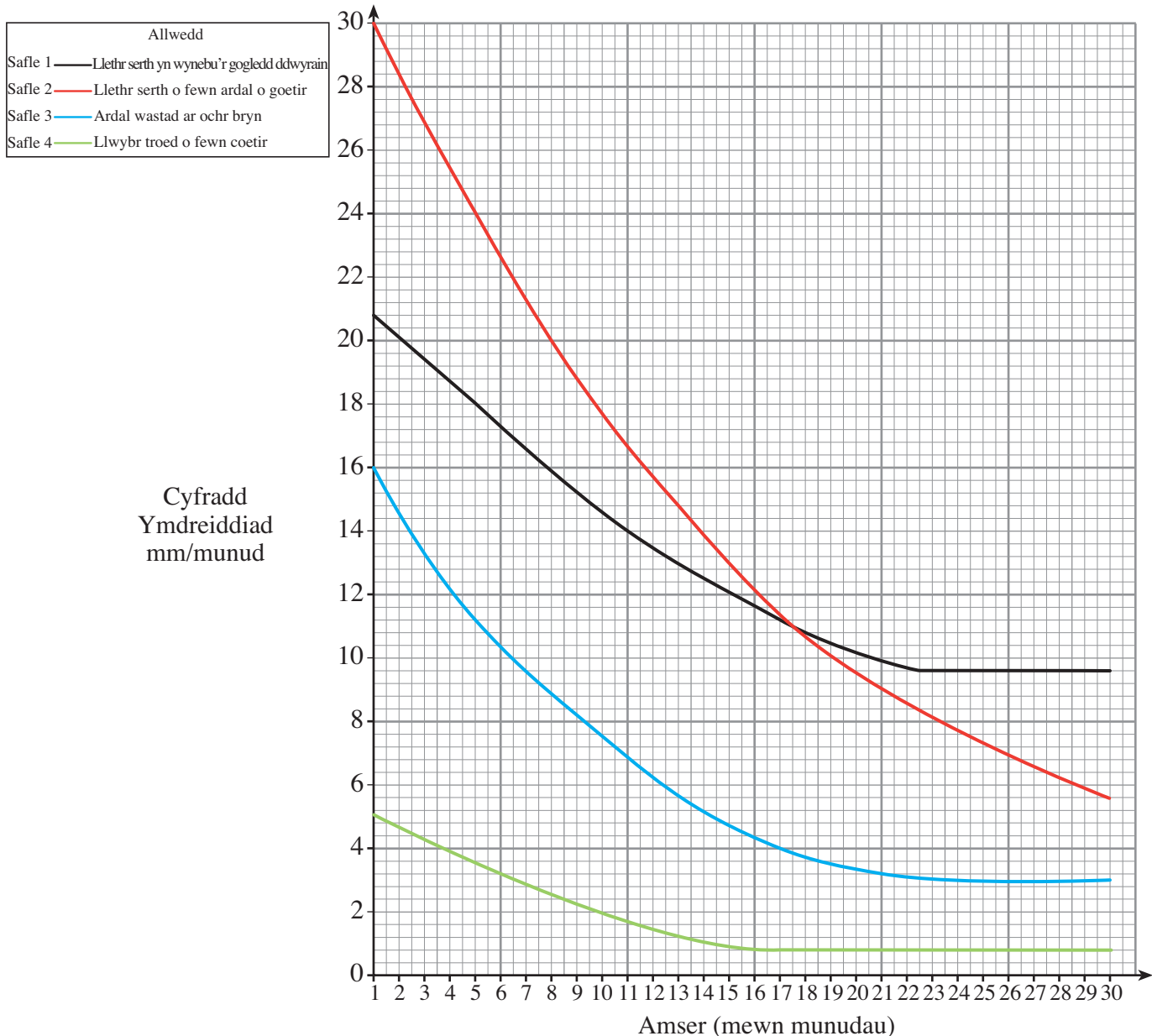
marc gweledol ar du mewn y tiwb

10cm i mewn i'r ddaear

- Defnyddiwch ddarn 30cm o beipen law (*drainpipe*) sydd â marc gweledol sy'n dal dŵr (*waterproof*) ar y tu mewn.
- Gwthiwch/morthwylwch y beipen law yn gadarn i mewn i'r ddaear i ddyfnder o tua 10cm.
- Yn gyflym, ychwanegwch ddŵr i'r tiwb hyd at y marc gweledol.
- Gan ddefnyddio ail gynhwysydd wedi'i raddnodi, arllwyswch ddŵr i mewn i'r beipen law. Mesurwch faint o ddŵr sy'n cael ei ychwanegu bob munud er mwyn cadw'r dŵr yn y beipen law hyd at y marc gweledol.
- Dylid parhau i gymryd mesuriadau bob munud hyd nes y bydd cyfradd gyson wedi'i chyrraedd.

**Diffiniad o ymdreiddiad yw'r broses lle mae dŵr yn mynd i mewn i'r pridd.**

Diagram 1



Graff 1

Trosodd.

3. Cofnododd y myfyrwyr yr holl ddata oedd eu hangen ar gyfer y pedwar safle ac yna lluniodd un ohonynt **Graff 1** i gynrychioli'r data hyn. Dim ond gwybodaeth am y 30 munud cyntaf o fesuriadau ym mhob safle a ddangosir ar y graff.

(a) Cymharwch y cromlinau ymdreiddiad a ddangosir gan y graff. [4]

.....

.....

.....

.....

.....

.....

.....

.....

.....

(b) Nodwch y gyfradd ymdreiddiad cyson terfynol ar gyfer y safle gwastad ar ochr y bryn. [1]

.....

(c) Eglurwch pam nad yw'n bosibl eto, o'r wybodaeth a ddangosir ar **Graff 1**, rhoi ymdreiddiad cyson terfynol ar gyfer y safle ar y llethr coediog serth. [1]

.....

.....

4. Trafodwch sut y gallai'r myfyrwyr wella a datblygu'r astudiaeth hon. [6]

.....

.....

.....

.....

.....

.....

.....

.....

.....

.....

.....

.....

.....

.....

.....

.....

.....

.....

.....

.....

.....

.....

.....

**ADRAN B. YMCHWILIAD YM MAES DAEARYDDIAETH DDYNOL****Astudiaeth o batrymau amddifadiad ar hyd trawslun trefol**

Roedd myfyrwraig eisiau astudio patrymau amddifadiad (*deprivation*) o fewn ei dinas enedigol yn Ne Cymru. Roedd yn gwybod mai un o'r ffynonellau gorau ar gyfer gwybodaeth fyddai Cyfrifiad Cenedlaethol 2001. Roedd hefyd yn gwybod na fyddai ganddi'r amser i ystyried amddifadiad ar draws y ddinas gyfan ac felly penderfynodd ddefnyddio **un** trawslun trefol. Cyn dechrau ar ei hastudiaeth yn fanwl, cerddodd ar hyd y trawslun a ddewisodd o ganol y ddinas tuag allan.

1. (a) Beth yw ystyr y term '*trawslun*'? [1]

.....

.....

- (b) Heblaw am ystyriaethau diogelwch a mynediad, awgrymwch pam roedd yn syniad da iddi hi gerdded ar hyd y trawslun cyn dechrau ar ei hastudiaeth yn fanwl. [2]

.....

.....

.....

.....

- (c) Eglurwch sut y byddai ymchwilio mwy nag un trawslun tuag allan o ganol y ddinas wedi gwella'i hastudiaeth. [2]

.....

.....

.....

.....

2. Roedd angen i'r fyfyrwraig gael gwybodaeth fanwl o'r cyfrifiad am yr ardaloedd ar hyd y trawslun. Ar gyfer y rhan fwyaf o astudiaethau trefol lleol, mae graddfa orau'r data ar lefel 'ward'. Mae **Tabl 1** yn dangos rhywfaint o'r wybodaeth cyfrifiad a gafodd am y wardiau ar hyd y trawslun. Mae **Map 2a** ar **dudalen 10** yn dangos lleoliad y wardiau a'r trawslun a ddewiswyd.

## Newidynnau wedi'u dewis fesul ward

## Cyfrifiad Cenedlaethol 2001

Ward	Pellter o ganol y ddinas i ganol y ward (km)	Cyfanswm Poblogaeth (000oedd)	Cyfradd Diweithdra (%)	Dwysedd Poblogaeth (i bob km sg.)	Newid Poblogaeth (1991-2001)%	Perchenogaeth Car (%)	Tai Sengl (%)
A	2.2	8.3	4.7	641	- 7.7	33	3.2
B	3.1	13.2	4.8	778	- 1.7	42	2.1
C	3.9	6.7	3.8	659	- 0.3	51	4.4
D	5.2	10.4	3.6	489	+ 1.6	64	10.4
E	5.8	5.8	4.1	402	+ 1.3	78	29.2
F	6.9	17.1	2.8	231	+ 5.7	79	34.2
G	7.7	13.9	2.4	188	+ 4.8	81	54.8
H	8.9	4.8	1.3	113	+ 13.8	93	83.1

Tabl 1

- (a) Gwnaeth y fyfyrwraig ei hymchwiliad yn 2006. Eglurwch sut a pham y mae hyn yn cyfyngu ar werth y data cyfrifiad a gafodd. [3]

.....

.....

.....

.....

.....

.....

.....

- (b) Pa newidyn yn y tabl nad yw'n berthnasol i'w hastudiaeth o batrymau amddifadiad? [1]

.....

- (c) Nodwch

- (i) newidyn sy'n dangos cydberthyniad cadarnhaol perffaith gyda phellter o ganol y ddinas; [1]

.....

- (ii) newidyn sy'n dangos cydberthyniad negyddol cryf gyda phellter o ganol y ddinas. [1]

.....



3. Trwy ddefnyddio pump o'r newidynnau yn **Nhabl 1**, cyfrifodd y fyfyrwraig Fynegrif Amddifadiad (*Deprivation Index*). Gwnaeth hyn drwy raddio pob un o'r newidynnau hyn ar gyfer yr wyth ward, gyda gradd o 1 ar gyfer yr un lleiaf amddifadus (*deprived*) ac 8 ar gyfer yr un mwyaf amddifadus. Drwy eu cyfansymio ar gyfer pob ward, ceir y Mynegrif Amddifadiad.

Mae **Tabl 2** yn dangos y Mynegrif Amddifadiad ar gyfer pob ward.

Ward	Mynegrif Amddifadiad
A	36
B	38
C	30
D	23
E	23
F	14
G	11
H	5

**Tabl 2**

- (a) (i) Cwblhewch fap coropleth (graddliwio yn ôl dwysedd) ar **Fap 2b** ar **dudalen 10**, gan ddefnyddio'r Mynegrifau Amddifadiad. Dewiswch ffiniau dosbarth addas a graddliwio priodol. Lluniwch allwedd yn y lle gwag a ddarperir i chi wrth ymyl y map ar **dudalen 10**. [4]
- (ii) Eglurwch yn gryno eich penderfyniad dros y ffiniau dosbarth. [2]

.....

.....

.....

.....

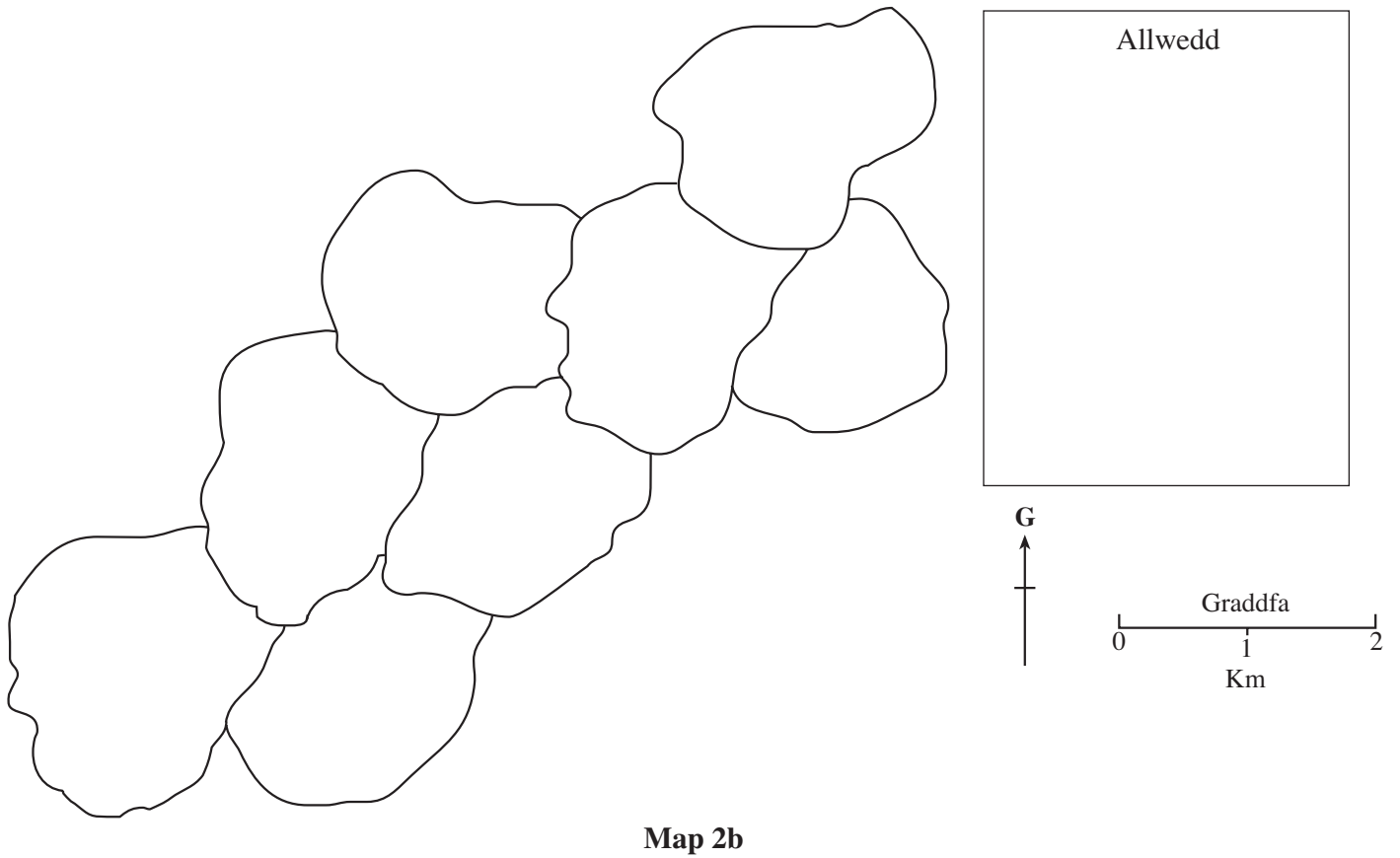
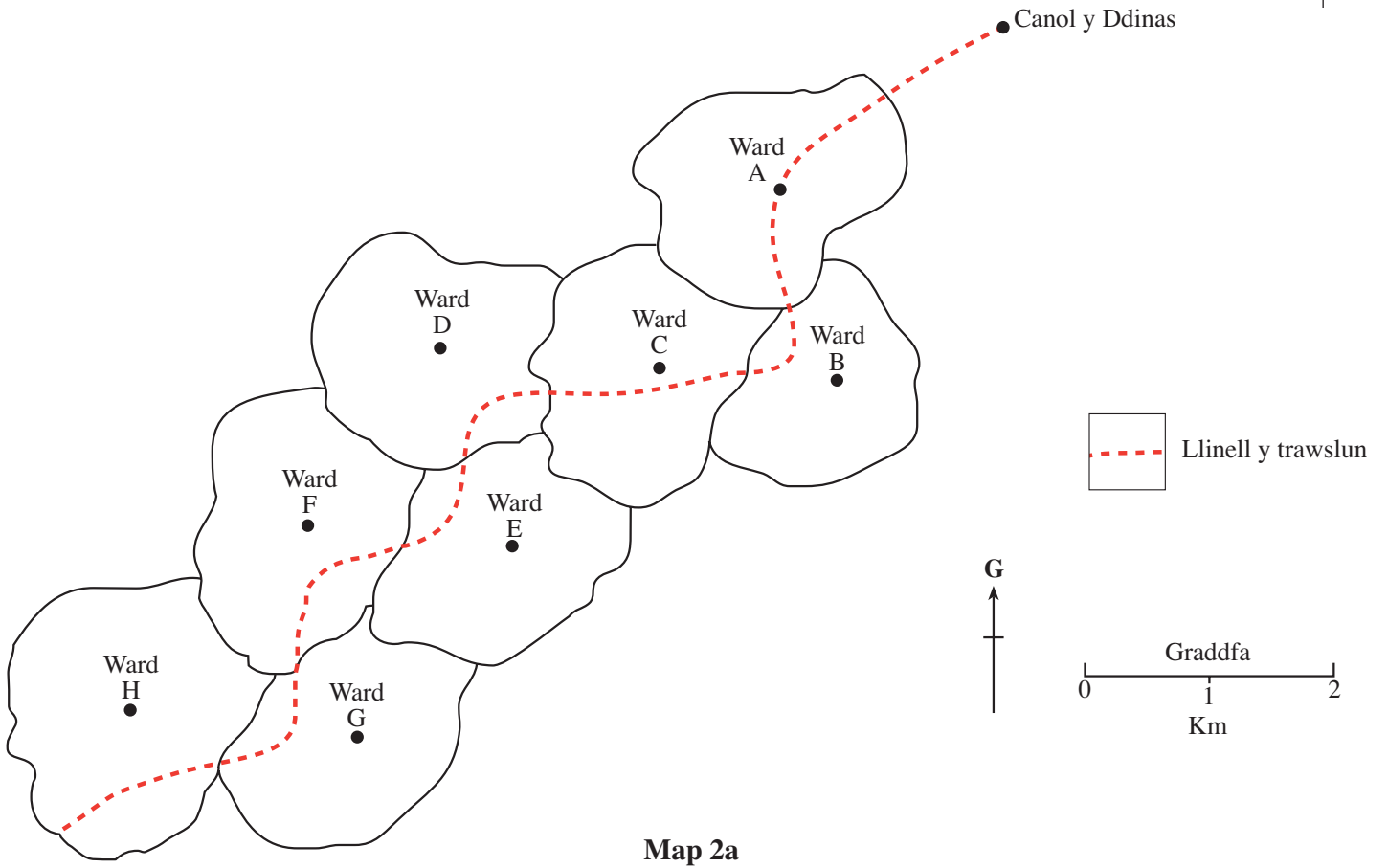
- (b) Amlinellwch **ddwy** anfantais o ddefnyddio techneg coropleth i ddangos y patrymau amddifadiad hyn. [2]

1. ....

.....

2. ....

.....



4. Mae'r map, ynghyd â'r wybodaeth yn **Nhabl 1**, yn awgrymu'n gryf fod y trawslun a ddewisodd y fyfyrwraig yn dangos patrwm o amddifadiad o ganol y ddinas tuag allan. Hyd yn hyn, mae'r wybodaeth a ddefnyddiwyd ganddi ar ffurf data eilaidd o'r Cyfrifiad Cenedlaethol.

Ystyriwch pa ddata **cynradd** y gallai'r fyfyrwraig eu casglu i'w helpu i gadarnhau patrwm yr amddifadiad ar hyd y trawslun hwn. Cyfiawnhewch eich awgrymiadau. [6]

.....

.....

.....

.....

.....

.....

.....

.....

.....

.....

.....

.....

.....

.....

.....

.....

.....

.....

.....

.....

.....

.....

.....



A series of horizontal dotted lines for writing.