



# Coimisiún na Scrúduithe Stáit

*An Ardteistiméireacht Fheidhmeach, 2015*

## Speisialachas Gairmiúil – Innealtóireacht (240 marc)

Dé Luain, 8 Meitheamh

Maidin 9:30 – 11:00

### *Treoracha Ginearálta d'Iarrthóirí*

1. Scríobh do **scrúduimhir** sa spás seo.
2. Freagair **gach** ceist i Roinn 1.
3. Freagair **trí cheist ar bith** as Roinn 2.
4. Scríobh do chuid freagraí sna spásanna atá ann dóibh agus bíodh sceitsí san áireamh de réir mar is cuí.
5. Tabhair suas an páipéar seo i ndeireadh an scrúdaithe.
6. Má thugtar faoi Cheist 7, freagair **dhá** thopaic **ar bith**.

<i>Don Fheitheoir amháin</i>	<i>Don Scrúdaitheoir amháin</i>	
<b>Stampa an Ionaid</b>	1. Iomlán na n-iomlán bun leathanaigh	
	2. Suim iomlán na gceisteanna dícheadaithe ar fad	
	3. An marc iomlán a bronnadh (1 lúide 2)	
	4. Bónasmharc don fhreagairt trí Ghaeilge (más cuí)	
	5. Marc iomlán a bronnadh má bhíonn Bónas Gaeilge i gceist (3 móide 4)	
	Nóta: Ní mór an marc i gcolún 3 (nó colún 5 má bhronntar Bónas Gaeilge) a bheith mar an gcéanna leis an marc iomlán ar an liopa i ndeireadh an pháipéir.	


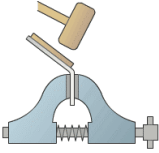



# Roinn 1 (90 Marc)

Freagair **gach ceann** de na trí cheist.

Roinn 1 C1.

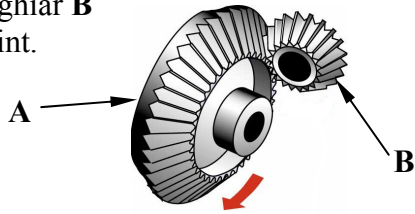
45 marc

Tabhair freagraí gearra ar **chúig cinn déag ar bith** díobh seo a leanas:  
(Tá cead agat sceitsí a úsáid chun do chuid freagraí a mhíniú.)

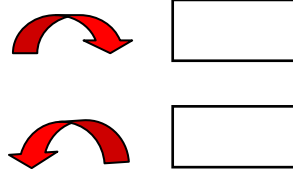
CEIST	FREAGRA
<p>(a) Cuir tic sa bhosca ceart le do thoil chun an cineál plaistigh is oiriúnaí ar féidir leis an stialltéitheoir a thaispeántar é a lúbadh.</p> 	<p>Plaisteach teirmithéachtach <input type="checkbox"/></p> <p>Teirmeaphlaisteach <input type="checkbox"/></p>
<p>(b) Luaigh cúis a bhfuil máilléad á úsáid chun an miotal a lúbadh mar a thaispeántar.</p> 	<p>Cúis: _____</p> <p>_____</p>
<p>(c) Ainmnigh an uirlis a thaispeántar thíos agus tabhair úsáid a bhaintear aisti sa seomra innealtóireachta.</p> 	<p>Ainm: _____</p> <p>Úsáid: _____</p> <p>_____</p>
<p>(d) Ainmnigh an próiseas ceangail a thaispeántar thall agus tabhair buntáiste <b>amháin</b> a bhaineann le húsáid a bhaint as.</p> 	<p>Ainm: _____</p> <p>Buntáiste: _____</p> <p>_____</p>
<p>(e) Ainmnigh an cnó a thaispeántar agus tabhair cúis a mbaintear úsáid as.</p> 	<p>Ainm: _____</p> <p>Cúis: _____</p> <p>_____</p>

CEIST	FREAGRA
-------	---------

(f) Tá gear A ag gluaiseacht sa treo a thaispeántar. Cuir tic sa bhosca chun treo gear B a thaispeáint.



Cuir tic sa bhosca ceart chun treo gear B a thaispeáint.



(g) Ainmnigh an chomhpháirt innealtóireachta a thaispeántar thall agus mol úsáid oiriúnach **amháin** di.



Ainm: \_\_\_\_\_

Úsáid oiriúnach: \_\_\_\_\_

\_\_\_\_\_

(h) Ainmnigh ábhar oiriúnach i ndéanamh chabhail an chairr bhréige marcáilte A agus tabhair cúis le do rogha ábhair.



Ábhar oiriúnach: \_\_\_\_\_

Cúis: \_\_\_\_\_

\_\_\_\_\_

(i) Mol ábhar oiriúnach a d'fhéadfai a úsáid i ndéanamh na cásála amuigh, marcáilte A, ar an ngléas móibileach a thaispeántar thall.



Ábhar oiriúnach: \_\_\_\_\_

\_\_\_\_\_

(j) Cuir tic sa bhosca ceart a léiríonn an dá mhíotal a úsáidtear chun an cóimhíotal, práis, a dhéanamh.




Stán agus Luaidhe

Copar agus Sinc

Copar agus Stán

CEIST	FREAGRA
-------	---------

**(k)** Ainmnigh an teicníc líofa a thaispeántar agus mol réamhchúram **amháin** sábháilteachta atá le comhlíonadh agus tú ag líomhadh.




Ainm na teicníce: \_\_\_\_\_

Réamhchúram sábháilteachta: \_\_\_\_\_

\_\_\_\_\_

\_\_\_\_\_

**(l)** Ainmnigh an mhír marcáilte **A** sa ghréasán píopaí a thaispeántar agus luaigh an chúis a n-úsáidtear í sa phluiméireacht.




A

Ainm: \_\_\_\_\_

Cúis: \_\_\_\_\_

\_\_\_\_\_

**(m)** Ainmnigh gné shábháilteachta **amháin** a chuirtear san áireamh agus an ciumhaisire gairdín a thaispeántar thíos á dhearadh.



Gné shábháilteachta: \_\_\_\_\_

\_\_\_\_\_

\_\_\_\_\_

**(n)** Mol cúis a bhfuil na rothaí tosaigh ar an gcathaoir rothaí a thaispeántar thall níos lú ná na rothaí deiridh.




Cúis: \_\_\_\_\_

\_\_\_\_\_

\_\_\_\_\_

**(o)** Ainmnigh an cineál scriú marcáilte **A** a d'úsáidfi chun an cléata a thaispeántar a ghreamú do bhonn bróg rothaíochta.



A

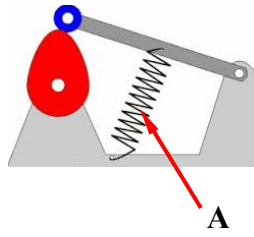
Cineál scriú: \_\_\_\_\_

\_\_\_\_\_

CEIST

FREAGRA

(p) Imlínigh an chúis atá leis an sprionga marcáilte **A** sa mheicníocht a thaispeántar thall.



Cúis: \_\_\_\_\_  
 \_\_\_\_\_  
 \_\_\_\_\_

(q) Ainmnigh an píosa trealaimh leictirigh a thaispeántar thíos agus tabhair úsáid oiriúnach a d'fhéadfaí a bhaint as.



Ainm: \_\_\_\_\_  
 Úsáid: \_\_\_\_\_  
 \_\_\_\_\_

(r) Ainmnigh an uirlis a thaispeántar thíos agus tabhair ábhar oiriúnach a bhféadfaí lann na huirlise a dhéanamh as.



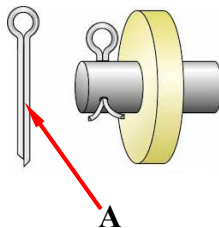
Ainm na huirlise: \_\_\_\_\_  
 Ábhar don lann: \_\_\_\_\_  
 \_\_\_\_\_

(s) Imlínigh réamhchúram sábháilteachta **amháin** ba chóir a chomhlíonadh agus péint aerosóil á húsáid.



Réamhchúram sábháilteachta: \_\_\_\_\_  
 \_\_\_\_\_  
 \_\_\_\_\_

(t) Ainmnigh an mhír marcáilte **A** agus mol úsáid oiriúnach di.

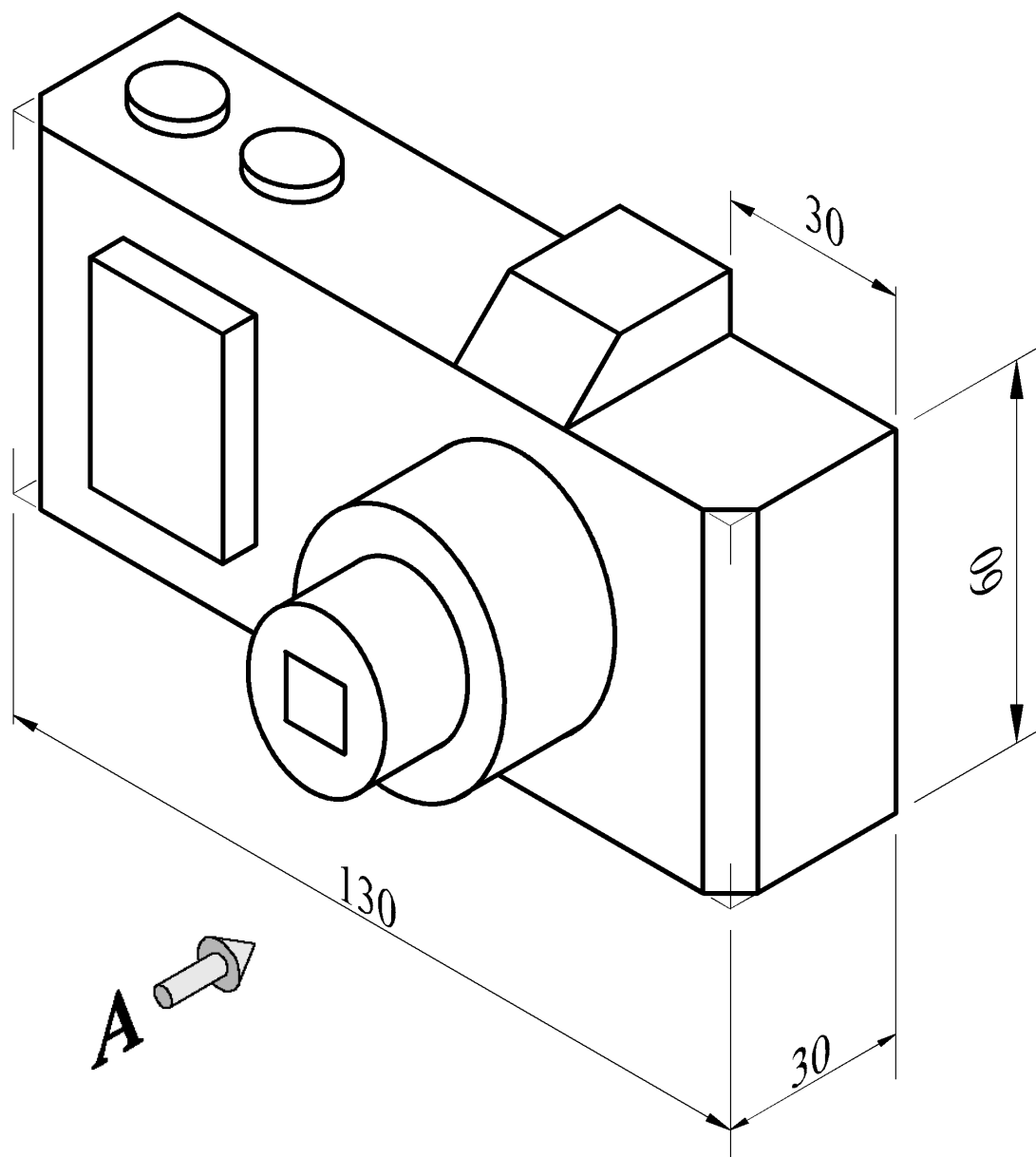


Ainm: \_\_\_\_\_  
 Úsáid: \_\_\_\_\_  
 \_\_\_\_\_

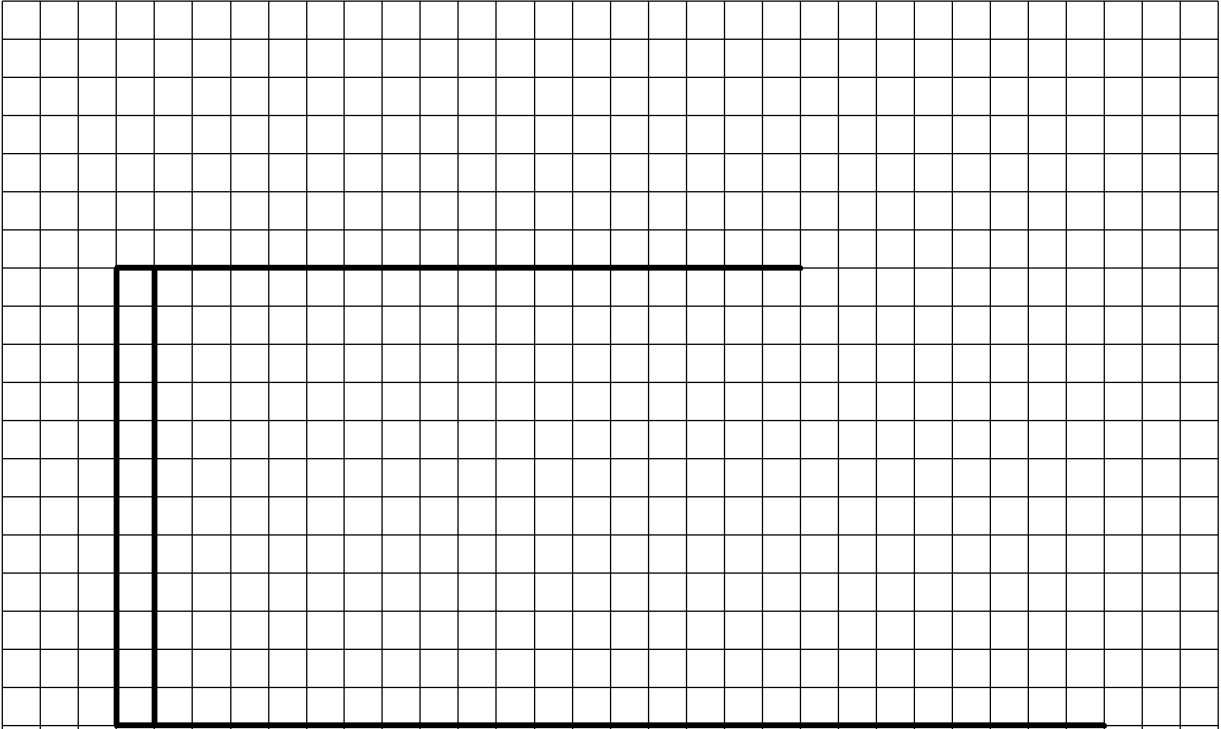
Taispeántar cló pictiúrtha de cheamara thíos.

Tarraing an **dá** chló seo a leanas den cheamara ar an bpáipéar greille thall:

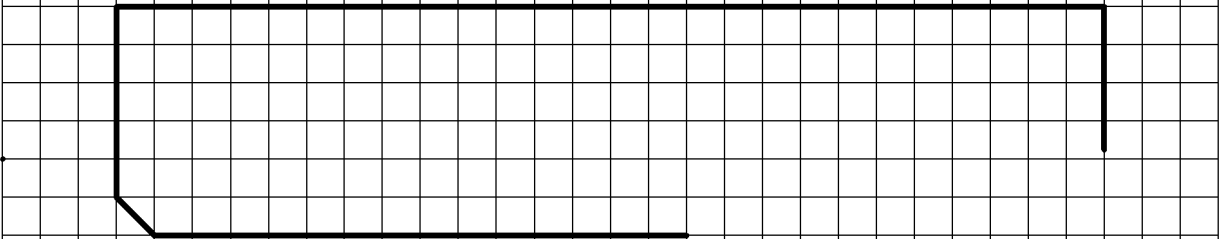
- (a) Aghaidhchló ag féachaint sa treo ina bhfuil saighead **A**;
- (b) Bonnchló a theilgean ó amharc (a).



Nóta: Seasann gach cearnóg den ghreille do 5 mm.




Críochnaigh an aghaidhchló.



Críochnaigh an bonnchló.

(a) Ainmnigh an dá phróiseas innealtóireachta a thaispeántar ag **A** agus ag **B** thíos. Luaigh **dhá** shampla de réamhchúraim shábháilteachta atá á gcomhlíonadh i **ngach** cás.



**A** - Ainm an phróiseas innealtóireachta:

\_\_\_\_\_

Réamhchúram Sábháilteachta 1:

\_\_\_\_\_

\_\_\_\_\_

Réamhchúram Sábháilteachta 2:

\_\_\_\_\_

\_\_\_\_\_

**B** - Ainm an phróiseas innealtóireachta:

\_\_\_\_\_

Réamhchúram Sábháilteachta 1:

\_\_\_\_\_

\_\_\_\_\_

Réamhchúram Sábháilteachta 2:

\_\_\_\_\_

\_\_\_\_\_

(b) Taispeántar seomra innealtóireachta scoile sa léaráid. Luaigh **dhá** réamhchúram sábháilteachta ba cheart a chomhlíonadh ag obair ina leithéid seo de thimpeallacht rangsheomra.

Réamhchúram Sábháilteachta 1: \_\_\_\_\_

\_\_\_\_\_

Réamhchúram Sábháilteachta 2: \_\_\_\_\_

\_\_\_\_\_





- (c) Ainmnigh **dhá** ghné shábháilteachta **ar bith** atá ag teastáil chun an deil láir a thaispeántar a úsáid go sábháilte.

Gné Shábháilteachta 1: \_\_\_\_\_

\_\_\_\_\_

\_\_\_\_\_

\_\_\_\_\_

Gné Shábháilteachta 2: \_\_\_\_\_






\_\_\_\_\_

\_\_\_\_\_

\_\_\_\_\_



- (d) Ainmnigh na siombail shábháilteachta a thaispeántar sa tábla thíos agus tabhair cur síos achomair ar **gach** siombail acu.

Siombail	Ainm	Cur Síos
	_____	_____
	_____	_____
	_____	_____
	_____	_____
	_____	_____

## Roinn 2 (150 Marc)

Freagair trí cheist ar bith.

Roinn 2

C4.

50 marc

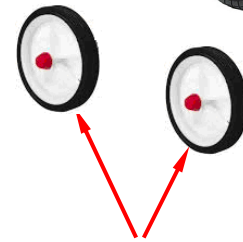
- (a) Dear, sna spásanna a thugtar, brac oiriúnach chun rothaí an chobhsaitheora a cheangal de rothar an pháiste.

Ba chóir go dtaispeánfadh an dearadh **gach** ceann díobh seo a leanas go soiléir:

- (i) Modh chun roth an chobhsaitheora a cheangal den bhrac;
- (ii) Modh trína bhféadfaí brac roth an chobhsaitheora a cheangal den rothair.

Tarraing i **nGreille A dhá** sceitse **ar a laghad** de smaointe éagsúla a chuir tú san áireamh le haghaidh dearadh bhrac roth an chobhsaitheora.

Tarraing i **nGreille B** sceitse den **réiteach deiridh** le haghaidh bhrac roth an chobhsaitheora.



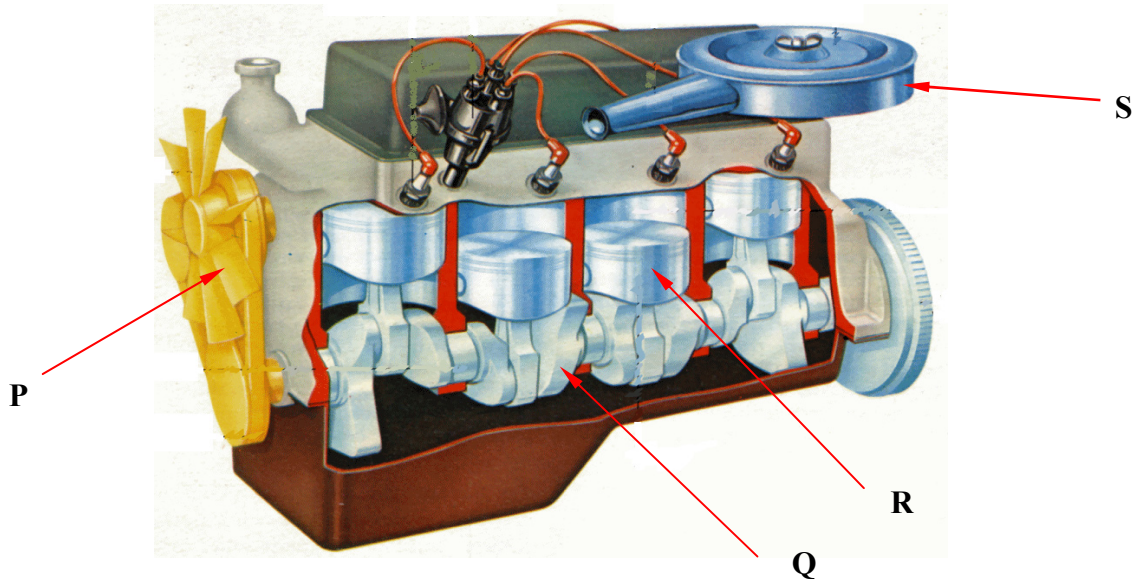
Rothaí cobhsaitheora

Ba chóir ar a laghad **dhá sceitse** de smaointe le haghaidh bhrac roth an chobhsaitheora a tharraingt thíos i **nGreille A**.

**Greille A - SMAOINTE**



- (a) Taispeántar léaráid de mhionsamhail d’inneall ceithre bhuille thíos. Ainmnigh cad is feidhm do **gach** ceann de na páirteanna lipéadaithe **P**, **Q**, **R** agus **S**, agus déan cur síos ar na feidhmeanna seo.



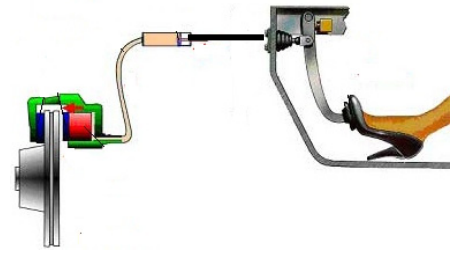
Páirt	Ainm na Páirte	Feidhm
P		
Q		
R		
S		

(b) Faightear an córas a thaispeántar thall i gcarr nua-aimseartha. Ainmnigh an córas agus déan cur síos ar cad is feidhm dó i gcarr nua-aimseartha.






Ainm: \_\_\_\_\_

Feidhm: \_\_\_\_\_

\_\_\_\_\_







(c) Ainmnigh **gach** ceann de na páirteanna cairr a thaispeántar agus déan cur síos ar cad is feidhm do **gach** páirt acu.

(i)		<p>Ainm: _____</p> <p>Feidhm: _____</p> <p>_____</p>
(ii)		<p>Ainm: _____</p> <p>Feidhm: _____</p> <p>_____</p>
(iii)		<p>Ainm: _____</p> <p>Feidhm: _____</p> <p>_____</p>
(iv)		<p>Ainm: _____</p> <p>Feidhm: _____</p> <p>_____</p>
(v)		<p>Ainm: _____</p> <p>Feidhm: _____</p> <p>_____</p>



(b) Taispeántar roinnt próiseas a bhaineann le miotalóireacht mhaisithe thíos. Sna spásanna a thugtar, déan cur síos achomair ar **gach** próiseas.

Ainm an Phróisis	Sampla den Phróiseas	Cur Síos ar an bPróiseas
Eitseáil		<hr/> <hr/> <hr/> <hr/> <hr/>
Repoussé		<hr/> <hr/> <hr/> <hr/> <hr/>
Cuasú		<hr/> <hr/> <hr/> <hr/> <hr/>
Cruanadh		<hr/> <hr/> <hr/> <hr/> <hr/>

(c) Luaigh **dhá** réamhchúram sábháilteachta is gá a chomhlíonadh nuair a bhíonn aigéad á úsáid chun copar a ghlanadh.

Réamhchúram Sábháilteachta 1: \_\_\_\_\_  
 \_\_\_\_\_

Réamhchúram Sábháilteachta 2: \_\_\_\_\_  
 \_\_\_\_\_

## **Modúl Córas**

(Áirítear **dhá** thopaic **ar bith** mar mhodúl iomlán.)

Freagair **dhá** cheann **ar bith** as na cúig topaicí a leanas:

Topaic (a) – Dearadh Ríomhchuidithe (CAD)

Topaic (b) – Leictreachas

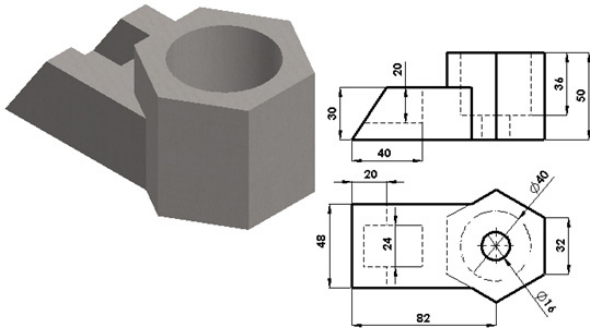
Topaic (c) – Leictreonaic

Topaic (d) – Meicníochtaí

Topaic (e) – Neomataic.



- (a) Taispeántar líníocht shimplí CAD de chomhpháirt mheaisín thíos. Liostaigh **ceithre** ordú CAD **ar bith** atá riachtanach chun an líníocht thíos a tháirgeadh.



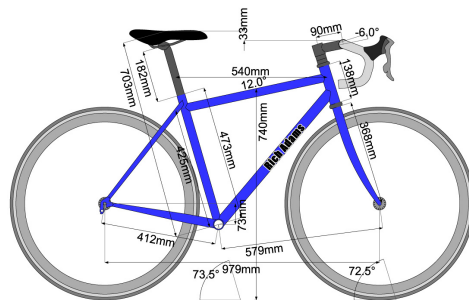
Ordú 1: \_\_\_\_\_

Ordú 2: \_\_\_\_\_

Ordú 3: \_\_\_\_\_

Ordú 4: \_\_\_\_\_

- (b) Taispeántar líníocht CAD de rothar rása nua-aimseartha. Liostaigh **trí** bhuntáiste a bhaineann le húsáid a bhaint as líníochtaí CAD in áit líníochtaí coinbhinsiúnacha traidisiúnta déanta le peann luaidhe.



Buntáiste 1: \_\_\_\_\_

\_\_\_\_\_

Buntáiste 2: \_\_\_\_\_

\_\_\_\_\_

Buntáiste 3: \_\_\_\_\_


\_\_\_\_\_

- (a) Taispeánann na léaráidí rós síleála tipiciúil le haghaidh feistiú solais. Comhlánaigh an tábla thíos sula liostaíonn tú dath ceart na sreinge do gach nasc.



Nasc	Dath na sreinge
Talamh (E)	
Beo (L)	
Neodrach (N)	

- (b) Ainmnigh an trealamh leictreach a thaispeántar thíos agus déan cur síos ar úsáid oiriúnach dó.



Ainm: \_\_\_\_\_

Úsáid: \_\_\_\_\_

\_\_\_\_\_

\_\_\_\_\_

\_\_\_\_\_

- (c) Ainmnigh **gach** ceann de na rudaí a thaispeántar thíos, a bhíonn á n-úsáid ag leictreoir, agus luaigh úsáid oiriúnach amháin do **gach** ceann acu.



Ainm: \_\_\_\_\_

Úsáid: \_\_\_\_\_

\_\_\_\_\_



Ainm: \_\_\_\_\_

Úsáid: \_\_\_\_\_

\_\_\_\_\_






Ainm: \_\_\_\_\_


Úsáid: \_\_\_\_\_

\_\_\_\_\_

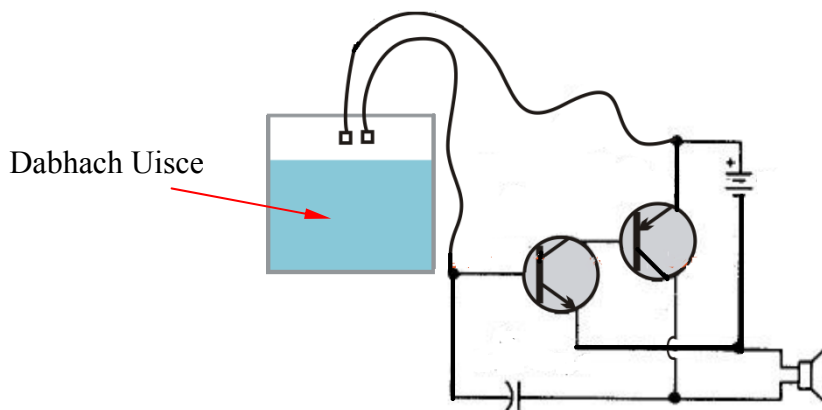
(a) Ainmnigh **gach** ceann de na comhpháirteanna a thaispeántar thíos agus luaigh úsáid oiriúnach do **gach** ceann acu.

 <p>Ainm: _____          Úsáid: _____          _____</p>	 <p>Ainm: _____          Úsáid: _____          _____</p>	 <p>Ainm: _____          Úsáid: _____          _____</p>
---	---	---

(b) Ainmnigh an chomhpháirt leictreonach agus mínigh an chúis atá leis na bandaí daite a thaispeántar.

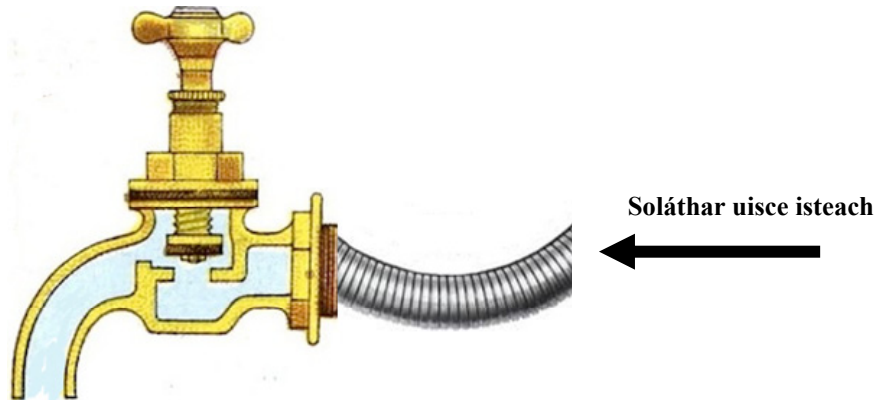
	<p>Ainm: _____</p> <p>An chúis atá leis na bandaí daite: _____          _____          _____</p>
--	--

(c) Taispeántar thíos ciorcad leictreonach d'aláram a chuireann leibhéal íseal uisce in iúl. Déan cur síos sa spás a thugtar ar an gcaoi a n-oibríonn an ciorcad leictreonach seo.



Cur Síos: \_\_\_\_\_  
 \_\_\_\_\_  
 \_\_\_\_\_  
 \_\_\_\_\_

- (a) Taispeánann an léaráid thíos trasghearradh ar sconna uisce seachtrach. Mínigh conas a oibríonn meicníocht an sconna.

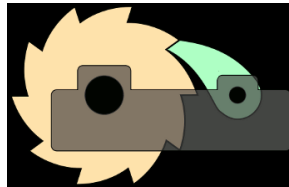


Míniú: \_\_\_\_\_  
 \_\_\_\_\_  
 \_\_\_\_\_  
 \_\_\_\_\_

- (b) Ainmnigh na meicníochtaí a thaispeántar thíos agus tabhair úsáid oiriúnach do **gach** ceann acu.



A



B



C

	Ainm	Úsáid
Meicníocht A		_____
Meicníocht B		_____
Meicníocht C		_____

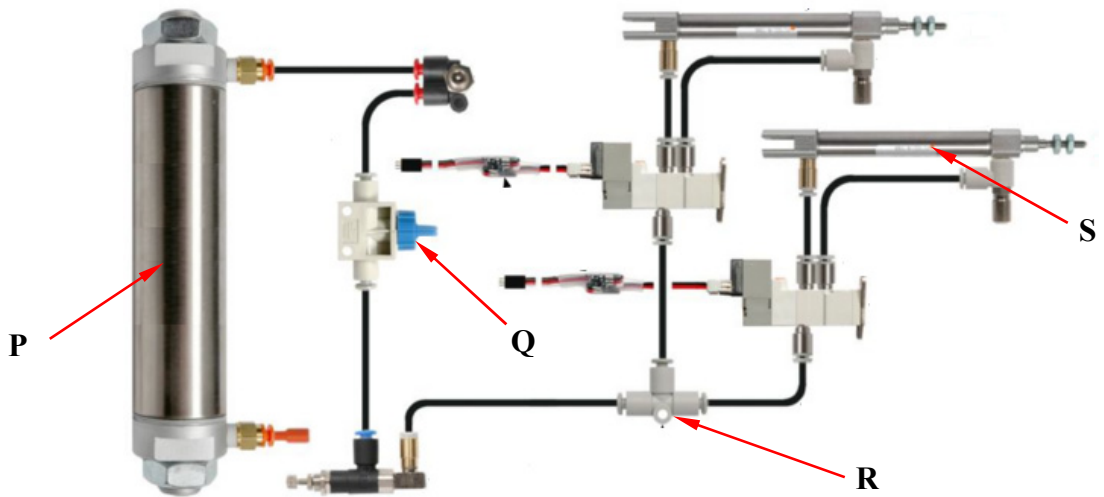
(a) Líon isteach an **dá** fhocal atá in easnamh sa ráiteas thíos.

*I gcóras neomatach, úsáidtear \_\_\_\_\_ brúchóirithe ach i gcóras hidrálach, úsáidtear \_\_\_\_\_ brúchóirithe chun smacht nó srian a chur ar fhuinneamh.*

(b) Tabhair buntáiste **amháin** a bhaineann le húsáid a bhaint as córas neomatach seachas córas hidrálach san innealtóireacht.

Buntáiste: \_\_\_\_\_  
 \_\_\_\_\_

(c) Ainmnigh na comhpháirteanna neomatacha **P**, **Q**, **R** agus **S** a thaispeántar thíos agus luaigh cad is feidhm do **gach** ceann acu.



	Ainm	Feidhm
P		
Q		
R		
S		

# **Leathanach Bán**

<b>Don Scrúdaitheoir Amháin</b>		
<b>Ceist</b>	<b>Marc</b>	<b>Iomlán</b>
<b>Roinn 1</b>		
1		
2		
3		
<b>Roinn 2</b>		
4		
5		
6		
7 (a)		
7 (b)		
7 (c)		
7 (d)		
7 (e)		
<b>Iomlán</b>		

# **Leathanach Bán**